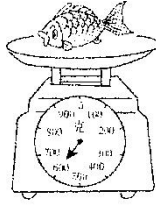





教材过关卷(4)


一、看图填空。(8分)



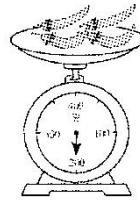
一条鱼重
()



一个南瓜重
()



男孩体重是
()



这些辣椒重
()


二、填上合适的质量单位。(12分)




5()



5()



300()



35()

三、选一选。(每题2分，共10分)

1. 要称1元硬币的质量，应用()。

- A. 磅秤 B. 天平 C. 弹簧秤

2. 16个鸡蛋大约重1()。

- A. 克 B. 千克 C. 吨

3. 1千克沙子的质量()1000克棉花的质量。


- A. > B. < C. =





4. 一块橡皮约重()。
- A. 4 千克 B. 20 克 C. 300 克
5. 一瓶酱油净重 750 克, 瓶重 250 克, 这瓶酱油连瓶重()。
- A. 500 克 B. 1 千克 C. 10 千克

四、连一连。(8 分)



2 克 190 千克 200 克 5 千克

五、在○里填上“>”“<”或“=”。(12 分)

4 吨○400 千克

5 千克○5000 克

60 千克○60 克

6000 克○6 吨

10 克○8 千克

300 千克○3 吨

六、填一填。(14 分)

5000 克=()千克

10 千克=()克

2000 千克=()吨

8 吨=()千克

()吨=13000 千克





$$3130 \text{ 千克} - 130 \text{ 千克} = (\quad) \text{ 千克} = (\quad) \text{ 吨}$$

七、请按从重到轻的顺序排列。(8分)

5005 千克 5 吨 6000 千克 6900 千克

八、解决问题。(6题8分，其余每题4分，共28分)

1. 如图，5袋挂面有多少千克？



2. 一壶油还剩下2500克，用去了多少克？



3. 要把1吨沙子运往建筑工地，一辆手推车每次能运200千克，运了4次，还剩多少千克没运？






4. 4 千克糖果，平均分给 5 个小朋友，每人可以分得多少？

5. 用两辆卡车能把这些动物一次运走吗？

鹿	马	牛	小象	小熊	熊猫
140	350	1200	2 吨	160	120
千克	千克	千克		千克	千克



6. 一个未关紧的水龙头 1 分漏水 50 克。

(1) 1 时漏水多少千克？

(2) 1 天漏水多少千克？





答案

一、600 克 3 千克 25 千克 200 克

二、千克 克 千克 吨

三、1. B 2. B 3. C 4. B 5. B

四、

苹果	曲别针	老虎	食用油
2 克	190 千克	200 克	5 千克

(Note: Lines connect 苹果 to 2 克, 曲别针 to 190 千克, 老虎 to 200 克, and 食用油 to 5 千克.)

五、> = > < < <

六、5 10000 2 8000 13 3000 3

七、6900 千克 > 6000 千克 > 5005 千克 > 5 吨

八、1. $400 \times 5 = 2000$ (克) 2000 克 = 2 千克

答: 5 袋挂面有 2 千克。

2. 5 千克 = 5000 克 $5000 - 2500 = 2500$ (克)

答: 用去了 2500 克。

3. 1 吨 = 1000 千克 $1000 - 200 \times 4 = 200$ (千克)

答: 还剩 200 千克没运。

4. 4 千克 = 4000 克 $4000 \div 5 = 800$ (克) 答: 每人可以分得 800 克。

5. 2 吨 = 2000 千克

$140 + 350 + 1200 + 2000 + 160 + 120 = 3970$ (千克)

$2000 \times 2 = 4000$ (千克)

4000 千克 > 3970 千克

答: 用两辆卡车能把这些动物一次运走。





6. (1)1 时=60 分

$$50 \times 60 = 3000(\text{克})$$

3000 克=3 千克 答：1 时漏水 3 千克。

(2)1 天=24 时

$$3 \times 24 = 72(\text{千克})$$

答：1 天漏水 72 千克。

