



第七单元测试卷 (A)

一、连一连。



$9+3$



$7+7$



$11-7$



$6+5$



$12-4$



$9+11$



$9+12$



$9+8$



$9+14$



$9+4$

二、算一算。

$8+7=$

$4+8=$

$9+8=$

$4+9=$

$9+6=$

$15-6=$

$12-4=$

$13-4=$

$18-9=$

$16-7=$

$7+9=$

$12-8=$

$5+6=$

$14-7=$

$5+7=$

三、填一填。

1. 乐乐有 8 个 \triangle , 再画()个 \triangle , 一共有 13 个 \triangle 。

2. 明明画了 7 个 \star , 亮亮画的和他一样多, 他俩一共画了()个 \star 。

3. 鸡和兔一共有 15 只, 它们可能分别有多少只?

	7 只	() 只	() 只	5 只
	() 只	9 只	8 只	() 只

四、在()里填上合适的数。

$6+()=13$

$7+()=5+6$

$6+9=()+7$

$()-5=6$

$7+7=5+()$

$8+()=10+7$

五、比一比, 填一填。



$9+5 \bigcirc 15$

$6+8 \bigcirc 7+8$

$9+5 \bigcirc 5+9$

$11-9 \bigcirc 5$

$11-7 \bigcirc 3$

$14-6 \bigcirc 7$

$13-7 \bigcirc 15-9$

$12+3 \bigcirc 8+9$

$11-6 \bigcirc 15-7$

六、在 \bigcirc 里填上 “+” 或 “-”。

$12 \bigcirc 7=5$

$4 \bigcirc 9=13$

$16 \bigcirc 7=9$

$11 \bigcirc 3=8$

$15 \bigcirc 6=9$

$7 \bigcirc 4=11$

$13 \bigcirc 7=6$

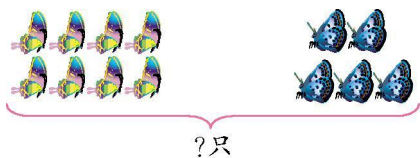
$12 \bigcirc 8=4$





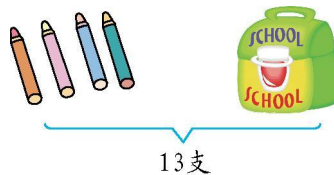
七、看图列式计算。

1.



$$\square \bigcirc \square = \square \text{ (只)}$$


2.



$$\square \bigcirc \square = \square \text{ (支)}$$


八、解决问题。

1. 一共有多少只小鸟?



$$\square \bigcirc \square = \square \text{ (只)}$$

2. 有 3 盒皮球, 李老师准备拿走其中的两盒。



(1) 李老师最多能拿走多少个?

$$\square \bigcirc \square = \square \text{ (个)}$$

(2) 最少能拿走多少个?

$$\square \bigcirc \square = \square \text{ (个)}$$

3. 一(1)班有 17 名同学获得二星级学生, 班主任准备奖励他们每人一支笔, 买哪两盒正好够? 用算式表示。




$$\square \bigcirc \square = \square \text{ (支)}$$

4. 小猴子们一共摘了 15 个桃子, 吃了 8 个, 还剩几个?

$$\square \bigcirc \square = \square \text{ (个)}$$

5. 第二组再植多少棵树, 就和第一组一样多了?



$$\square \bigcirc \square = \square \text{ (棵)}$$





参考答案

一、提示:得数分别是 12、14、4、11、8,连线略。

二、15 12 17 13 15 9 8 9 9 9 16 4 11

7 12

三、1. 5

2. 14

3. 8 6 7 10

四、7 4 8 11 9 9

五、< < = < > > = < <

六、- + - - - + - -

七、1. $8+5=13$ 或 $5+8=13$

2. $13-4=9$

八、1. $9+4=13$

2. (1) $6+8=14$ (2) $4+6=10$

3. $8+9=17$

4. $15-8=7$

5. $14-9=5$

