



期中检测卷

一、口算我最棒。(12分)

$30+20=$ $38-4=$

$35-7=$ $24+6=$

$40+26=$ $78-40=$

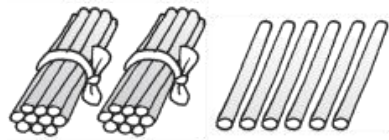
$60-30=$ $45+8=$

$64-6=$ $62-8=$

$36+20=$ $97-90=$

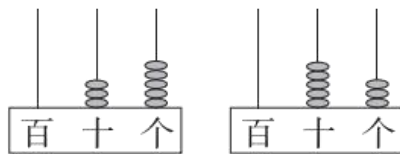
二、填一填。(8、9题每题2分，11题3分，其余每空1分，共32分)

1.



()

2.



() ○ ()

3. 60 里面有()个十。

4. 100 里面有()个十，有()个一。





5. 2 个十和()个一合起来是 28, 6 个一和 3 个十合起来是()。

6. 和 55 相邻的两个数是()和()。

7. 按规律填数。

(1)22、25、28、()、()、37。

(2)()、75、70、65、()、()。

8. 比 30 大并且比 40 小的数中, 单数有()。

9. 从 10 到 50 中, 个位上是 6 的数有()。

10. 看钟表, 写时间。



() 时



大约() 时



() 时半



大约() 时

11. 把 24、40、57、89、19、77 这六个数按从大到小的顺序排列。

() > () > () > () > () > ()

12. 数一数。



() 个长方形

() 个三角形





()个正方形

()个圆

()个平行四边形

三、在 \bigcirc 里填上 “>” “<” 或 “=”。(12分)

$$65-5 \bigcirc 65-50$$

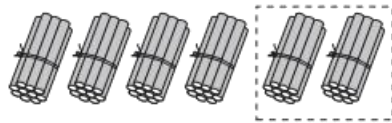
$$84-40 \bigcirc 48-4$$

$$60+8 \bigcirc 90-20$$

$$84-9 \bigcirc 31+20$$

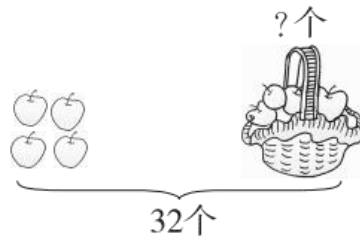
四、看图列式计算。(每题4分, 共12分)

1.



$$\square \bigcirc \square = \square \text{ (根)}$$

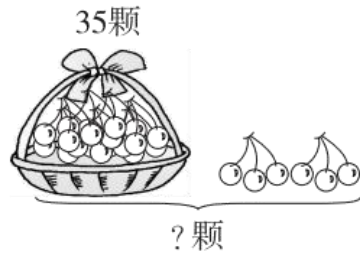
2.



$$\square \bigcirc \square = \square \text{ (个)}$$

3.





$$\square \bigcirc \square = \square \text{ (颗)}$$

五、猜一猜。(在合适的答案下面画“√”)(每题3分，共6分)



1. 小明可能跳了多少下?

35 下	42 下	85 下
<input type="checkbox"/>	<input type="checkbox"/>	<input type="checkbox"/>

2. 小芳可能跳了多少下?

42 下	8 下	85 下
<input type="checkbox"/>	<input type="checkbox"/>	<input type="checkbox"/>


六、生活中的数学。(1题4分，2题12分，其余每题5分，共26分)

1. 一共有多少个小朋友要拍照?





每个小朋友要拍一张照片，
我已经拍了28张，还有6个
小朋友没有拍。



$$\square \bigcirc \square = \square \text{ (个)}$$

2.



36元



7元



10元

(1)买一个茶壶和一个水杯要花多少元？

$$\square \bigcirc \square = \square \text{ (元)}$$

(2)一个茶壶比一个垃圾桶贵多少元？

$$\square \bigcirc \square = \square \text{ (元)}$$



(3)你还能提出什么问题？并解答。

3. 小灰兔还要采几个就和小白兔采的一样多？





$$\square \bigcirc \square = \square \text{ (个)}$$

4. 花店卖出 35 盆  ，还剩下 9 盆  ，花店原来一共有多少

盆  ？

$$\square \bigcirc \square = \square \text{ (盆)}$$





答案

一、 50 34 28 30 66 38 30 53 58 54 56 7

二、 1. 26 2. 35 < 53

3. 6

4. 10 100

5. 8 36

6. 54 56

7. (1)31 34 (2)80 60 55

8. 31、33、35、37、39

9. 16、26、36、46

10. 10 3 1 9

11. 89 77 57 40 24 19

12. 2 7 3 1 1

三、 > = < >

四、 1. $60-20=40$ (根)

2. $32-4=28$ (个)

3. $35+6=41$ (颗)

五、 1.

35 下	42 下	85 下
	√	

2.





42 下	8 下	85 下
		√

六、1. $28+6=34$ (个)

2. (1) $36+7=43$ (元)

(2) $36-10=26$ (元)

(3) 一个茶壶比一个水杯贵多少元?

$36-7=29$ (元)

点拨：(3)题答案不唯一。

3. $25-7=18$ (个)

4. $35+9=44$ (盆)

