



第四单元达标测试卷

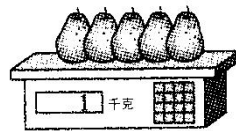
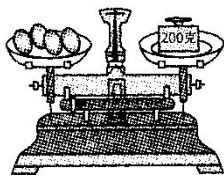
一、填一填。(6题3分, 其余每空1分, 共38分)

1. 千克用字母表示记作(), 克用字母表示记作(),
它们之间的关系是()。

2.



小明



小明的体重是() 2个鸡蛋重() 1个梨重()

3. 2000 克=()千克 6 吨=()千克
8 千克=()克 ()千克=10 吨
5200 克=()千克()克 56000 千克=()吨
300 克+700 克=()千克 1 吨-700 千克=()千克

4. 在括号里填上合适的单位名称。

一个苹果约重 100() 一个鸡腿约重 220()
一个篮球约重 260() 一根火腿肠约重 100()
一本数学书约重 300() 一袋大米重 15()
一个西瓜约重 5() 一只大熊猫约重 80()
一辆大卡车载重 10() 一只鹦鹉约重 200()

5. 在○里填上“>”“<”或“=”。

809 克○8 千克 106 千克○160 克 2 千克○1200 克





1000 千克 ○ 2 吨 500 克 ○ 5 吨 6200 千克 ○ 600 吨
70 千克 ○ 7000 克 6 吨 ○ 6 千克

6. 按从重到轻的顺序排列。

1900 千克 1 吨 10 克 80000 克

7. 水果市场有 1 吨龙眼, 卖出 550 千克后, 还剩下() 千克龙眼。

8. 西瓜每千克售价 15 元, 超市卖出 43 千克西瓜, 共收入() 元钱。

二、选一选。(每题 2 分, 共 6 分)

1. 18 个 2 分硬币大约重 18()。

A. 吨 B. 千克 C. 克

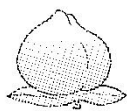
2. 1 千克石块的质量() 1000 克棉花的质量。

A. 大于 B. 等于 C. 小于

3. 如果 2 个甜瓜的质量等于 6 个苹果的质量, 9 个苹果的质量等于 1 个西瓜的质量, 那么 1 个西瓜的质量等于() 个甜瓜的质量。

A. 2 B. 3 C. 6


三、圈出下列物体的正确质量。(8 分)



2 克

200 克

2 千克



500 克

50 千克


5 吨



2 千克

20 千克

200 千克



7 克



70 克

700 克





四、连一连。(5分)



200 千克

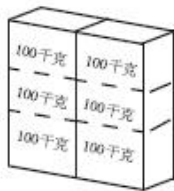
15 千克

160 克

2 克

3 千克

五、根据你的经验判断下列事物的质量。比 1 吨重的在 里涂红色，
比 1 吨轻的涂绿色。(4分)



六、仔细辨别后, 按要求做题。(1 题 4 分, 2 题 5 分, 共 9 分)

1. 认真想, 仔细填。

(1) 一头蓝鲸体重约 100()。(填上合适的单位)

(2) 买 500 克苹果需要 4 元, 现有 8 元可买() 千克这样的苹果。

2. 判断。

(1) 一艘油轮可载重 2000 千克。 ()

(2) 1 吨比 999 千克重 1 克。 ()

(3) 爸爸的身高是 175 厘米, 体重是 80 克。 ()

(4) 1 支钢笔约重 15 千克。 ()

(5) 1 袋盐重 500 克, 两袋盐重 1 吨。 ()






3. 某薯条加工厂 6 小时加工了 216 千克薯条，平均每小时可收入多少元？



薯条：24元/千克

4. 某公司收购苹果 26 吨，已经运走 6000 千克，剩下的计划用载重量为 4 吨的卡车一次运完，请问至少需要几辆这样的卡车？



载重量为4吨

5. 三箱糖果共重 60 千克，如果从第一箱取出 3 千克放入第二箱，又从第二箱取出 5 千克放入第三箱，结果三箱糖果一样重，求三箱糖果原来各重多少千克。(提示：可以从结果入手，试试看)





答案

一、1. kg g 1 千克=1000 克(或 $1\text{kg}=1000\text{g}$)

2. 30 千克 100 克 200 克

3. 2 6000 8000 10000 5 200 56 1 300

4. 克 克 克 克 克 千克 千克 千克 吨 克

5. < > > < < < > >

6. 1900 千克 > 1 吨 > 80000 克 > 10 克

7. 450 [点拨] 1 吨=1000 千克, $1000-550=450$ (千克)。

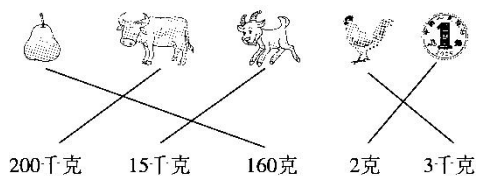
8. 645 [点拨] $15\times 43=645$ (元)。

二、1. C 2. B

3. B [点拨] 由 2 个甜瓜的质量等于 6 个苹果的质量可知, 1 个甜瓜的质量等于 3 个苹果的质量, 那么 9 个苹果的质量就等于 3 个甜瓜的质量, 即 1 个西瓜的质量等于 3 个甜瓜的质量。

三、(圈图略) 分别圈出: 200 克 5 吨 2 千克 70 克

四、



五、涂红色 涂绿色 涂绿色 涂红色

六、1. (1)吨 (2)1 [点拨] $8\div 4\times 500=1000$ (克), 1000 克=1 千克。

2. (1)× [点拨] 应是 2000 吨。

(2)× [点拨] 1 吨=1000 千克, 1000 千克-999 千克=1 千克。

(3)× [点拨] 体重应是 80 千克。

(4)× [点拨] 应是 15 克。





(5)× [点拨]两袋盐重 $500 \times 2 = 1000$ (克) = 1 千克。

七、时 分 元 厘米 米 厘米 吨 千克

八、1. $52 \times 3 - 48 = 108$ (千克)

$$108 \div 2 = 54$$
(千克)

答: 丙桶装油 54 千克。

2. $25 + 62 = 87$ (千克) 9000 克 = 9 千克

$$87 - 9 = 78$$
(千克)

答: 爷爷的体重是 78 千克。

3. $216 \div 6 \times 24 = 864$ (元)

答: 平均每小时可收入 864 元。

4. 6000 千克 = 6 吨

$$(26 - 6) \div 4 = 5$$
(辆)

答: 至少需要 5 辆这样的卡车。

5. $60 \div 3 = 20$ (千克)

第一箱: $20 + 3 = 23$ (千克)

第二箱: $20 - 3 + 5 = 22$ (千克)

第三箱: $20 - 5 = 15$ (千克)

答: 三箱糖果原来分别重 23 千克, 22 千克, 15 千克。

[点拨]从结果入手, 当三箱糖果一样重时, 分别是 20 千克,
再倒着算出原来的质量。

