



第六单元测试卷及答案


一、请你填一填。(每空1分, 共28分)


1、一年有()个月, 其中每个31天的有()、()、()、()、()、()、(), 共有七个月; 每月30天有的()、()、()、()共四个月, 二月份平年有()天, 闰年有()天。


2、36个月=()年 48时=()日
半年=()个月 18个月=()年()个月

3、中华人民共和国是1949年10月1日成立的, 到今年10月1日是()周年。

4、6月1日前一天是()月()日, 6月30日后一天是()月()日

5、 是1988年3月3日出生的, 到今年3月3日, 他是()岁。

6、 12:35分出发, 下午4:00到达, 中间经过了()时()分。


7、 营业时间是7:30—20:30, 这个商店每天营业时间是()小时。

二、判断。(正确的打“√”, 错误的打“×”)(每题1分, 共10分)

1、时针在一天里正好走1圈。()

2、每年都是365天。()


3、冬冬出生于1994年2月29日。()

4、 早上8:30分上班, 中午11:00下班, 她上午工作了2小时30分。

5、一年中有7个大月, 5个小月。()

6、从上午10时到下午5时, 共经过7时。()

7、只要公历年份是4的倍数, 这一年一定是闰年。()

8、 开出的时间是19时25分, 也就是晚上7时25分。()。

9、2012年8月1日是星期三, 8月31日是星期五。()





10、今年妈妈比丽丽大 25 岁, 5 年后, 妈妈比丽丽大 20 岁。()


三、选择。(每题 1 分, 共 10 分)

1、下列年份中不是闰年的是 ()。

A、2000 年 B、2008 年 C、1902 年 D、2004 年

2、一部电影从下午 4 时 25 分开始播放, 共播放 1 时 30 分, () 结束。


A、5 时 55 分 B、17 时 55 分 C、下午 5 时 50 分 D、17 时 50 分

3、 是在 () 年 2 月 29 日出生的。

A、1986 B、1948 C、1938 D、1982


4、2008 年的上半年有 () 天

A、181 B、184 C、182 D、183

5、 的生日比“八一”建军节早一天, 他的生日是 ()

A、7 月 30 日 B、7 月 31 日 C、8 月 2

日

6、叔叔要乘  从上海去广州, 火车发车时间为 21 时 35 分, 叔叔从家到车站要用 40 分钟, 发车前 5 分钟停止检票, 叔叔最晚 () 出发才不会误了火车。

A、晚上 8 时 50 分 B、晚上 10 时 55 分

C、21 时 50 分 D、21 时 55 分

7、阅览室上午 8: 00—12: 00 开放, 下午 1: 30—下午 4: 00 开放, 全天共开放 ()。

A、4 小时 B、2 小时 30 分 C、6 小时 D、6 小时 30 分

8、下面的年份中是平年的有 () 年。

A、1848 B、1980 C、1997 D、2000

9、晚上 8 时用 24 时计时法表示是 () 时。

A、9 B、21 C、20 D、晚上 20

10、在一天里, 时针正好走 () 圈。

A、1 B、2 C、24 D、12

四、试着做。(每空 1 分, 共 18 分)





(1) 用 24 时计时法表示下面的时刻

下午 5 时() 上午 8 时 15 分() 中午 12 时()
晚上 9 时() 凌晨 3 时() 晚上 11 时()

(2) 用普通计时法表示下面的时刻

7 时() 10 时 25 分() 23 时 35 分()
15 时 40 分() 21 时 8 分() 18 时()

(3) 帮我找找家

1995 2000 1997 1994 2004 2010

平年:

闰年:

五、找朋友。(连线)(共 6 分)


教师节 8 月 1 日 劳动节 10 月 1 日

妇女节 9 月 10 日 儿童节 5 月 1 日

建军节 3 月 8 日 国庆节 6 月 1 日

六、解决问题。(1、2 题每题 4 分，3——6 题每题 5 分)

1、张昊和同学一起去郊游，路上用了 1 小时 45 分，上午 8 时到达目的地，他们是几点出发的？

2、 21 时 15 分发车，第二天早晨 5 时 25 分到站，列车行驶了多长时间？





3、一场排球赛，从 17 时 30 分开始，进行了 155 分钟，比赛什么时候结束？



4、红红买了一本 125 页，每天读 9 页，从 8 月 20 日开始读，她能在 9 月 1 日开学前读完这本书吗？



5、以每小时 60 千米的速度从甲城开往乙城。上午 9 时发车，下午 4 时到达，甲、乙两城相差多少千米？

6、丫丫早上 7:30 到学校，上午 11:00 回家，下午 2:00 又到学校，直到 16:30 到家，丫丫一天在学校多少小时？





答案

一. 1、 12 1 3 5 7 8 10 12

4 6 9 11 28 29

2、 3 2 6 1 6

3、 66

4、 5 31 7 1

5、 27

6、 3 25

7、 13

二. × × × √ × √ × √ √ ×

三. C B B C B A D C C A

四. (1) 17时 8时 15分 12时 21时 3时 23时

(2) 上午7时 上午10时 25分 晚上11时 35

下午3时 40分 晚上9时 8分 下午6时 分

(3) 平年: 1995 1997 1994 2010

闰年: 2000 2004

五. 教师节 9月10日 劳动节 5月1日

妇女节 3月8日 儿童节 6月1日

建军节 8月1日 国庆节 10月1日

六. 1、 8时—1时 45分=6时 15分

2、 21时 15分到 24时 经过了 2时 45分

2时 45分+5时 25分=8小时 10分钟

3、 155分钟=2小时 35分钟

17时 30分+2小时 35分钟=20时 5分

4、 31—20+1=12(天) 12×9=108(页) 所以读不完

5、 上午9时至下午4时 共经过了 7小时 60×7=420(千米)

6、 11时—7时 30分=3小时 30分钟

下午2: 00=14时 16时 30分—14时=2小时 30分钟

3小时 30分钟+2小时 30分钟=6小时

