

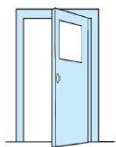


## 期末测试卷

一、填一填。(每空 1 分, 共 30 分)

1. 37 角=( )元( )角      2 米=( )厘米
2.  $2 \times 6 = ( )$  口诀: ( ), 读作: ( )乘( )等于( )。
3. 4 个 9 连加的和是( ), 9 与 4 的和是( )。
4. 算式  $20 \div 4 = 5$  中, 被除数是( ), 除数是( ), 商是( ), 读作( )。
5. 3 的 8 倍是( ), 这个数也是 6 的( )倍。

6.



教室门高约 2 ( )。      小朋友身高约 128 ( )。

7. 一张 20 元可以换( )张 10 元, 也可以换( )张 5 元。

8.  $3 \times 5 + 3 = ( ) \times 3$        $6 \times 8 - 8 = 8 \times ( )$

9. 按规律填数。


(1) 10, 15, 20, ( ), ( )。

(2) 45, 36, 27, ( ), ( )。

10. 一块蛋糕 4 元, 淘气有 15 元, 够买( )块蛋糕。

11. 70 减去 24, 差是( ), 再减去 27, 得( )。

12.



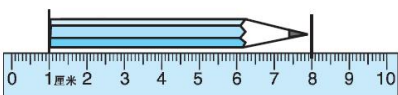
① 只能上下或左右平移, 那么 ① 移到 ② 最少要移 ( ) 格。





二、辨一辨。(对的在括号里画“√”, 错的画“×”)(每题 1 分, 共 5 分)

1. 两个乘数都是 3, 积是 6。 ( )
2. 计算  $32 \div 8$  和  $4 \times 8$  时可以用同一个口诀: 四八三十二。 ( )
3. 把 10 支笔分成 2 份, 每份一定是 5 支。 ( )
4. 28 是 7 的 4 倍, 也就是 28 里面有 4 个 7。 ( )



5. 这支铅笔长 6 厘米。 ( )

三、选一选。(把正确答案的序号填在括号里)(每题 2 分, 共 10 分)

1.  $35 > ( ) \times 6$  中, 括号里最大能填( )。

- ① 4                      ② 5                      ③ 6

2. 6 只  有( )条腿。

- ① 24                      ② 12                      ③ 10

3.  这个图形是用下图( )剪成展开的。

- ①       ②       ③       ④ 

4. 一根长 30 米的绳子, 可以剪成( )根长 5 米的绳子。

- ① 5                      ② 6                      ③ 24

5. 每辆车限乘 5 人, 4 辆这样的车能坐得下 23 人吗? ( )。

- ① 不能                      ② 能

四、计算挑战。(共 17 分)

1. 直接写得数。(每题 1 分, 共 8 分)

$16 \div 8 =$        $36 \div 9 =$        $8 \times 5 =$        $21 \div 7 =$





$49 - 7 =$        $14 \div 2 =$        $9 \times 3 =$        $8 \times 4 =$

2. 用竖式计算。(每题 3 分，共 9 分)

$92 - 76 + 35 =$        $27 + 37 + 36 =$        $80 - 24 - 16 =$

五、看图列式计算。(每题 4 分，共 12 分)



$\square \times \square = \square$

$\square \times \square = \square$

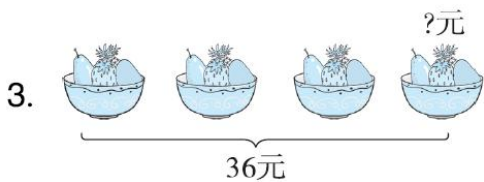
$\square \div \square = \square$

$\square \div \square = \square$

2.  $\triangle$  的个数是  $\circ$  的几倍?



$\square \circ \square = \square$



$\square \circ \square = \square$  (      )

六、走进生活，解决问题。(2 题 11 分，其余每题 5 分，共 26 分)

1. 停车场原有 18 辆大客车，36 辆小轿车，开走了 29 辆，现在停车场有多少辆车?



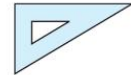


2. (1) 笑笑的钱正好可以买3本 ，笑笑有多少钱？



6元

(2) 如果用这些钱买 ，可以买多少个？



2元

3. 二(1)班有男生25人，女生28人。二(2)班的总人数比二(1)班少5人。二(2)班有多少人？

4. 水果店有28箱水果，上午卖出15箱，下午又运来12箱。水果店现在有多少箱水果？





## 答案

一、1.3 7 200

2. 12 二六十二 2 6 12

3. 36 13

4. 20 4 5 20除以4等于5

5. 24 4

6. 米 厘米

7. 2 4

8. 6 5【点拨】把相同的数看成每份的个数，不同的数看成份数，

如 $3\times 5+3$ ，3是相同的，把算式想成5个3加上1个3，合起来是6个3。

9. (1)25 30 (2)18 9

10. 3

11. 46 19 12.6

二、1.× 2.√ 3.× 4.√ 5.×

三、1.② 2.① 3.③ 4.② 5.①

四、1.2 4 40 3 42 7 27 32





2.  $92 - 76 + 35 = 51$      $27 + 37 + 36 = 100$

$$\begin{array}{r} \overset{\cdot}{9} 2 \\ - 7 6 \\ \hline 1 6 \\ + 3 \underset{1}{5} \\ \hline 5 1 \end{array}$$

$$\begin{array}{r} 2 7 \\ + 3 \underset{1}{7} \\ \hline 6 4 \\ + \underset{1}{3} \underset{1}{6} \\ \hline 1 0 0 \end{array}$$

$80 - 24 - 16 = 40$

$$\begin{array}{r} \overset{\cdot}{8} 0 \\ - 2 4 \\ \hline 5 6 \\ - 1 6 \\ \hline 4 0 \end{array}$$

五、1.3 4 12    4 3 12

12 3 4    12 4 3

2.  $10 \div 2 = 5$

3.  $36 \div 4 = 9(\text{元})$

六、1.  $18 + 36 - 29 = 25(\text{辆})$

答：现在停车场有 25 辆车。

2. (1)  $3 \times 6 = 18(\text{元})$

答：笑笑有 18 元钱。

(2)  $18 \div 2 = 9(\text{个})$

答：可以买 9 个。

3.  $25 + 28 - 5 = 48(\text{人})$

答：二(2)班有 48 人。

4.  $28 - 15 + 12 = 25(\text{箱})$

答：水果店现在有 25 箱水果。

**【点拨】**注意“卖出”用减法，“运来”用加法。

