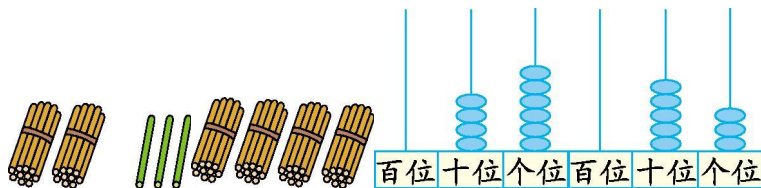




## 第一单元检测卷 (2)

### 一、看图写数。



( )                      ( )                      ( )                      ( )

### 二、填一填。

- 58 里面的“5”在( )位上,表示( )个( )。
- 四十七里面有( )个十和( )个一。
- 35 里面的“5”在( )位上,表示( )个( )。
- 6 个十和 6 个一是( ),读作:( )。
- 和 79 相邻的两个数是( )和( )。
- 比 91 小,比 88 大的数是( )和( )。
- 最大的两位数是( ),最小的两位数是( )。
- 小猴子摘了 38 个桃子,大猴子摘的比小猴子摘的多得多,大猴子可能摘了(96    42    35)个。(圈出正确的数)

### 三、判一判。(对的在括号里画“√”,错的画“×”)

- 和 80 相邻的两个数是 81 和 82。 ( )
- 36 后面第 5 个数是 41。 ( )
- 一个数个位是 9,十位是 8,这个数是 98。 ( )
- 十里面有 10 个十。 ( )

### 四、计算。

#### 1. 算一算。

$7+70=$	$40+5=$	$66-6=$	$83-80=$
$43-3=$	$4+60=$	$90+9=$	$3+40=$
$50-40=$	$97-7=$	$80-60=$	$50+5=$

#### 2. 按规律填数。

(1)

	40		60
--	----	--	----

69			
----	--	--	--





(2)

85		65	
----	--	----	--

		77	
--	--	----	--

3. 在○里填上“>” “<” 或“=”。

93 ○ 93-3      80 ○ 85-5      100 ○ 90+9      78-8 ○ 80

40+8 ○ 49      20+6 ○ 30      5+50 ○ 100      69-9 ○ 70

53-3 ○ 50      20 ○ 22-2      3+70 ○ 37      99 ○ 99-9


4. 从大到小排列下面各数。

47    28    55    45    69    76    58    79    67  
(   ) > (   ) > (   ) > (   ) > (   ) > (   ) > (   ) > (   ) > (   )

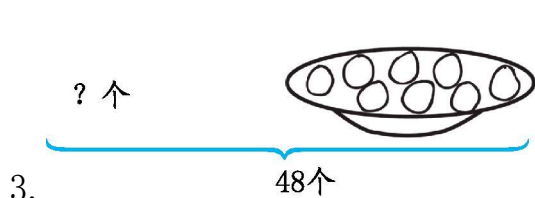
五、看图列式计算。



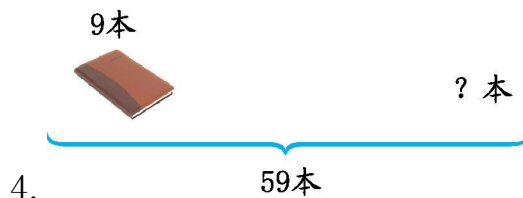
□ ○ □ = □



□ ○ □ = □



□ ○ □ = □ (个)



□ ○ □ = □ (本)

六、解决问题。

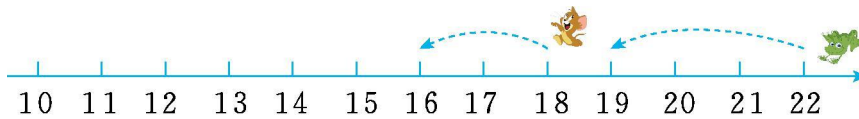
1. 学校去年栽了 30 棵树,今年又栽了 6 棵。现在学校有多少棵树?





2. 王强看一本 58 页的书,看了一些后,还剩 8 页。他已经看了多少页?

3. 小青蛙和小老鼠同时跳,小青蛙每次跳三格,小老鼠每次跳两格,到多少时,小青蛙追上小老鼠?





参考答案:

一、23 40 46 53

二、1. 十 5 十 2. 4 7 3. 个 5 一 4. 66 六十六

5. 78 80 6. 89 90 7. 99 10 8. 96

三、1. × 2. √ 3. × 4. ×

四、1. 77 45 60 3 40 64 99 43 10 90 20 55

2. (1) 30 50 79 89 99

(2) 75 55 97 87 67

3. > = > < < < < < = = > >

4. 79 > 76 > 69 > 67 > 58 > 55 > 47 > 45 > 28

五、1.  $30+5=35$  2.  $30+10=40$  3.  $48-8=40$  4.  $59-9=50$

六、1.  $30+6=36$ (棵) 2.  $58-8=50$ (页)

3. 到 10 时, 小青蛙追上小老鼠。

