



苏教版数学二年级下学期期末测试卷

一、直接写出得数

$12 \times 4 =$

$3 \times 31 =$

$50 \times 6 =$

$59 + 9 =$

$70 + 60 =$

$150 - 70 =$

$300 + 600 =$

$50 + 500 - 40 =$

$40 \times 5 =$

$32 \div 4 =$

$43 \times 2 =$

$25 + 15 + 90 =$

$400 + 40 =$

$550 - 500 =$

$820 + 70 =$

$48 + 30 =$

二、用竖式计算, 加法和减法题要验算

89×3

$405 + 297$

$804 - 746$

验算:

验算:

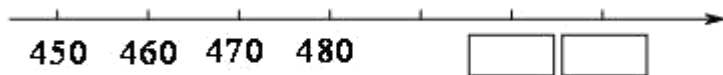
46×7

4×75

$327 + 245 + 159$

三、填空

1. 在 里填数。



2. 在括号里填上合适的长度单位。

课桌宽大约4 () 大树大约高8 ()

文具盒长大约25 () 数学书厚大约6 ()

3. 光华小学有学生893人, 虹景小学有学生938人, 西林小学有学生839人。三所小学中, 人数最多的学校比最少的多_____人。

4.



20个苹果, 每_____个放一盘, 放了_____盘, 还剩_____个。

学校_____ 班级_____ 姓名_____ 考试号_____

密 封 线 内 不 要 答 题

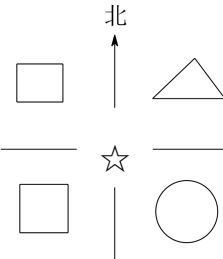




20个苹果, 放在_____个盘里, 平均每盘放_____个, 还剩_____个。

5. 量一量, 填一填。



6.  () 分米
长方形在☆的_____方向
圆在☆的_____方向
正方形在☆的_____方向

7 用 、、 三张卡片摆三位数, 能摆成 () 个不同的三位数, 把它们按照从大到小的顺序排列起来:

四、选择正确的答案, 在它右边的 里画

1. ☆ ? 9 5 中, 除数最小是多少?

4

5

6

2 铅笔每支 3 角, 拿 2 元钱去买, 尽可能多买, 最后还剩下几角?

1 角

2 角

3 角

3. 最接近 800 的数是哪一个?

80

880

790

4. 红花比黄花多 8 朵, 黄花有 20 朵, 红花有多少朵?

28 朵

20 朵

12 朵

5. 王叔叔买 45 条金鱼, 如果一个鱼缸里最多放 8 条金鱼, 他至少要准备多少个鱼缸?

5 个

6 个

7 个

6. 钟面上 5 时整, 时针和分针组成的角是什么角?

锐角

直角

钝角





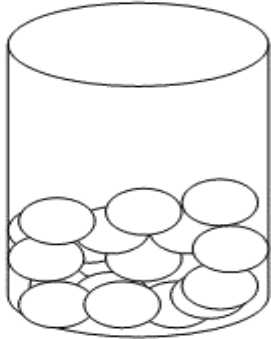
7. 做一根跳绳需要绳子 2 米多一些，做 50 根这样的跳绳可能需要绳子多少米？

90 米

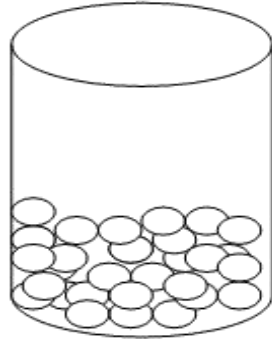
100 米

110 米

8.



花生米 200 颗



绿豆？颗

220 颗

180 颗

650 颗

五、解决实际问题

1.

三年级二班比三
年级一班多 3 人。



三年级三班比三
年级一班少 2 人。



把下面的表格填写完整。

| 班 级 | 合 计 | 三年级一班 | 三年级二班 | 三年级三班 |
|-----|-----|-------|-------|-------|
| 人 数 | 人 | 45 人 | 人 | 人 |

2 小红今年 9 岁，妈妈的年龄是小红年龄的 3 倍多 6 岁。妈妈今年多少岁？





3



买 5 个这样的足球, 付出 200 元, 应找回多少元?

4 学校有图书 200 本, 已经借出 128 本, 剩下的每个班分 8 本, 可以分给多少个班?





参考答案

一 (1' 16)

- | | | | |
|--------|-------|--------|--------|
| 1、48 | 2、93 | 3、300 | 4、68 |
| 5、130 | 6、80 | 7、900 | 8、510 |
| 9、200 | 10、8 | 11、86 | 12、130 |
| 13、440 | 14、50 | 15、890 | 16、88 |

二 (3' 6)

- | | | |
|-------|-------|-------|
| 1、267 | 2、702 | 3、58 |
| 4、322 | 5、300 | 6、731 |

三、(1' 21)

- 1、500 510
- 2、分米 米 厘米 毫米
- 3、99
- 4、6 3 2 3 6 2
- 5、略
- 6、西北 东南 西南
- 7、4 650 605 560 506

四、(2' 8)

- 1、6 2、2角 3、790 4、28朵
- 5、6个 6、钝角 7、110米 8、650颗

五 (9' 6' 6' 8')

- 1、136 48 43
- 2、 $9 \times 3 + 6 = 33$ (岁) 答: 略
- 3、 $200 - 5 \times 36 = 20$ (元) 答: 略
- 4、 $200 - 128 = 72$ (本) $72 \div 8 = 9$ (本) 答: 略

