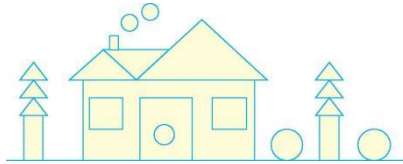








第九单元检测卷

(时间:60 分钟 分数:_____)

一、数一数, 填一填。(10 分)



1. 完成下面的表格。

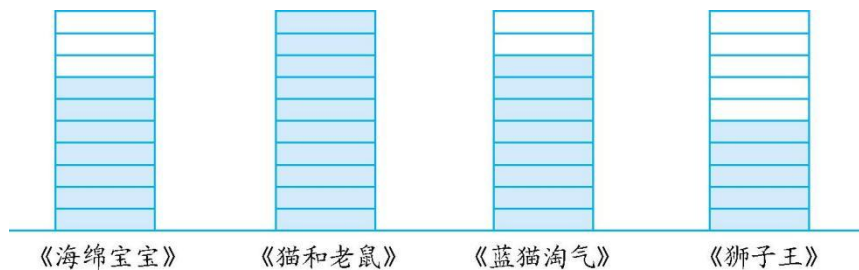
图形				
个数				

2. () 最多, () 最少。

3. 三角形比圆多 () 个, 正方形比长方形少 () 个。

4. 圆和正方形一共 () 个, 三角形和圆一共 () 个。

二、我们喜欢的动画片。(16 分)



1. 数一数, 填一填。(8 分)





《海绵宝 宝》	《猫和老 鼠》	《蓝猫淘 气》	《狮子 王》
()人	()人	()人	()人

2. 一共统计了()人。(2分)

3. 你还能提出什么数学问题? 试着解答出来。(6分)

三、动物王国要选班长, 谁能选上呢? 帮它们统计一下。(14分)

小刺猬	小熊	长颈鹿	小狗
√ √ √ √	√ √ √ √	√ √ √ √	√ √ √ √
√ √ √ √	√ √ √ √	√ √ √ √	√ √ √ √
√	√ √ √ √	√ √ √ √	√ √ √
		√	

1. 根据上表, 完成下面的统计表。(8分)


姓名	小刺猬	小熊	长颈鹿	小狗
票数				





2. () 得的票最多, 是() 票, 恭喜它当选班长!() 得的票数排第二, 大家选它当副班长。(6 分)

四、下图是 2013 年 4 月某地的天气情况。(21 分)



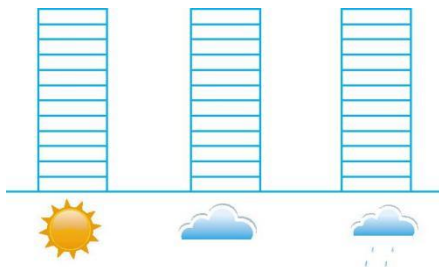
1. 继续整理。(6 分)

: _____

: _____

: _____

2. 涂一涂。(6 分)




3. 这个月() 天最多, () 天最少。(4 分)

4. 晴天比雨天多几天?(5 分)

五、动物园 A 区小动物的数量情况如下图。(19 分)





1. 根据左面的统计图填写下表。(8分)

()	()	()	()
头	只	只	只

2. ()的数量最多, ()的数量最少。(6分)

3. 小猴和熊猫一共有多少只?(5分)

六、小明调查本班学生课余活动情况如下表。(20分)

看电视	踢球	看书	兴趣班
10人	5人	6人	7人

1. 在下面的格子里涂色。(8分)

看电视

--	--	--	--	--	--	--	--	--	--	--	--

踢球

--	--	--	--	--	--	--	--	--	--	--	--





看书

--	--	--	--	--	--	--	--	--	--	--	--	--

兴趣班

--	--	--	--	--	--	--	--	--	--	--	--	--

2. () 的人数最多。喜欢看电视的比喜欢看书的多()人。

(6分)

3. 你还能提出其他的数学问题吗?试着解答出来。(6分)





第九单元检测卷

一、1. 5 9 5 2 2. 三角形 正方形 3. 4 3 4. 7 14

二、1. 7 10 8 5 2. 30

3. 答案不唯一, 如: 喜欢看《海绵宝宝》的比喜欢看《猫和老鼠》的少几人? $10-7=3$ (人)

三、1. 9 12 13 11 2. 长颈鹿 13 小熊

四、1. 提示: 晴天接着画 10 个“√”, 阴天接着画 6 个“√”, 雨天画 11 个“√”。

2. 提示: 晴天涂 12 格, 阴天涂 7 格, 雨天涂 11 格。

3. 晴 阴

4. $12-11=1$ (天)

五、1. 2 9 4 5 2. 小猴 大象 3. $9+5=14$ (只)

六、1. 提示: 看电视的涂 10 格, 踢球的涂 5 格, 看书的涂 6 格, 兴趣班涂 7 格。

2. 看电视 4

3. 答案不唯一, 如: 踢球的比看电视的少几人? $10-5=5$ (人)

