

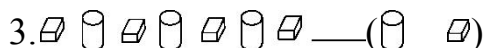




## 教材过关卷(10)

一、我会圈。(后面一个应该是什么)(每题4分,共16分)

1. □△△△□△△△□△△△\_\_\_\_(□ △)

2. △○□△○□△\_\_\_\_(□ ○)

3. \_\_\_\_(   )

4. □□△□□△□□\_\_\_\_(□ △)

二、自己涂上有规律的颜色。(每题4分,共12分)

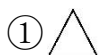
1. ○○○○○○○○○○

2. ☆☆☆☆☆☆☆☆☆

3. 

三、找规律,选一选。(每题5分,共15分)

1. △□○△□○△( )。



2.  ( )。

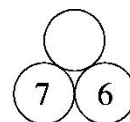
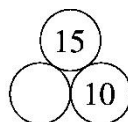
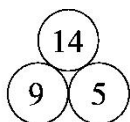
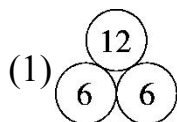



3.  ( )。



四、我会填。(1题8分,2题6分,共14分)

1. 想一想,填一填。



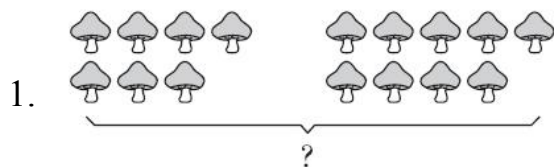


2.  $5+9=9+\text{☼}$      $\text{☼}=(\quad)$      $11+7=7+\text{☼}$      $\text{☼}=(\quad)$   
 $8+6=\text{☼}+8$      $\text{☼}=(\quad)$


五、按规律接着画。(每空 1 分，共 14 分)

- ▲▲▲▲▲▲▲▲▲▲
- △○○△○○△○
- ☆☆○☆☆○☆☆○
- ▴□▴□▴□
- 
- ☆○△□☆○△□☆○

六、看图列式计算。(每题 9 分，共 18 分)

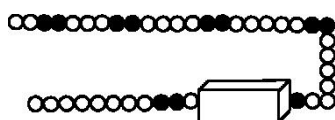


$7+\square=\square$      $9+\square=\square$      $7+\square=9+\square$



$\square\bigcirc\square=\square$      $\square\bigcirc\square=\square$   
 $\square\bigcirc\square=\square\bigcirc\square$

七、猜一猜盒子里有几颗珠子。(11 分)





## 答案

一、1.  2.  3.  4. 

二、1. ●○○●○○●○○

2. ★☆☆★☆☆★☆☆★

3.       

[点拨]答案不唯一，只要涂色有规律即可。

三、1. ② 2. ① 3. ①

四、1. (1)5 13 (2)15 7

2. 5 11 6

五、1.   2. ○

3. ☆ ☆ ○

4. ▴ □

5. ○ ○ □ □

6. △ □

六、1.  $7+9=16$  2.  $8+4=12$

$9+7=16$   $4+8=12$

$7+9=9+7$   $8+4=4+8$

七、7 [点拨]根据珠子排列的规律，盒子里从右往左应该是 1 颗黑珠子 6 颗白珠子，所以有 7 颗珠子。

