



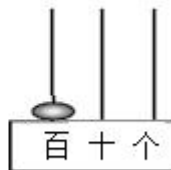
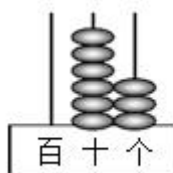
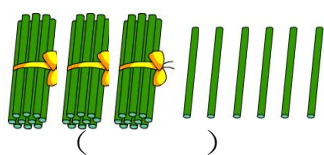
西师版数学一下期中检测题（1）

一、请你仔细算一算。

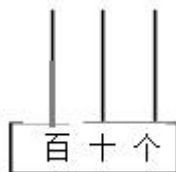
$87-6=$	$23+40=$	$60-20=$	$63+4=$
$15+32=$	$97-50=$	$23+32=$	$54-13=$
$13+5=$	$79-18=$	$7+51=$	$46-30=$
$30+60=$	$88-15=$	$62+6=$	$85-34=$

二、看一看，想一想，填一填，连一连

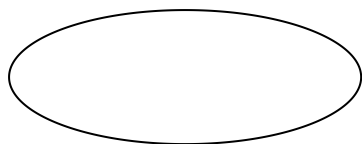
1、看图写数。（共3分）



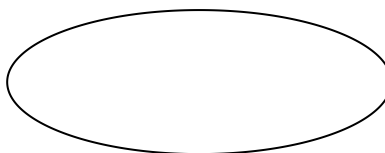
2、根据数字画珠子（4分）



3、按要求在圈里填写 100 以内的数（4分）

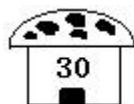


个位上是 6 的数



十位上比个位上小 3 的数

4、蚂蚁回家一连线。（10分）





三、请你仔细看，认真填！

- 1、从右边起，第一位是（ ）位，第二位是（ ）位，百位是第（ ）位。
- 2、一个数十位是4，个位是5，这个数是（ ）。
- 3、24的2在（ ）位上，表示（ ）个（ ），4在（ ）位上，表示（ ）个（ ）。
- 4、10个十是（ ），100里面有（ ）个一。
- 5、比99多1的数是（ ），比70少1的数是（ ）。
- 6、十位上是6，个位上是0的数是（ ）；个位上是7，十位上是6的数是（ ）。
- 7、最大的一位数是（ ），最小的两位数是（ ），最大的两位数是（ ），最小的三位数是（ ）。

四、在○里填上>、<或=

$$78-50+8 \quad \bigcirc \quad 75-15+10 \quad 38+56 \quad \bigcirc \quad 45+7+45 \quad 24-6 \quad \bigcirc \quad 58-40$$

五、理解题意，列式计算

- 1、小军做了20个☆，小华做了37个☆，小华比小军多做多少个？
- 2、小红做了48面小旗，送给幼儿园小朋友一些后，还剩8面，送走了多少面？
- 3、幼儿园小班有9辆玩具车，幼儿园中班有39辆玩具车，幼儿园大班有50辆玩具车，
(1) 幼儿园大班和小班一共有多少辆玩具车？





(2) 幼儿园小班再有几辆就和中班一样多？

4、踢毽子。

(1) 娟娟和英英一共踢多少下？



(2) 秀秀比娟娟多踢多少下？

(3) 你还能提出什么数学问题？





附参考答案

一、计算。81, 63, 40, 67, 47, 47, 55, 41, 18, 61, 58, 16, 90, 73, 68, 51;

二、填空。

1、36, 63, 100; 2、略; 3、6, 16, 26, 36, 46, 56, 66, 76, 86, 96;

14, 25, 36, 47, 58, 69; 4、上1一下2, 上2一下1, 上3一下2, 上4一下1,

上5一下1.

三、填空。

1、个, 十, 百; 2、45; 3、十, 2个十, 个, 4个一; 4、100, 100;

5、100, 69; 6、60, 67; 7、9, 10, 99, 100;

四、比大小。 $<$, $<$, $>$;

五、解决问题。

1、 $37 - 20 = 17$ (个)

2、 $48 - 8 = 40$ (面)

3、(1) $50 + 9 = 59$ (辆)

(2) $39 - 9 = 30$ (辆)

4、(1) $38 + 21 = 59$ (下)

(2) $53 - 21 = 32$ (下) (3) 略

