



小学二年级数学（下）单元测试

一、选择适当的方法进行统计。



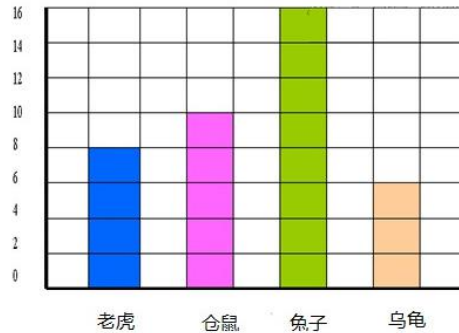
根据图片完成下面表格：

家 禽	小鸡 	小鸭 	小鹅 
只 数	() 只	() 只	() 只





二、看统计图，解决实际问题。

二年级二班最喜欢的动物统计图：


- 1、每小格代表 () 人。
- 2、喜欢 () 的人数最多。
- 3、喜欢兔子的比喜欢乌龟的多 () 。
- 4、你还能提出什么数学问题？



三、下面是一个月的天气统计情况。

	正 正 丁
	正 下
	正 一
	正

1、绘制统计图





2、这个月什么天气最多？

答：这个有（ ）最多。

3、阴天比雪天多几天？

答：阴天比雪天多（ ）天。

4、这个月有多少天？

答：这个月有（ ）天。

四、英才小学四个课外活动小组的学生人数情况如下：

数学小组：男生 17 人，女生 11 人。

生物小组：男生 10 人，女生 11 人。

航模小组：男生 16 人，女生 7 人。

美术小组：男生 15 人，女生 15 人。

1、根据上面的数据完成下面的统计表，并回答共答问题。

英才小学四个课外活动小组的学生人数情况统计表：单位/人

	数学小组	生物小组	航模小组	美术小组
男 生				
女 生				

2、（ ）小组的男生人数最多。

3、（ ）小组的女生人数最少。

4、四个小组的男生一共有多少人？

答：四个小组的男生一共有（ ）人。

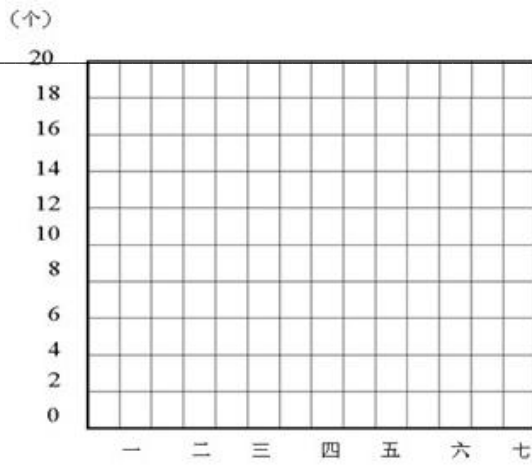
5、你还能提出什么问题？并解答。

五、小明一家一个星期仍塑料袋的情况如下表。

星期一	星期二	星期三	星期四	星期五	星期六	星期日
4	5	3	6	6	8	11

1、下图中的一个方格代表（ ）个塑料袋。





2、完成上面的统计图。

3、你从统计表中知道了什么？

4、请你预测小明家下星期可能丢多少个塑料袋？

答：小明家下星期可能丢（ ）个塑料袋。

六、下表是某小二年级和六年级各一个班体检视力情况统计表。

视力 班级 \ 人数	5.0 以上	4.9—4.7	4.6—4.3	4.2 以下
二（一）班	25	15	10	5
六（一）班	20	15	10	10

(1) 5.0 的视力是正常的，低于 5.0 的二（1）班有（ ）人，六（1）班有（ ）人。

(2) 5.0 以上的二（1）班比六（1）班多（ ）人，4.2 以下的二（1）班人数比六（1）班人数少（ ）人。

(3) 你认为这说明了什么问题？你想对同学提什么建议？





附参考答案

一、填表。6只，5只，7只

二、(1) 2，(2) 兔子，(3) 10人 (4) 略

三、1、略，2，晴天； 3、2天； 4、30天；

四、1、填表。17，10，16，15；

11，11， 7，15；

2、数学小组，

3、航模小组。

4、102人

5、略

五、1、2个； 2、画图略， 3、星期日扔塑料袋最多。星期三扔塑料袋最少；

4、约50个塑料袋；

六、(1) 30人，25人； (2) 5，5； (3) 年级越高，视力越差， 注意用眼卫生，保护视力。

