





第四单元测试卷 (B)

一、下面的分法,是平均分的画“√”,不是平均分的画“×”。




()



()

二、把 8 块糖平均分成 4 份,在分得正确的○里画“√”。



三、每盘放同样多的苹果,每个盘子里放()个。




四、请你把下面的小鸭子每 3 只分一组,并圈一圈。




一共有()只小鸭子,每 3 只分一组,可以分成()组。

五、涂一涂。



用 4 种颜色涂,每种颜色涂的方格数同样多。



用 6 种颜色涂,每种颜色涂的方格数同多。

六、看图填一填。

1. 12 个苹果,每 3 个放一盘,可以放()盘。




$$\square \bigcirc \square = \square \text{ (盘)}$$





2. 8 只兔子,平均装在 4 个笼子里,每个笼子里装()只兔子。



3.




18 块饼干,平均分给 3 个小朋友,每人分()块。

$$\square \bigcirc \square = \square \text{ (块)}$$

18 块饼干,平均分给 6 个小朋友,每人分()块。

$$\square \bigcirc \square = \square \text{ (块)}$$

4. 有 15 个草莓。



平均放在()个盘子里,每个盘子里放()个。

$$\square \bigcirc \square = \square \text{ (个)}$$

每 5 个放一盘,可以放在()个盘子里。

$$\square \bigcirc \square = \square \text{ (盘)}$$

七、把 12 支铅笔平均分给 4 个小朋友,每人分几支?如果平均分给 5 个小朋友呢?每个小朋友分几支?还剩几支?





参考答案

一、 ×

二、 ○ ○ ○

三、 4

四、(圈法不唯一)



12 4

五、(涂色略)提示:左边的图每种颜色涂 6 个方格,右边的图每种颜色涂 4 个方格。

六、1. 4 $12 \div 3 = 4$

2. 2 $8 \div 4 = 2$

3. 6 $18 \div 3 = 6$ 3 $18 \div 6 = 3$

4. 3 5 $15 \div 3 = 5$ 3 $15 \div 5 = 3$

七、 $12 \div 4 = 3$ (支) $2 \times 5 = 10$ (支)

$12 - 10 = 2$ (支)

