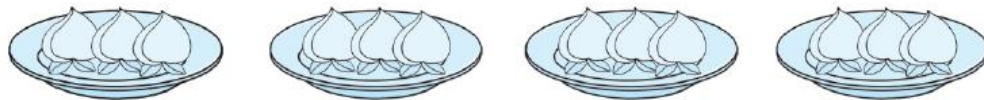




北京市名校期末测试卷

一、填一填。(3题5分, 4题1分, 其余每空1分, 共30分)

1.



有()个盘子, 每个盘子里有()个桃子, 一共有()个桃子。

2. (1) $6+6+6+6=()\times()$

(2) $5\times 3=()+()+()$

3. 先把口诀补充完整, 再根据口诀写出两道乘法算式和两道除法算式。

六八 ()

$$\square \times \square = \square$$

$$\square \times \square = \square$$

$$\square \div \square = \square$$

$$\square \div \square = \square$$

4. 1张 , 2张  和 4张 , 一共是 () 元 () 角。

5. ()里最大能填几?

$7 \times () < 22$

$9 \times () < 40$

$() \times 5 < 47$

$() \times 8 < 50$

$() \times 7 < 59$

$6 \times () < 45$

6. 在○里填上“>”“<”或“=”。

$6 \times 5 \bigcirc 5 \times 6$

$9 + 4 \bigcirc 9 \times 4$

$36 \div 9 \bigcirc 36 \div 6$

$99 \text{ 厘米} \bigcirc 1 \text{ 米}$

$3 \text{ 米} \bigcirc 30 \text{ 厘米}$

$10 \text{ 角} \bigcirc 2 \text{ 元}$

7. 在()里填上合适的长度单位。





(1)课桌面长约 60()。 (2)教室的宽约为 8()。

(3)楼房高约 10()。 (4)手指宽约 1()。

二、计算挑战。(共 26 分)

1. 看谁算得又对又快。(每题 1 分, 共 20 分)

$2 \times 6 =$ $25 \div 5 =$ $3 \times 7 =$ $32 \div 4 =$

$18 \div 3 =$ $4 \times 6 =$ $28 \div 4 =$ $9 + 9 =$

$6 + 8 =$ $9 \times 4 =$ $6 \times 5 =$ $7 \times 9 =$

$72 \div 9 =$ $48 \div 6 =$ $64 \div 8 =$ $81 \div 9 =$

$42 \div 7 =$ $9 \times 6 =$ $7 \times 7 =$ $56 \div 8 =$

2. 用竖式计算。(每题 2 分, 共 6 分)

$53 + 15 + 24 =$ $43 + 42 - 16 =$ $100 - 67 + 18 =$

三、按要求完成下列各题。(共 8 分)

1. 画一条比 6 厘米短, 比 2 厘米长的线。(2 分)

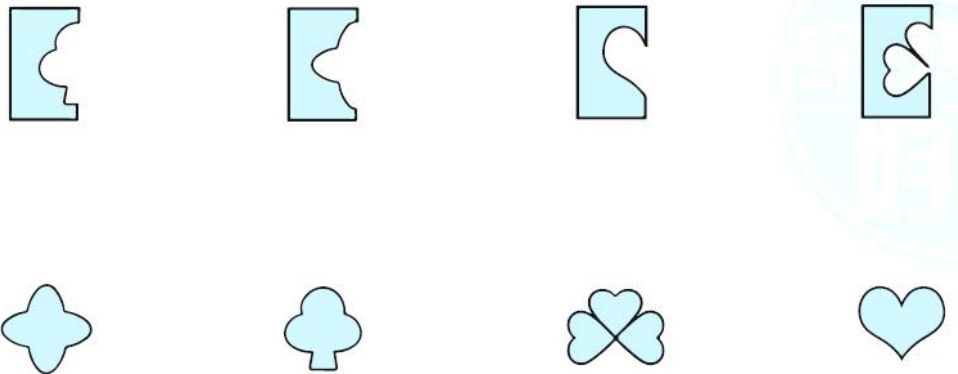
2. ○的个数是□的 2 倍, 请你画出○。(2 分)

□□□

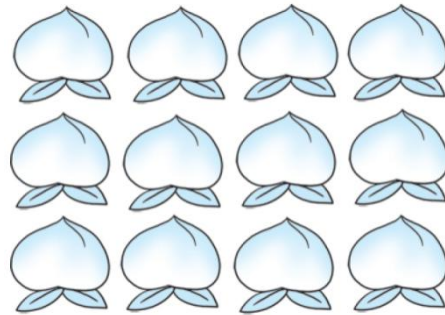




3. 下面的图案分别是哪张纸上剪下来的？连一连。(4分)



四、看图列式计算。(每题4分，共12分)



1. 一共有多少个桃子？

$$\square \bigcirc \square = \square (\quad)$$

2. 每3个桃子放一个盘子，这些桃子可以放多少个盘子？

$$\square \div \square = \square (\quad)$$

3. 把这些桃子平均放在6个盘子里，每个盘子放多少个？

$$\square \div \square = \square (\quad)$$

五、走进生活，解决问题。(每题6分，共24分)

1. 一个星期有7天，3个星期一共有多少天？





2. 小刚看一本 54 页的故事书，平均每天看 6 页，看完这本书要多少天？



3.



(1)爸爸今年多少岁？

(2)爷爷的年龄是小明的几倍？

(3)爸爸比爷爷小多少岁？





4. 买一件上衣和一条裤子一共要付多少元？





答案

一、1.4 3 12

2. (1)4 6 (2)5 5 5

3. 四十八 6 8 48 8 6 48

48 6 8 48 8 6

4. 30 4 【点拨】1张20元是20元, 2张5元是10元, 4张1角是4角, 合起来就是30元4角。

5. 3 4 9 6 8 7

6. = < < < > <

7. (1)厘米 (2)米 (3)米 (4)厘米

二、1.12 5 21 8 6 24 7 18 14 36 30 63 8 8 8 9
6 54 49 7

2. $53 + 15 + 24 = 92$ $43 + 42 - 16 = 69$

$$\begin{array}{r} 53 \\ +15 \\ \hline 68 \\ +21 \\ \hline 92 \end{array}$$

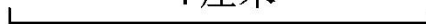
$$\begin{array}{r} 43 \\ +42 \\ \hline 85 \\ -16 \\ \hline 69 \end{array}$$

$100 - 67 + 18 = 51$

$$\begin{array}{r} 100 \\ - 67 \\ \hline 33 \\ + 18 \\ \hline 51 \end{array}$$

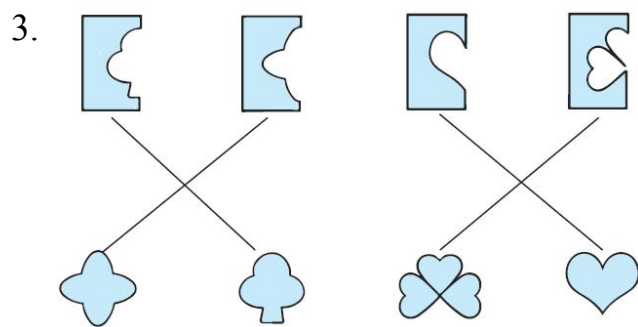
三、1.(答案不唯一)

4 厘米





2. ○○○○○○



四、 $1.4 \times 3 = 12$ (个)

2. $12 \div 3 = 4$ (个)

3. $12 \div 6 = 2$ (个)

五、 $1.3 \times 7 = 21$ (天)

答：3 个星期一共有 21 天。

2. $54 \div 6 = 9$ (天)

答：看完这本书要 9 天。

3. (1) $8 \times 4 = 32$ (岁)

答：爸爸今年 32 岁。

(2) $64 \div 8 = 8$

答：爷爷的年龄是小明的 8 倍。

【点拨】求一个量是另一个量的几倍，用除法。

(3) $64 - 32 = 32$ (岁)

答：爸爸比爷爷小 32 岁。

4. $38 + 16 + 38 = 92$ (元)

答：买一件上衣和一条裤子一共要付 92 元。

