



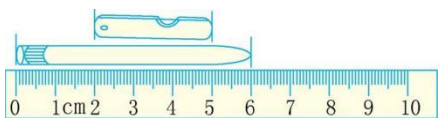
第八单元检测卷

(时间:60 分钟 分数:_____)

一、填一填。(18 分)

1. 测量铅笔的长度用()作单位比较合适;测量床的长度用()作单位比较合适。

2.



油画棒长()厘米。

3. 2 米=()厘米

300 厘米=()米

30 厘米-6 厘米=()厘米

45 厘米+20 厘米=()厘米

4. 甜甜身高 90 厘米, 再长()厘米, 他的身高就是 1 米。

二、辨一辨。(13 分)


1. 下面的哪些图形是线段?在下面画“√”。(5 分)




()



()



()

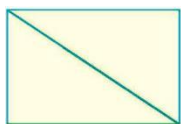


()

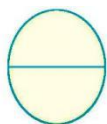


()

2. 下面的图形中各有几条线段?(8 分)



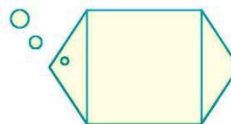
()条



()条



()条



()条

三、在括号里填上合适的长度单位。(16 分)





亮亮身高 120()



教室长 10()



杯子高 10()



黄瓜长 20()



课桌高 80()



跳绳大约长 3()



床长 2()



楼高 30()

四、在○里填上“>”“<”或“=”。(12分)

1 米○90 厘米

2 米○200 厘米

100 厘米○1 米

20 厘米○1 米-80 厘米

50 厘米○5 米

1 米 80 厘米○2 米

五、做一做。(8分)

1. 量出下面线段的长度。(4分)

() 厘米

2. 画一条 6 厘米长的线段。(4分)

六、解决问题。(33分)

1. 你知道蚯蚓的身体有多长吗?(6分)

钻出地面的身体长
15厘米，地下还藏着4厘米。



2. 有一根绳子，剪去 30 厘米，还剩 70 厘米。这根绳子原来长多少米？

(7分)





3. 填一填, 比一比。(10分)



95 厘米	1 米 25 厘米	1 米 30 厘米	3 米
-------	-----------	-----------	-----

- (1) 妞妞的身高是(), 小军的身高是(), 丫丫的身高是(), 小树的高度是()。
- (2) 把小树的高度及丫丫、妞妞、小军的身高按从矮到高的顺序排一排。

4. 小动物赛跑。(10分)



- (1) 蜗牛离终点还有多少厘米?
- (2) 蚂蚁比小虫子多爬多少厘米?





第八单元检测卷

一、 1. 厘米 米 2. 6 3 3. 200 3 24 65 4. 10

二、 1. (√) () () () (√) 2. 5 1 10 8

三、 厘米 米 厘米 厘米 厘米 米 米 米

四、 > = = < <

五、 1. 3 2. 略

六、 1. $15+4=19$ (厘米)

2. $30+70=100$ (厘米) 100 厘米=1 米

3. (1)95 厘米 1 米 25 厘米 1 米 30 厘米 3 米

(2)95 厘米<1 米 25 厘米<1 米 30 厘米<3 米

4. (1)1 米-80 厘米=20 厘米 (2)90-70=20(厘米)

