



第四单元测试卷 (A)

一、算一算。

$8 \times 6 =$

$0 \times 9 =$

$0 \div 6 =$

$6 \times 7 =$

$5 \times 0 =$

$0 \div 4 =$

$4 \times 0 =$

$0 \div 7 =$

$6 \times 6 =$

$6 \times 9 =$

$9 \times 6 + 5 =$


$6 \times 3 - 7 =$

$5 \times 5 + 9 =$

$4 \times 8 - 4 =$

$4 \times 4 + 8 =$

二、下面哪种分法是平均分?是的在下面画“ ”。



三、在○里填上“+”“-”或“×”。

$9 \bigcirc 6 = 54$

$8 \bigcirc 4 = 4$

$9 \bigcirc 9 = 0$

$9 \bigcirc 6 = 15$

$8 \bigcirc 4 = 32$


$9 \bigcirc 9 = 18$

$0 \bigcirc 0 = 0$

$0 \bigcirc 4 = 0$

四、连一连,画一画。

1. 把这些苹果分到两个盘子里。



2. 把这些苹果每 4 个圈一圈。



五、填一填。


1. 圈一圈,填一填。



(1) 每个篮子里装 2 个,需要()个篮子。

(2) 如果把它们装到 6 个篮子里,平均每个篮子里装()个。

2.



平均分成 2 份,每份有()个。

平均分成 3 份,每份有()个。

平均分成 6 份,每份有()个。


平均分成 9 份,每份有()个。





六、看图列式计算。

1.



(1) 平均分给 5 个班, 每个班分得()盆。

$$\square \div \square = \square (\text{盆})$$

(2) 若每个班分 4 盆, 能分给()个班。

$$\square \div \square = \square (\text{个})$$



把这些花平均放在 3 个教室里, 是把()平均分成 3 份, 每个教室放()盆。

$$\square \div \square = \square (\text{盆})$$



(1) 把南瓜平均装在 2 个筐里, 每筐有()个。

$$\square \div \square = \square (\text{个})$$

(2) 每筐装 9 个南瓜, 需要()个筐。

$$\square \div \square = \square (\text{个})$$

七、解决问题。



1.

(1) 可以装几篮?

(2) 还剩下几根?





2. 用 36 盆花布置教室。

(1)如果每人搬 4 盆,需要多少人?

(2)现在有 6 名同学,平均每人搬几盆?

3. 一本故事书有 24 页,小伟每天看 4 页,小娟每天看 3 页。他们看完这本书时,小伟比小娟少用几天?





参考答案

一、48 0 0 42 0 0 0 0 36 54 59

11 34 28 24

二、() ()

三、× - - + × + +、×或-

÷或×

四、略

五、1. (1)6 (2)2

2. 9 6 3 2

六、1. (1)4 $20 \div 5 = 4$ (盆)

(2)5 $20 \div 4 = 5$ (个)

2. 12 4 $12 \div 3 = 4$ (盆)

3. (1)9 $18 \div 2 = 9$ (个)

(2)2 $18 \div 9 = 2$ (个)

七、1. (1) $48 \div 8 = 6$ (篮)

(2) $8 \times 2 = 16$ (根) $48 - 16 = 32$ (根)

2. (1) $36 \div 4 = 9$ (人) (2) $36 \div 6 = 6$ (盆)

3. $24 \div 4 = 6$ (天) $24 \div 3 = 8$ (天)

$8 - 6 = 2$ (天)

