

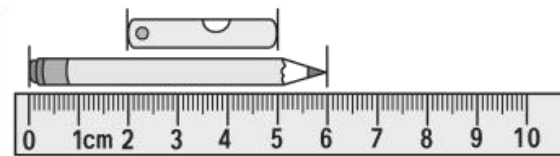


第八单元过关检测卷

一、 填一填。(每空 2 分, 共 44 分)

1. 测量钢笔的长度用()作单位比较合适; 测量门的高度用()
作单位比较合适。

2.



铅笔长()厘米,

小刀长()厘米。

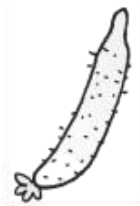
3. 在卷尺上从刻度 0 到刻度 100 是()厘米, 也就是 1()。

4. 欣欣身高 90 厘米, 再长()厘米, 她的身高就是 1 米。

5. 在()里填上“厘米”或“米”。



跳绳长 2()



黄瓜长 20()

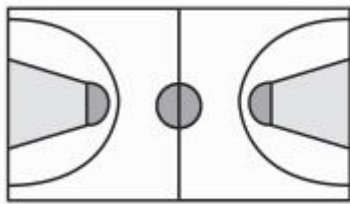


长途客车长 9()



楼高 30()





篮球场长 28()

杯子高 10()

6. 在 \bigcirc 里填上 “>” “<” 或 “=”。

4 m \bigcirc 300 cm

50 cm \bigcirc 5 m

35 cm + 10 cm \bigcirc 60 cm

1 m - 40 cm \bigcirc 60 cm

2 m + 50 cm \bigcirc 3 m

7. 算一算。

13 厘米 - 7 厘米 = () 厘米

10 米 + 8 米 = () 米

1 米 - 70 厘米 = () 厘米

20 厘米 + 80 厘米 = () 米

二、选一选。(每题 1 分，共 4 分)

1. 测量物体的长度通常用()。

- ①秤 ②尺子 ③天平

2. 在直尺上从刻度“2”到刻度“6”之间的长度是()厘米。

- ①2 ②6 ③4

3. 一张桌子大约有()高。

- ①65 m ②4 cm ③80 cm






4. 我们的数学课本长约()。

- ①1 m ②25 cm ③80 cm

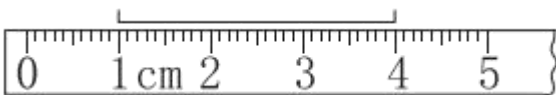
三、判断对错。(对的打“√”, 错的打“×”)(每题1分, 共4分)

1.



线段长 2 cm。 ()

2.



线段长 4 cm。 ()

3. 旗杆高 10 cm。 ()

4. 测量操场跑道的长, 一般用米作单位。 ()

四、动手操作园。(每题7分, 共14分)

1. 量一量。



2. 把下列各长度按从长到短的顺序排列起来。


79 厘米 3 米 4 厘米 1 米

90 米 90 厘米

_____ > _____ > _____ > _____ > _____

五、估一估, 填一填。(6分)





	高约 () 米 () 厘米
	高约 () 厘米

六、生活中的数学。(1题12分，其余每题4分，共28分)

1. 动物赛跑。

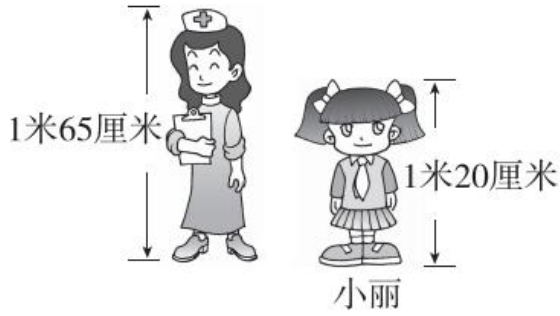


(1) 蜗牛离终点还有多少厘米?

(2) 蚂蚁比小虫子多爬多少厘米?

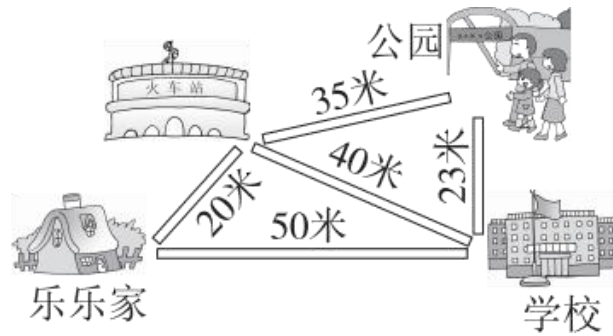
2. 小丽再长多少厘米就和护士阿姨一样高了?





3. 一座立交桥限高4米，一辆货车高300厘米，这辆货车能不能从桥下通过？

4.



(1)乐乐从家到学校有()条路。

(2)乐乐从家到学校最短的路程是()米，最长的路程是()米。

5. 两棵大树相距()米。





答案

一、1. 厘米 米 2. 6 3 3. 100 米 4. 10

5. 米 厘米 米 米 米 厘米

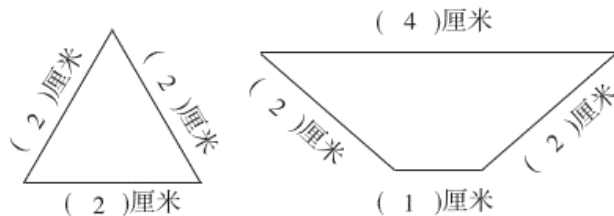
6. $>$ $<$ $<$ $=$ $<$

7. 6 18 30 1

二、1. ② 2. ③ 3. ③ 4. ②

三、1. \times 2. \times 3. \times 4. \checkmark

四、1.



2. 90 米 $>$ 3 米 $>$ 1 米 $>$ 90 厘米 $>$ 79 厘米 $>$ 4 厘米

五、1 50 50

六、1. (1) 1 米 = 100 厘米 $100 - 80 = 20$ (厘米)

(2) $90 - 70 = 20$ (厘米)

2. 1 米 65 厘米 $-$ 1 米 20 厘米 = 45 厘米

3. 4 米 = 400 厘米

400 厘米 $>$ 300 厘米

这辆货车能从桥下通过。

4. (1) 3 (2) 50 78

5. 18 点拨: 两棵大树之间有 6 个间隔, 每个间隔是 3 米, 两棵大树之间相距的米数是: $3 + 3 + 3 + 3 + 3 + 3 = 18$ (米)。

