




## 第六单元 时分秒 单元测试题

### 一、仔细填空 (31分)

1、认一认。



2、钟面上有 ( ) 个大格，一个大格中有 ( ) 个小格。时针走一大格，分针走一圈，所以 1 时 = ( ) 分。

3、分针走 1 小格是 ( ) 分，这时秒针正好跑 ( ) 圈，秒针共跑了 ( ) 个小格，所以 1 分 = ( ) 秒。

4、2 时 = ( ) 分

180 秒 = ( ) 分

1 时 30 分 = ( ) 分

87 分 = ( ) 时 ( ) 分

1 时 20 分 = ( ) 分

3 分 10 秒 = ( ) 秒

5、在 ○ 里填上 >、< 或 =。

60 分 ○ 6 时

1 时 ○ 100 分


3 分 ○ 30 秒

1 时 ○ 70 分

1 时 40 分 ○ 100 分


3 分 20 秒 ○ 100 秒

6、读出钟面上的时刻，再写下来。



时 分

( ) ( )




时 分

( ) ( )




时 分

( ) ( )



时 分

( ) ( )



时 分

( ) ( )

7、( ) 时整，时针和分针会成为一条直线；( ) 时整，时针和分针会重合在一起；( ) 时整，时针和分针会组成直角。

### 二、数学门诊。(5分)

1、9 时 8 分写作 9: 8。 ( )

2、10: 50 也可以说是差 10 分钟 11 时。 ( )

3、半小时就是 50 分。 ( )

4、分针从数字 2 走到数字 6，走了 4 分钟。 ( )

5、时针走 1 圈，分针要走 12 圈。 ( )

### 三、快乐 ABC。(5分)

1、小朋友每天的睡眠时间应不少于 10 ( )。





A、时                      B、分                      C、秒

2、上一节课的时间是 40 (     )

A、时                      B、分                      C、秒

3、钟面上时针走过 3 不到 4，分针指着 5 是 (     )。

A、3 时 5 分              B、3 时 25 分              C、4 时 25 分

4、小红 8: 20 出发去外婆家，9: 40 分到达，小红走了 (     )。












A、1 时                      B、60 钟                      C、1 时 20 分

5、现在是 9: 20，再经过 30 分钟是 (     )。

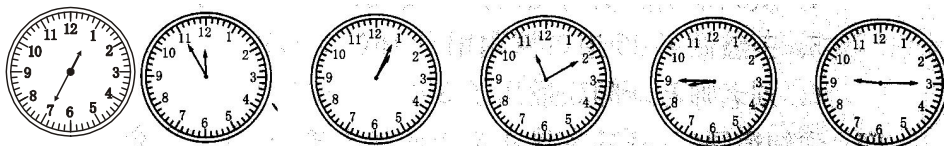
A、9: 30                      B、9: 50                      C、10: 00

四、牵线搭桥。

1、找帽子(连一连)。(4分)

	老师每天工作 8		小丽做 40 道口算题用了 4	
	红红从一楼爬到五楼用了 40		1 分=60	
	拍一下皮球约用 2		小强从家走到学校用 10	
	成人心跳一下约 1		课间休息 10	

2、认一认，连一连。(6分)



11:55              12:35              8:45              9:15              1:05              11:10

3、连一连。(4分)

测量铅笔的长度用	千米		一眨眼的功夫为 1	时
测量 10 张纸的厚度用	米		小亮吃饭用了 20	分
测量长江的长度用	厘米		爸爸每天工作 8	秒
测量教室的长度	毫米		新闻联播的时间是 30	






五、小动物读得对吗?把读错的改过来。(6分)



3时35分



10时55分




3时40分



10:45



8:55



3:10

六、在钟面上画出相应的时刻。(5分)



5:15



2:20



10:55



8:05



9:45

七、细心计算。(10+6=16分)

1、3分钟口算。(10分)

$5 \times 8 =$

$6 \times 7 =$

$9 \times 3 =$

$2 \times 8 =$

$36 \div 9 =$

$48 \div 6 =$

$14 \div 2 =$

$36 \div 6 =$

$500 + 200 =$

$800 - 400 =$

$930 - 300 =$

$450 - 150 =$

$720 + 60 =$

$960 - 600 =$

$450 + 90 =$

$860 - 80 =$

$40 \div 7 =$

$52 \div 8 =$

$34 \div 6 =$

$85 \div 9 =$

2、竖式计算。(6分)

$27 \div 6 =$

$65 \div 8 =$

$70 \div 9 =$

$502 - 394 =$

$348 + 452 =$

$600 - 384 =$





八、解决问题。（18分）

1、下面是学校举行“4×100”接力赛五年级的成绩，请根据成绩排出名次。（2分）

班级	五①班	五②班	五③班	五④班	五⑤班
时间	180秒	150秒	2分10秒	2分35秒	2分45秒
名次	第（ ）名	第（ ）名	第（ ）名	第（ ）名	第（ ）名

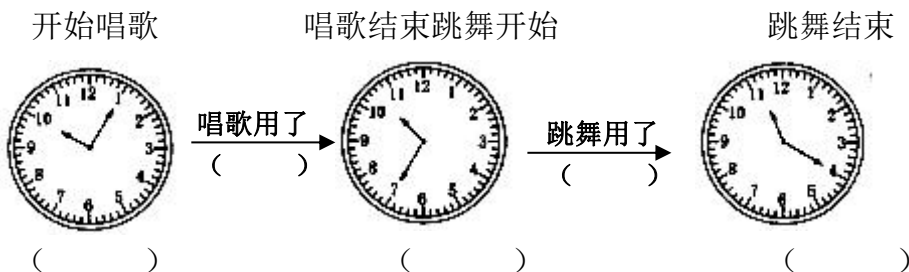
2、下表是公共汽车站1—4路车的发车时间表，请把空缺处填完整。（4分）

	1路车	2路车	3路车	4路车
发车时间	每隔3分钟	每隔5分钟	每隔6分钟	每隔7分钟
第一辆	7:08		9:06	
第二辆		8:08		10:10
第三辆				

3、请根据节目播放时刻表，算出播放时间。（4分）

节目	开始	结束	播放时间（分）
早间新闻	8:00	8:30	
天气预报	8:35	8:40	
跟我学	9:25	10:15	
儿童剧场	5:20	6:40	

4、庆祝“六·一”文娱表演。（8分）



整个“六·一”文娱表演用了多少时间？





## 第六单元《时、分、秒》单元测试题答案

### 一、仔细填空。

1、秒 分 时 2、12 5 60 3、1 1 60 60 4、120 3 90 1 27 80 130 5、  
< < > < = > 6、1 25 1:25 4 5 4:05 11 45 11:45 6 10 6:10 12 10  
12:10 7、6 12 3

### 二、数学门诊。

1、√2、√3、×4、×5、√

### 三、快乐 ABC。

1、A 2、B 3、B 4、C 5、B

### 四、牵线搭桥。略

### 五、小动物读得对吗?把读错的改过来。

7:15 9:55 2:40 8:55 10:45 3:00

### 六、在钟面上画出相应的时刻。略

### 七、细心计算。

#### 1、3分钟口算。

40 42 27 16 4 8 7 6 700 400 630 300 780 360 540 780 5……5  
6……4 5……4 9……4

#### 2、竖式计算。

4……3 8……1 7……7 108 800 216

### 八、解决问题。

1、五 二 一 三 四

2、第一辆: 7:11 7:14

第二辆: 8:03 8:13

第三辆: 9:12 9:18

第四辆: 10:03 10:17

3、早间新闻: 30分 天气预报: 15分 跟我学: 50分 儿童剧场: 80分

4、10:05 10:35 11:20 唱歌: 30分 跳舞: 45分  $30+45=75$  (分) =1 (时) 15  
(分)

