




## 第四单元测试卷

一、填空。(每空 2 分，共 16 分)


- 1、要使  $\square \div 5 =$  的商是两位数， $\square$  里最小填 ( )； $\square$  要使商是一位数，里最大填 ( )
- 2、在  $\bigcirc \div 8 = 11 \cdots \square$  中， $\bigcirc$  最大是 ( )， $\bigcirc$  最小是 ( )。
- 3、( ) 的 4 倍是 56, 75 是 5 的 ( ) 倍
- 4、最大的两位数除以最大的一位数，商是 ( )。
- 5、球场上小红和她的 11 名队友一共赢了 36 分，平均每人得 ( ) 分。

二、看图填空。(每空 1 分，每个算式 4 分，共 16 分)



图中共有 ( ) 个苹果，每个盘子里放 ( ) 个可以放 ( ) 盘，还剩 ( ) 个。

算式： $\square \bigcirc \square = \square ( ) \cdots \square ( )$



图中共有 ( ) 个苹果，平均放在 ( ) 个盘子里，每个盘子里放了 ( ) 个，还剩 ( ) 个。

算式： $\square \bigcirc \square = \square ( ) \cdots \square ( )$

三、火眼金睛辨是非 (正确的画“√”错误的画“×”) (每题 1 分，共 5 分)

- 1、0 乘任何数都得 0，0 除以任何数都得 0。 ( )
- 2、一位数除二位数，商一定是两位数。 ( )
- 3、如果  $\star \div \triangle = 6$ ，那么  $(\star \times 3) \div \triangle = 18$ 。 ( )
- 4、被除数末尾有 0，商的末尾一定有 0。 ( )
- 5、一个长方形的面积是 78 平方厘米，宽是 6 厘米，长是 23 厘





米。 ( )

四、选填正确答案的序号。(每题 2 分, 共 14 分)

1、 $78 \div 2$  的商是 ( )

A、二十多 B、三十多 C、四十多

2、把 48 分成几组, ( ) 得到的组数最多。

A、三人一组 B、四人一组 C、六人一组

3、 $84 \div 2 \div 4$  的结果与 ( ) 的得数相等。

A、 $84 \div 6$  B、 $84 \div 8$  C、 $84 \div 12$

4、3 个小朋友共摘了 57 个苹果, 平均每人摘了 ( ) 个苹果

A、27 B、16 C、19

5、42 连续减 3, 最多可以减 ( ) 次后等于 0。

A、17 B、12 C、14

6、 $62 \div \square$  的商是 2 位数,  $\square$  可以填 ( )。

A、大于 6 B、小于或等于 6 的数 (0 除外) C、所有的数都行

7、小丁 6 分钟写了 88 道口算题, 小李 4 分钟写了 70 道口算题, ( ) 写得较快。

A、小丁 B、一样快 C、小李

五、计算

1、口算。(每题 0.5 分, 共 10 分)

$30 \div 5 =$                        $70 \div 7 =$                        $25 \div 5 =$                        $81 \div 9 =$

$36 \div 6 =$                        $40 \div 8 =$                        $12 \div 6 =$                        $92 \times 0 =$

$8 \times 60 =$                        $32 \times 3 =$                        $3 \times 12 =$                        $63 \div 7 =$

$28 \div 4 =$                        $0 \div 97 =$                        $56 \div 8 =$                        $64 \div 8 =$

$20 \div 4 + 50 =$                        $160 \div 8 - 16 =$

2、竖式计算 (每题 2 分, 共 12 分)

$78 \div 8 =$                        $68 \div 6 =$                        $70 \div 7 =$





$75 \div 5 =$

$99 \div 9 =$

$96 \div 8 =$

六、解决问题。（第 1 题 8 分，2~5 题每题 5 分）



1、(1)李明带了 80 元钱能买多少个日记本？还剩多少元钱？



日记本 6 元

(2)王鹏买了 6 本，还剩 2 元钱，他带了多少元钱？

(3)、李明和王鹏一共有多少元

2、每个  4 元王老师拿 75 元钱可以买多少个  ？





3、学校举行队列广播操比赛，四年级方队每排站 12 人，刚好站 8 排。如果每排站 4 人，要站多少排？

4、学校组织 95 名同学游园，每条小船限乘 8 人，至少要租几条船？

5、丽丽带了 100 元钱，买了一个书包，剩下的钱还能买几个练习本？



© 2015 All Rights Reserved. 52pk.com

68 元



2 元





## 答案

一、

1、5 4

2、95 89

3、14 15

4、11

5、3

二、

1、12 5 2 2  $12 \div 5 = 2$  (盘)  $\cdots\cdots 2$  (个)

2、12 5 2 2  $12 \div 5 = 2$  (盘)  $\cdots\cdots 2$  (个)

三、

√ × √ × ×

四、

1、B 2、A 3、B 4、C 5、B 6、B 7、C

五、

1、6 10 5 9

6 5 2 9

480 96 36 9

7 0 7 8

55 4

2、 $9 \cdots\cdots 6$   $11 \cdots\cdots 2$  10

15 11 12

六、1、(1)、 $80 \div 6 = 13$  (个)  $\cdots\cdots 2$  (元)

(2)、 $6 \times 6 = 36$  (元)  $36 + 2 = 38$  (元)

(3)、 $80 + 38 = 118$  (元)

2、 $75 \div 4 = 18$  (个)  $\cdots\cdots 3$  (元)

3、 $12 \times 8 = 96$  (人)  $96 \div 4 = 24$  (排)

4、 $95 \div 8 = 11$  (条)  $\cdots\cdots 7$  (人)  $11 + 1 = 8$  (条)

5、 $100 - 68 = 32$  (元)  $32 \div 2 = 16$  (个)

