



三年级上学期期末检测卷(A)

班级: 姓名: 满分: 100 分 考试时间: 90 分钟

题序	第一题	第二题	第三题	第四题	第五题	第六题	总分
得分							

一、填空题。(28 分)

1. $\square 59 \div 8$, 如果商是三位数, \square 里最小可以填(); 如果商是两位数, \square 里最大可以填()。

2. $728 \div 8$ 的商是()位数, 500×4 的积的末尾有()个 0。

3. 6 千米 - 500 米 = () 千米 () 米

90 厘米 = () 分米

6 千米 = () 米

5 厘米 + 5 毫米 = () 毫米

40 分米 = () 米

4. 用 24 时记时法表示下面的时刻。

上午 7:00 下午 3:00 晚上 9:00

() () ()

5. 用普通记时法表示下面的时刻。

9:00 13:00 20:00

() () ()

6. 要使 $243 \times \square$ 的积是三位数, \square 内最大可以填(); 要使 $243 \times \square$ 的积是四位数, \square 内最小可以填()。

7. 把边长 4 分米的正方形剪成两个同样的长方形, 其中一个长方形的周长是() 分米。

8. 科技小组 15:10 开始活动, 经过 1 小时 40 分结束。结束的时刻是()。

9. 一个边长是 6 厘米的正方形, 周长是() 厘米; 如果一个长是 8 厘米的长方形周长与这个正方形的周长相等, 那么长方形的宽是() 厘米。

10. 在 \bigcirc 里填上 “>” “<” 或 “=”。

$120 \times 2 \bigcirc 102 \times 2$ $201 \times 3 \bigcirc 210 \times 5$

$302 \times 3 \bigcirc 453 \times 2$ $754 \div 8 \bigcirc 862 \div 9$

$78 \div 3 \bigcirc 84 \div 3$ $0 \div 8 \bigcirc 128 \times 0$

二、判断题。(对的画 “ ”, 错的画 “×”)(5 分)

1. 长度单位之间的进率都是 10。 ()

2. $250 + 0 < 250 \times 0$ ()

3. 300 毫米比 2 分米长。 ()

4. 120×5 的积的末尾只有 1 个 0。 ()

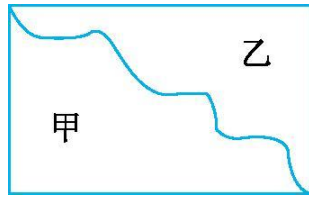
5. 两个长方形的周长相等, 它们的长和宽一定也相等。 ()





三、选择题。(把正确答案的序号填在括号!)

1. 绕操场跑一圈是 400 米, 跑 2 圈后, 还差()才走 1 千米。
 A. 200 B. 600 C. 800
2. 红星幼儿园从下午 3:30 到 4:20 开展游戏活动, 活动时间是()。
 A. 50 分 B. 10 分 C. 1 小时



3. 上图中, 甲的周长()乙的周长。
 A. 大于 B. 等于 C. 小于
4. 学校游泳池的泳道长 50()。
 A. 千米 B. 米 C. 分米
5. 从早上 7:00 到晚上 10 时共经过了()小时。
 A. 15 B. 14 C. 13

四、计算题。(30 分)

1. 直接写得数。(6 分)

$4200 \div 7 =$	$30 \times 6 =$	$597 \times 4 \approx$
$400 \div 8 =$	$200 \times 5 =$	$7200 \div 8 =$
$123 \times 2 =$	$3000 \div 5 =$	$98 \times 0 =$
$280 \div 7$	$0 \div 8 =$	$330 \div 3 =$

2. 用竖式计算。(带※的要验算)(12 分)

$\ast 525 \div 5 =$	$\ast 957 \div 3 =$	$984 \times 7 =$
---------------------	---------------------	------------------

$\ast 513 \div 4 =$	$804 \times 3 =$	$650 \times 8 =$
---------------------	------------------	------------------

3. 脱式计算。(12 分)

$196 - 365 \div 5$	$728 \div 2 \div 7$	$(498 + 104) \div 7$
--------------------	---------------------	----------------------





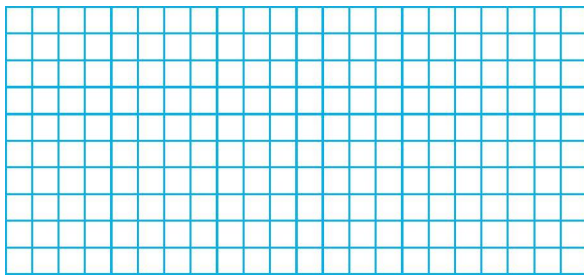
$376 \div (150 - 146)$

$749 + 106 \times 4$

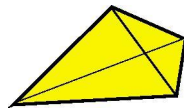
$148 \times (28 - 19)$

五、按要求做一做。(7分)

1. 下面每个小方格的边长是1厘米,请在方格纸上分别画出周长是16厘米的长方形和正方形各一个。(4分)



2. 下图中一共有几个角?(3分)



六、解决问题。(25分)

1. 张师傅加工一批零件,每天加工150个,6天可以完成。现在要求提前2天完成任务,王师傅平均每天必须加工多少个零件?(4分)

2. 光明小学操场的长是70米,宽比长短5米。亮亮绕着操场跑了2圈,他跑了多少米?(5分)





3.大客车 4 小时行驶了 312 千米,小轿车 5 小时行驶 465 千米。谁每小时行驶的路程多?(5 分)

4.光明小学图书馆里连环画有 168 本,故事书的本数是连环画的 5 倍。故事书比连环画多多少本?(5 分)

5.琳琳看一本 285 页的故事书,已经看了 187 页,剩下的要一周看完,剩下的平均每天看多少页?(6 分)





参考答案

一、1.8 7 2.两 3

3.5 500 9 6000 55 4

4.7:00 15:00 21:00

5.上午 9:00 下午 1:00 晚上 8:00

6.4 5 7.12 8.16:50

9.24 4

10.> < = < < =

二、1.× 2.× 3. 4.× 5.×

三、1.A 2.A 3.B 4.B 5.A

四、1.600 180 2400 50 1000

900 246 600

0 40 0 110

2.105 319 6888 128... 1 2412

5200 验算略

3.123 52 86 94 1173 1332

五、1.略 2.16 个

六、1. $150 \times 6 \div (6-2) = 225$ (个)

2. $70-5=65$ (米) $(70+65) \times 2 \times 2 = 540$ (米)

3. $312 \div 4 = 78$ (千米) $465 \div 5 = 93$ (千米)

$93 > 78$ 小轿车快

4. $168 \times 5 - 168 = 672$ (本)

5. $(285-187) \div 7 = 14$ (页)

