



二年级上学期期末检测卷 (A)

班级: _____ 姓名: _____ 满分: 100 分 考试时间: 90 分钟

题序	第一题	第二题	第三题	第四题	第五题	第六题	第七题	第八题	总分
得分									

一、把口诀填完整。(6分)

() 六二十四 () 八五十六 八() 七十二
五五() 六() 四十二 四() 二十八


二、直接写出得数。(12分)

$4 \times 4 =$ $45 \div 5 =$ $5 \times 6 =$ $81 \div 9 =$
 $54 \div 6 =$ $6 \times 3 =$ $72 \div 9 =$ $7 \times 6 =$
 $5 \times 8 =$ $3 \div 3 =$ $3 \times 9 =$ $8 \times 1 =$

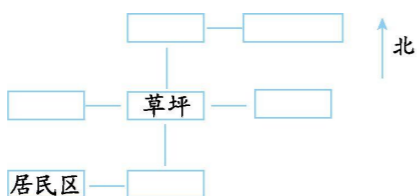
三、在○里填上“>”“<”或“=”。(6分)

$8 \times 1 \times 9 \bigcirc 75$ $4 \bigcirc 36 \div 9 \div 1$ $2 \times 4 \div 8 \bigcirc 0$
 $2 \bigcirc 42 \div 7 \div 3$ $40 \div 8 \times 5 \bigcirc 30$ $50 \bigcirc 2 \times 3 \times 9$

四、下面哪些图形是角?在角的下面画“√”,并在直角上标出直角符号。(5分)



五、把名称填到合适的位置上。(10分)



- 居民区的北面是超市。
- 健身区在草坪的东面。
- 草坪的南面是医院。
- 草坪的北面是停车场。
- 健身区的北面是文化中心。


六、看图列式。(18分)

1.



$() \times () = ()$
 $() \div () = ()$ $() \div () = ()$

2.



$() \bigcirc () = ()$

3.



(1) 平均分成 () 组, 每组 () 架。

$() \div () = ()$ (架)

(2) 每 3 架飞机为一组, 可以分成 () 组。

$() \div () = ()$ (组)

七、看图做题。(12分)

$1. \blacklozenge + \blacklozenge = \blacklozenge + \blacklozenge + \blacklozenge$ $\blacklozenge + \blacklozenge + \blacklozenge + \blacklozenge = 20$ $\blacklozenge \times \odot = 18$
 $\blacklozenge = ()$ $\blacklozenge = ()$ $\odot = ()$

班级: _____

姓名: _____

准考证号: _____





二年级上学期期末检测卷 (A)

参考答案

一、四 七 九 二十五 七 七

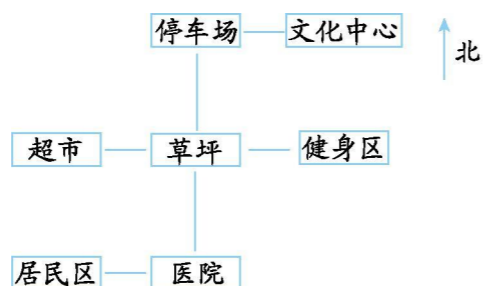
二、16 9 30 9 9 18 8 42 40 1 27 8

三、< = > = < <

四、() () () () ()

提示:第一、五个角是直角,标直角符号略。

五、



六、 $1.4 \times 3 = 12$ 或 $3 \times 4 = 12$ $12 \div 4 = 3$

$12 \div 3 = 4$

2. $24 \div 4 = 6$ (或 $24 \div 6 = 4$ 、 $4 \times 6 = 24$ 、

$6 \times 4 = 24$)

3. (1) 5 3 $15 \div 5 = 3$ (架)

(2) 5 $15 \div 3 = 5$ (组)

七、1. 6 4 3 2. 3 1 2

八、1. (1) $40 \div 8 = 5$

(2) $8 \times 3 = 24$ (下) 或 $3 \times 8 = 24$ (下)

2. $7 \times 8 = 56$ (页) $56 + 24 = 80$ (页)

3. $7 + 1 = 8$ (人) $56 \div 8 = 7$ (只)

4. (1) $18 \div 3 \times 2 = 12$ (个)

(2) $18 \div 3 \div 2 = 3$ (名)

5. $4 \times 2 = 8$ $8 + 1 = 9$ 水果糖: $36 \div 9 = 4$ (元) 奶糖: $4 \times 2 = 8$ (元)

班级: _____

姓名: _____

准考证号: _____

