




## 第六单元过关检测卷




一、统计昆虫。(1题6分，2题3分，其余每题4分，共17分)



1. 把不同昆虫的只数用自己喜欢的方法统计出来。



2. 把统计的结果填入下表。

昆虫			
只数(只)			

3. 哪种昆虫的数量最多？哪种昆虫的数量最少？

4. 一共有多少只昆虫？





二、填一填。(每空 2 分，共 28 分)

1. 下面是二(2)班同学一星期阅读的课外读物的册数。

《少儿文艺》 《脑筋急转弯》 《童话故事》 《漫画》







(1)把上面的统计结果填入下表。

类别	《少儿文艺》	《童话故事》	《漫画》	《脑筋急转弯》
册数				

(2)同学们最喜欢看的是( )，读的《少儿文艺》比《漫画》少( )册。

(3)全班一共读了( )册书。如果要在班上办个图书角，应该多买( )书，少买( )书。

2. 下面是星星小学二(1)班同学喜欢的乐器情况统计表。(每人只选一种乐器)

乐器的种类				
人数	正正一	正正	正正正	正一

(1)二(1)班同学喜欢小提琴的有( )人，喜欢钢琴的有( )人。

(2)喜欢长笛的人数比喜欢手风琴的多( )人。

(3)二(1)班一共有( )人，如果班主任想选一种乐器作为本班的特色，选( )最合适。





三、下面是同学们在十字路口 5 分钟内记录的通过的汽车的种类和辆数。(3 题 3 分, 4 题 4 分, 其余每题 8 分, 共 23 分)

种类	轿车	出租车	公交车	货车
辆数	正正正	正	丁	下

1. 统计并填写下表。

种类	轿车	出租车	公交车	货车
辆数				

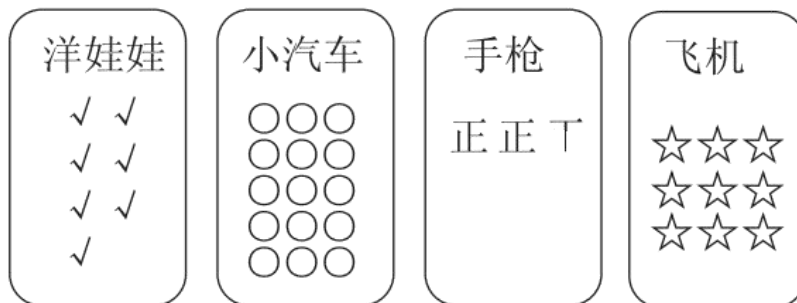
2. ( )车最多, ( )车最少, 它们相差( )辆。

出租车比货车多( )辆。

3. 如果再通过 1 辆车, 最有可能是( )车。

4. 你还能提一个数学问题并解答吗?

四、下面是二(2)班同学最喜欢的玩具统计情况。(1 题 8 分, 其余每题 6 分, 共 20 分)






1. 把上面的统计结果填入下表。

玩具	洋娃娃	小汽车	手枪	飞机
人数				





2. 二(2)班同学最喜欢( )的人最多，最喜欢( )的人最少。





3. 你最喜欢( )，二(2)班同学最喜欢这种玩具的有( )人，这个班一共有( )人。

五、数一数，填一填。(每空 2 分，共 12 分)



1. 完成下面的统计表。

			
( )个	( )个	( )个	( )个

2.  比  多( )个， 比  少( )个。





## 答案

一、1. 略 2. 4 10 11

3. 蝴蝶的数量最多，瓢虫的数量最少。

4.  $4+10+11=25$ (只)

二、1. (1)6 11 8 9

(2)《童话故事》 2

(3)34 《童话故事》 《少儿文艺》

2. (1)11 9

(2)9

(3)41 长笛

三、1. 15 5 2 3

2. 轿 公交 13 2

3. 轿 4.略

四、1. 7 15 12 9

2. 小汽车 洋娃娃

3. 略

五、1. 3 4 3 2

2. 1 2

