



第九单元过关检测卷

一、算一算。(18分)

$15-9=$ $11-2=$ $6+7=$ $17-8=$

$14-9=$ $16-8=$ $13-5=$ $12-4=$

$6+9=$ $12-6=$ $13-7=$ $11-6=$

$14-9+6=$ $7+9-8=$ $3+5+8=$

$12-7+5=$ $6+8-7=$ $3+9-5=$

二、填一填, 算一算。(1题4分, 2题2分, 共6分)

1.

$$\begin{array}{r} 13 \\ \swarrow \quad \searrow \\ \square \quad \square \\ \quad \quad \quad \downarrow \\ \quad \quad \quad \square \end{array} - 8 = \square$$

2.

$$\begin{array}{r} 14 \\ \swarrow \quad \searrow \\ \square \end{array} - 9 + 7 = \square$$

三、在 \bigcirc 里填上 “>” “<” 或 “=”。(8分)

$11-9 \bigcirc 5$

$11-7 \bigcirc 3$

$14-6 \bigcirc 7$





$13-7$ $15-9$ $15-9$ 4 $12-6$ 6

$13-8$ 4 $11-6$ $15-7$

四、在 里填上“+”或“-”。(6分)

12 $7=5$ 4 $9=13$ 16 $7=9$

15 $6=9$ 7 $4=11$ 13 $7=6$

五、在括号里填上合适的数。(6分)

$(\quad)-5=8$ $15-(\quad)=8$

$(\quad)+7=11$ $(\quad)-5=6$

$14-(\quad)=5$ $9+(\quad)=17$

六、 里最大能填几?(6分)

$7+$ <12 $17-$ >8 $12-$ >5

$11-$ >4 $9<14-$ $3<10-$

七、我会给小鱼排队。(10分)

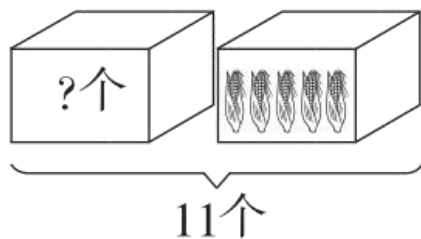


$>$ $>$ $>$ $>$

八、看图列式计算。(每题3分，共18分)

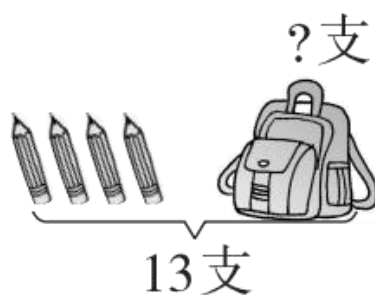
1.






$$\square \bigcirc \square = \square$$

2.

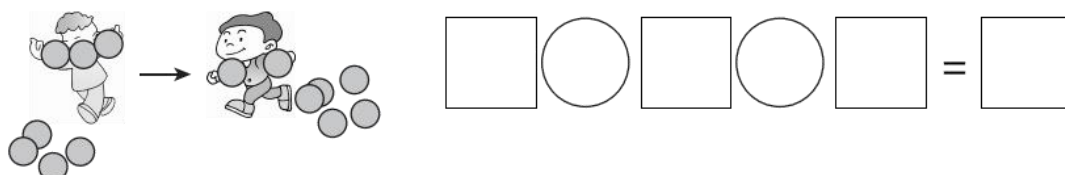


$$\square \bigcirc \square = \square$$

3.

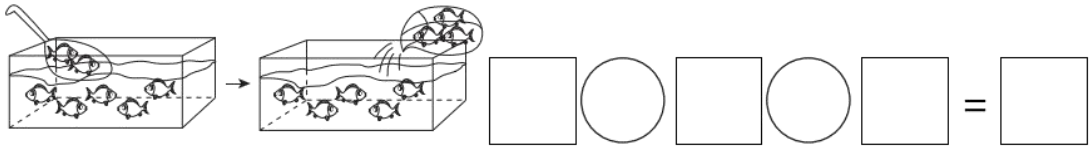


4.




5.





6.



九、解决问题。(1、2 题每题 4 分，3 题 6 分，4 题 8 分，共 22 分)

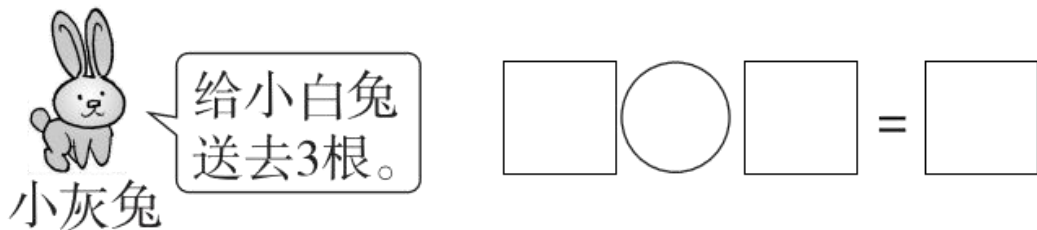
1. 一共有 13 人参加合唱表演。



第二排有几人?

$$\square \bigcirc \square = \square$$

2. 小灰兔拔了 12 根萝卜。小灰兔还剩多少根?



3.





每人要折13朵纸花。

小刚

我再折8朵纸花就折完了。



我已经折了6朵纸花。

小明



小红

(1) 小红还要折几朵纸花？

$$\square \bigcirc \square = \square$$

(2) 小明已经折了几朵纸花？

$$\square \bigcirc \square = \square$$

4.

我上午看了7页，
下午看了8页。



红红

这本书一共18页。

(1) 红红已经看了多少页？

$$\square \bigcirc \square = \square$$

(2) 还剩多少页没看？

$$\square \bigcirc \square \bigcirc \square = \square$$





答案

一、6 9 13 9 5 8 8 8 15 6 6 5 11 8 16

10 7 7

二、1. 3 10 2 5 2. 5 12

三、< > > = > = > <

四、- + - - + -

五、13 7 4 11 9 8

六、4 8 6 6 4 6

七、 $12-3$ $15-7$ $12-6$ $14-9$ $11-7$

八、1. $11-5=6$ 2. $13-4=9$

3. $7+2+3=12$ 4. $3+4-2=5$

5. $7-2+3=8$ 6. $5-2+3=6$

九、1. $13-7=6$ 2. $12-3=9$

3. (1) $13-6=7$ (2) $13-8=5$

4. (1) $7+8=15$ (2) $18-8-7=3$

