



第三单元测试卷(A)

一、按要求做一做。


1. 看数圈一圈。

9		4		8	
6		5		7	


2. 看数画出缺少的图形。

8	9	10	6

二、想一想, 填一填。



1. 1和()合起来是()。



()和()合起来是()。

2. 数一数, 比一比。



()支

()支

()支


$$\square > \square \quad \square < \square$$



一共有()只天鹅, 排第(), 它前面有()只天鹅, 后面有

()只天鹅。



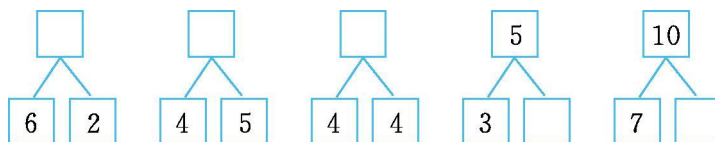


一共有 只动物。 排第 ， 排第 。



一共有()副手套,是()只。

三、想一想,填一填。



四、比一比我能行。

1. 在○里填上“>”“<”或“=”。(6分)

7○3 5○5 10○1 4○9 7○8 0○2

2. 在 里填上合适的数。(9分)

3 < 6 > < 8 5 > > < 3 < 10 > >

五、动手操作我最棒。

1. 按要求涂一涂,比一比。

★★★★★


○比★多



△比★少



◇和★同样多






2. 圈一圈,画一画。



圈出 6 棵向日葵,在从左数第 7 棵向日葵上面画 1 个 “○”。


六、看图填空。



(1)从左数,第()盆和第()盆合起来有 5 朵花;第()盆和第()盆合起来也有 5 朵花。

(2)从右数,第()盆和第()盆合起来有 7 朵花;第()盆和第()盆合起来也有 7 朵花。

2. 秋天到了,小树叶要离开妈妈了!



(1)从左数,第 2 棵 tree 上有()片叶子;从右数,第()棵 tree 上有 6 片叶子。

(2)从左数,第()棵 tree 上叶子最多,第()棵 tree 上叶子最少。

(3)从左数,第()棵 tree 和第()棵 tree 上的叶子合起来是 10 片;第()棵 tree 和第()棵 tree 上的叶子合起来是 9 片。





第三单元测试卷(A)答案

一、1. 略

2. ○○○○○○○○ △△△△△△

□□□□□□□ ☆☆☆☆

二、1. 3 4 5 3 8

2. 3 5 8 答案不唯一, 如: $5 > 3$ $5 < 8$

3. 9 3 2 6 4. 8 5 7 5. 4 8

三、8 9 8 2 3

四、1. $> = > < < <$

2. 答案不唯一, 如: 4 5 7 3 2 2 5 7 5

五、略

六、1. (1) 1 4 3 5 (2) 1 5 2 4

2. (1) 7 3 (2) 2 7 (3) 答案不唯一, 如: 2 4 3 6

