

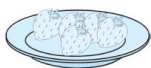












周测培优卷 5



一、我会填。(每题 4 分，共 12 分)


1. 还有几颗  ?

 	 	 	 
盘子里有 <input type="text"/> 颗  。	$5 - \square = \square$	$3 - \square = \square$	$1 - \square = \square$

2. 搭配 5 套服装。



还差 条 ，
还差 双 。



3. 小刚读一本书，今天从第 4 页读到第 8 页，明天该读第 9 页了，
他今天读了()页。

二、计算大闯关。(共 32 分)

1. 要细心算，别粗心！(每题 2 分，共 16 分)

$2 + 8 =$

$5 + 3 =$

$6 - 4 + 7 =$

$10 - 3 - 2 =$

$9 - 4 =$

$0 + 6 =$

$8 + 1 - 5 =$

$7 + 2 + 0 =$





2. 勤劳的小蜜蜂。(每题 2 分，共 16 分)



2 3=5

8 2=6

7 1=6

6 3=3

9+1 5

3+2 7

9-5 3

8+1 9

三、看图列式计算。(每题 4 分，共 16 分)

1. ○ =

2.

+ =

一共有10只。

3.
 ○ =

4.

○ ○ =



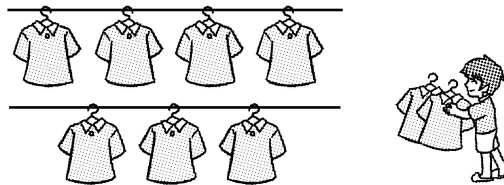


四、我爱生活中的数学。(第1题6分，第2题14分，第3题20分，
共40分)


1. 勤劳的聪聪。


一共要晒几件  ?

$$\square \bigcirc \square = \square$$



2. 可爱的动物们。

(1) 一共有9只  。



湖里还剩几只天鹅?

$$\square \bigcirc \square = \square$$




(2) 小白 小灰

它们一共拔了几个萝卜?

$$\square \bigcirc \square = \square$$

3. 你会看图提问题并解答吗?

(1) 一共有8人玩游戏。





_____ ?

$$\square \bigcirc \square = \square$$



_____ ?

$$\square \bigcirc \square = \square$$





答案

一、1.5 2 3 2 1 1 0

2. 1 2

3. 5

二、1.10 8 9 5

5 6 4 9

2. + - - -

> < > =

三、1. $4+5=9$

2. $6+2=8$

3. $10-5=5$

4. $2+4+4=10$

四、1. $7+2=9$

2. (1) $9-3=6$

(2) $7+3=10$

3. (1) 树后藏了几人

$$8-3=5$$

(2) 一共有几个蘑菇

$$4+5=9$$

【点拨】要从图中获取相关联的信息，提有价值的数学问题。(2)
题答案不唯一。

