




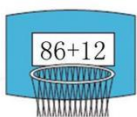
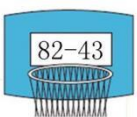







第七单元检测卷

(时间:60 分钟 分数:_____)

一、填一填。(8 分)

1. 笔算加法和减法时, 相同()对齐, 从()位算起。
2. 48 比 30 多(), 25 比 42 少()。
3. 比 57 多 13 的数是(), 比 53 少 26 的数是()。
4. 一个数是 49, 另一个数是 24, 这两个数的和是(), 差是()。

二、连一连。(5 分)

三、用竖式计算。(22 分)

$45+26=$ $74-29=$ $60-17=$ $48+35=$ $52-24=$

$29+37+18=$ $35+26-24=$ $72-18-25=$ $34+28+16=$





四、在括号里填上合适的数。(14分)

$57 + () = 90$

$64 - () = 28$

$() - 25 = 40$

$() + 37 = 72$

$() - 37 = 48$

$() + () = 80$

五、在○里填上“>”“<”或“=”。(12分)

$75 + 18 \bigcirc 83$

$49 + 8 \bigcirc 41$

$39 + 7 \bigcirc 52 - 6$

$63 - 19 \bigcirc 54$

$78 + 8 \bigcirc 86$

$68 - 12 \bigcirc 68 + 12$

六、算一算, 填一填。(9分)

	故事书	漫画书	科技书
二(1)班	12本	35本	()本
二(2)班	22本	27本	25本
二(3)班	19本	()本	36本
总数	()本	90本	88本

七、问题解决。(30分)

1. 小明比丽丽少捡多少个贝壳?(5分)



2. 一共有 90 个西瓜。还剩多少个?(5分)





3. 花店原有鲜花 92 枝, 卖了 75 枝, 后来又运来了 48 枝, 现在花店里有鲜花多少枝?(5 分)

4. 选衣服。(15 分)



①47 元



②38 元



③29 元



④26 元



⑤22 元

(1) 妈妈为亮亮买了一套最便宜的衣服, 花了多少钱?

(2) 乐乐买①号上衣、④号和⑤号裤子, 一共要花多少钱?

(3) 你还能提出其他的数学问题吗? 解答出来。





第七单元检测卷

一、1. 数位 个 2. 18 17 3. 70 27 4. 73 25

二、第一行的得数分别是 32、98、39、93、59

三、71 45 43 83 28 84 37 29 78

四、33 36 65 35 85 64 16(后两空答案不唯一)

五、 $>$ $>$ = $<$ = $<$

六、53 28 27

七、1. $32-19=13$ (个)

2. $90-24-36=30$ (个)

3. $92-75+48=65$ (枝)

4. (1) $22+29=51$ (元)

(2) $47+26+22=95$ (元)

(3) 答案不唯一, 如: 如果买一套最贵的衣服, 需要花多少钱?

$47+26=73$ (元)

