



第三单元测试卷 (A)

一、填一填。

- 根据口诀“八九七十二”, 可以写出的两道乘法算式分别是()、()。
- 一个因数是7, 另一个因数是9, 积是()。
- $8+8+8+8+8+8+8=8 \times ()$ $9 \times 4+9=() \times 9$
- 8的7倍是(); ()是9的4倍。

二、把口诀补充完整。

二九() 三()二十一 ()十六

三、在括号里填上合适的数。

$5 \times () = 35$ $() \times 9 = 54$ $6 \times () = 48$
 $() \times 9 = 63$ $5 \times () = 40$ $() \times 9 = 6 \times 3$

四、算一算。

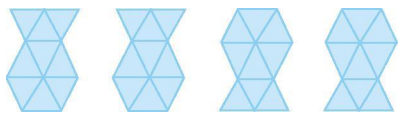
$8 \times 5 =$	$7 \times 6 =$	$6 \times 8 =$	$6 \times 7 + 7 =$
$9 \times 3 =$	$7 \times 7 =$	$9 \times 9 =$	$8 \times 3 + 8 =$
$8 \times 9 =$	$4 \times 8 =$	$4 \times 9 =$	$7 \times 6 - 7 =$
$8 \times 8 =$	$9 \times 5 =$	$7 \times 8 =$	$8 \times 9 - 9 =$

五、在○里填上“>”“<”或“=”。

$36+42$ ○ 8×9 7×7 ○ 48 $18-9$ ○ 3×3
 2×9 ○ 4×4 7×8 ○ 7×9 37 ○ 5×7

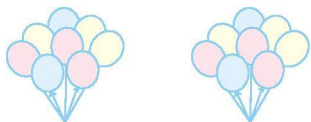
六、看图列式计算。

1.



○ = ()

2.



○ = ()


七、画一画。

1. ○○○○

画 的个数是 的 2 倍。





2. 线段①: 

线段②的长度是线段①的 4 倍。

线段②:

八、解决问题。

1. 二(2)班的同学分成 5 组玩老鹰捉小鸡的游戏,每组 7 名同学,二(2)班共有多少名同学?

2. 小强折了 9 只纸鹤,小红折的是小强的 3 倍,小红折了多少只纸鹤?

3.



?元



32元



8元

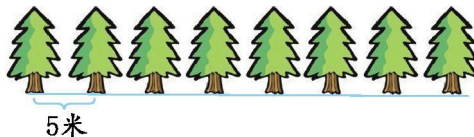


9元

(1)一件上衣的价钱是一个铅笔盒的 9 倍,一件上衣多少元?

(2)买 7 个铅笔盒和一部电话,一共要花多少元?

4. 第 1 棵树到第 8 棵树之间的距离是多少米?





参考答案

一、 $1.8 \times 9 = 72$ $9 \times 8 = 72$ 2. 63

3. 7 5 4. 56 36

二、十八 七 二八(四四) 三 六十三

七七 二十八 六六(四九) 四

三、7 6 8 7 8 2

四、40 42 48 49 27 49 81 32 72 32 36 35 64 45 56 63

五、> > = > < >

六、1. $9 \times 4 = 36$ (个)或 $4 \times 9 = 36$ (个)

2. $8 \times 3 = 24$ (个)或 $3 \times 8 = 24$ (个)

七、提示:1. 画 8 个  2. 画 4cm 长的线段

八、1. $5 \times 7 = 35$ (名)

2. $9 \times 3 = 27$ (只)

3. (1) $8 \times 9 = 72$ (元)

(2) $7 \times 8 + 32 = 88$ (元)

4. $8 - 1 = 7$ (个) $5 \times 7 = 35$ (米)

