



## 第七单元过关检测卷

一、直接写得数。(12分)

$41-5=$                    $96-80=$

$6+23=$                    $25-6=$

$95-8=$                    $56-15=$

$76-4=$                    $7+36=$

$7+59+21=$            $72-6-40=$

$74+6-80=$            $56-3+9=$

二、填一填。(每空1分，共16分)

1. 在○里填上“>”“<”或“=”。

$67-28$  ○  $35$            $56-17$  ○  $39$

$28+34$  ○  $72$            $49-33$  ○  $66$

$75+9$  ○  $73$            $27+23$  ○  $60$

2. 在( )里填上合适的数。

$58+( )=81$

$43+( )=62$


$91-( )=83$



$( )-36=46$

3. 看谁先得到小旗。

















 $23 \xrightarrow{+18} \square \xrightarrow{-9} \square \xrightarrow{+36} \square$


 $72 \xrightarrow{-18} \square \xrightarrow{+6} \square \xrightarrow{-27} \square$ 


三、 小兔采蘑菇。(连一连)(8分)

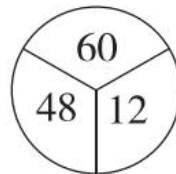
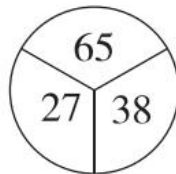

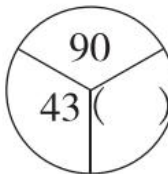





四、 找规律，填一填。(每题4分，共8分)

1.

2.

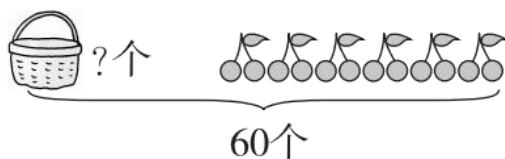
90	40	78	25	( )	36	( )	17
20	30	15	38	23	29	28	34





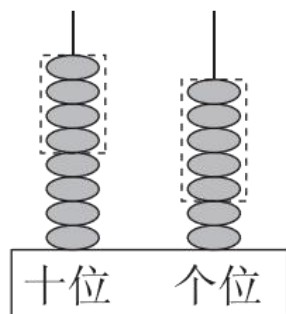
五、 看图列式计算。(每题 3 分，共 12 分)

1.



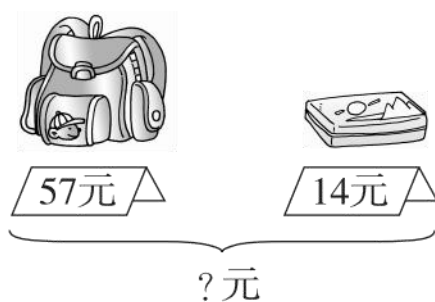
$$\square \bigcirc \square = \square \text{ (个)}$$

2.



$$\square \bigcirc \square = \square$$

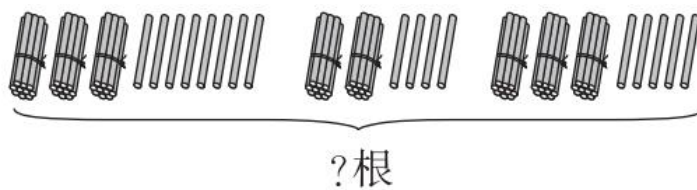
3.



$$\square \bigcirc \square = \square \text{ (元)}$$

4.





$$\square \bigcirc \square \bigcirc \square = \square \text{ (根)}$$

六、用竖式计算。(16分)

$18+23=$

$43+49=$

$70-41=$

$42-24=$

$37+19+18=$

$76-57-13=$





$$70 - 23 + 35 = \quad 36 + 47 - 18 =$$

七、算一算，填一填。(8分)

	一班	二班	三班	四班
故事书	34 本	( ) 本	39 本	35 本
科技书	28 本	19 本	22 本	( ) 本
连环画	37 本	42 本	( ) 本	43 本
合计	( ) 本	95 本	98 本	99 本

八、生活中的数学。(1 题 9 分，2 题 3 分，3 题 8 分，共 20 分)

1.

		
31人	27人	18人

(1) 踢毽子的和打乒乓球的一共有多少人?





$$\square \bigcirc \square = \square \text{ (人)}$$

(2)打乒乓球的比跳绳的少多少人？

$$\square \bigcirc \square = \square \text{ (人)}$$

(3)你还能提出什么问题？并解答。

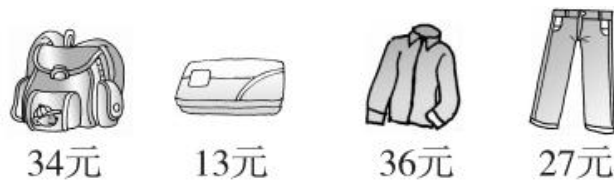
2. 有 85 个西瓜。



还剩多少个没运走？

$$\square \bigcirc \square \bigcirc \square = \square \text{ (个)}$$

3.



(1)买一个书包、一件上衣和一条裤子，共需多少钱？

$$\square \bigcirc \square \bigcirc \square = \square \text{ (元)}$$

(2)拿 80 元，买一个书包和一件上衣，还剩下多少钱？

$$\square \bigcirc \square \bigcirc \square = \square \text{ (元)}$$





## 答案

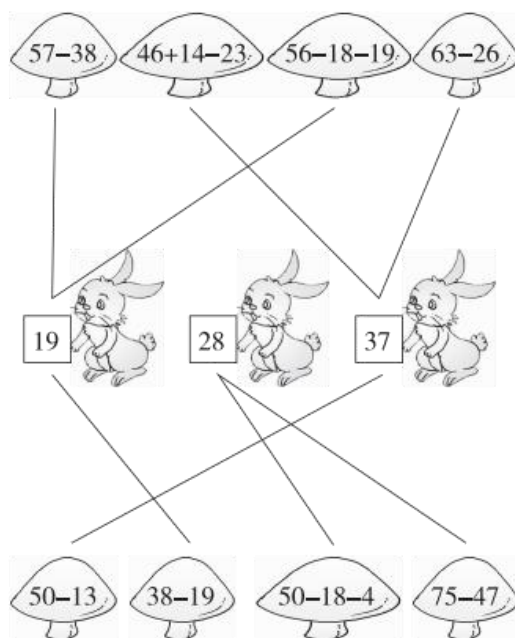
一、36 16 29 19 87 41 72 43 87 26 0 62

二、1.  $>$   $=$   $<$   $<$   $>$   $<$

2. 23 19 8 82

3. 41 32 68 54 60 33

三、



四、1. 87 47

2. 88 79

五、1.  $60-12=48$ (个)

2.  $87-45=42$

3.  $57+14=71$ (元)

4.  $38+24+35=97$ (根)

六、 $18+23=41$

$43+49=92$





$$\begin{array}{r} 18 \\ + 213 \\ \hline 41 \end{array}$$

$$\begin{array}{r} 43 \\ + 419 \\ \hline 92 \end{array}$$

$70 - 41 = 29 \quad 42 - 24 = 18$

$$\begin{array}{r} 70 \\ - 41 \\ \hline 29 \end{array}$$

$$\begin{array}{r} 42 \\ - 24 \\ \hline 18 \end{array}$$

$37 + 19 + 18 = 74 \quad 76 - 57 - 13 = 6$

$$\begin{array}{r} 37 \\ + 119 \\ \hline 56 \\ + 118 \\ \hline 74 \end{array}$$

$$\begin{array}{r} 76 \\ - 57 \\ \hline 19 \\ - 13 \\ \hline 6 \end{array}$$

$70 - 23 + 35 = 82$

$36 + 47 - 18 = 65$

$$\begin{array}{r} 70 \\ - 23 \\ \hline 47 \\ + 315 \\ \hline 82 \end{array}$$

$$\begin{array}{r} 36 \\ + 417 \\ \hline 83 \\ - 18 \\ \hline 65 \end{array}$$

七、99 34 37 21

八、1. (1)  $27 + 18 = 45$ (人) (2)  $31 - 18 = 13$ (人)

(3) 跳绳的比踢毽子的多多少人?

$31 - 27 = 4$ (人)

2.  $85 - 40 - 26 = 19$ (个)

3. (1)  $34 + 36 + 27 = 97$ (元) (2)  $80 - 34 - 36 = 10$ (元)

