

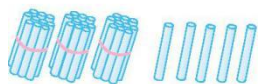


期末测试卷

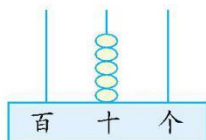
(时间:90 分钟 分数:_____)

一、填一填。(18 分)

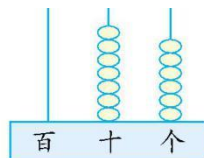
1. 看图写数。



()



()

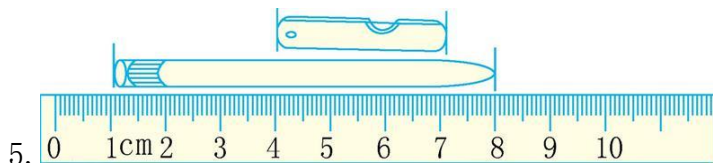


()

2. 78 里面有()个十和()个一。

3. 52 前面的第三个数是(),69 后面的第三个数是()。

4. 一个数个位上是 3,十位上的数比个位上的数多 4,这个数是()。



5. 油画棒长()厘米,小刀长()厘米。

6. 56 比 30 多(),8 比 73 小()。

7. 在括号里填上合适的数。

8 元=()角 35 角=()元()角

40 分=()角 7 元 3 角=()角

8. 92 厘米再加()厘米就是 1 米。

二、连一连。(4 分)





8 时刚过

快到 8 时

8 时

7 时半

三、在括号里填上合适的数。(6分)

$8+46=(\quad)+40$ $54+7=50+(\quad)$ $85-10=(\quad)+67$

$25+60=(\quad)-9$ $29+3=(\quad)+20$ $54+7=(\quad)+30$

四、算一算。(24分)

1. 口算。(10分)

$44+8=$ $90-7=$ $36-8=$ $56-7=$ $85-9=$
 $30+50=$ $44+5=$ $28+7=$ $82-50=$ $54+6=$

2. 用竖式计算。(14分)

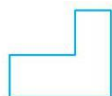
$44+29=$ $65+25=$ $83-38=$ $90-56=$

$36+29+16=$ $35+55-76=$ $71-35-26=$

五、下面的图形中各有几条线段?(8分)



() 条



() 条



() 条

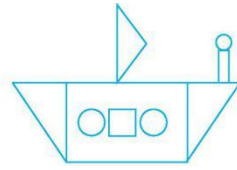
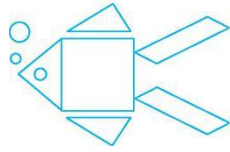


() 条

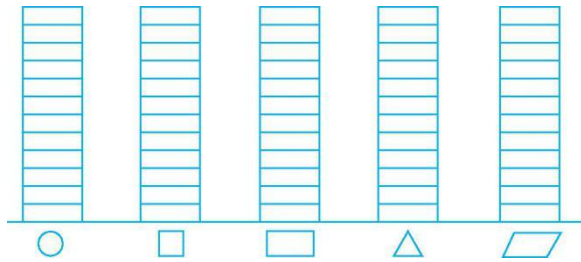




六、做一做。(10分)



1. 完成下面的统计图。(5分)




2. 填写下面的统计表。(5分)

图形	○	□	▭	△	▭
个数					

七、解决问题。(30分)

1. 一共有多少只蚂蚁来爬山?(6分)



2. 还剩几个?(6分)





3. (12分)



6元



8角



5元



6角




1元2角

(1) 买一本练习本和一支铅笔, 一共要花多少钱?

(2) 一个魔方比一副三角板贵多少钱?

(3) 你还能提出什么数学问题? 试着解答出来。

4. 还剩多少根?(6分)





期末测试卷

一、1. 35 50 76 2. 7 8 3. 49 72 4. 73 5. 7 3 6. 26 65

7. 80 3 5 4 73 8. 8

二、提示:钟面上的时间分别是8时、8时刚过、快到8时、7时半,连线略。

三、14 11 8 94 12 31

四、1. 52 83 28 49 76 80 49 35 32 60

2. 73 90 45 34 81 14 10

五、7 6 4 6

六、1. 提示:○涂6格,□涂2格,□涂2格,△涂6格,▱涂2格。

2. 6 2 2 6 2

七、1. $56+5=61$ (只)

2. $32-25=7$ (个)

3. (1) 1元2角+6角=1元8角

(2) 6元-8角=5元2角

(3) 答案不唯一,如:买一副三角板和一支铅笔,需要多少钱?

8角+6角=1元4角

4. $80-34-18=28$ (根)

