



## 小学三年级数学（上）《辨认方向》测试题

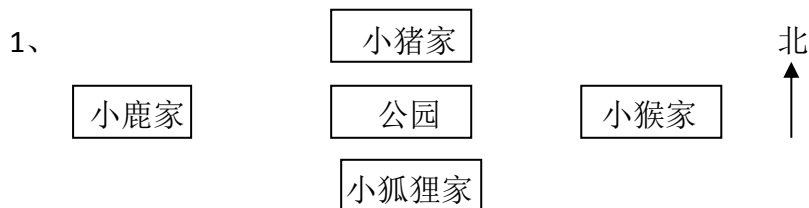
### 一、填空。

- 1、东与（ ）相对，（ ）与北相对。
- 2、地图通常是按照上（ ）、下（ ）、左（ ）、右（ ）绘制的。
- 3、小洁面向北方，如果他后转，面向（ ）方，小华面向西北，如果他左转，面向（ ）方。
- 4、强强去图书馆时向南走了 840 米，回来的时候向（ ）方走（ ）米。
- 5、晚上，当你背对北极星时，你的前面是（ ）方，后面是（ ）方，右面是（ ）方。
- 6、黄昏，当的面对太阳时，你的后面是（ ）方，右边是（ ）方，左边是（ ）方，前面是（ ）方。
- 7、一般树叶茂密的一侧是（ ）面，稀疏的一面提（ ），树的年轮较密的一侧（ ）面，年轮较宽的一面是（ ）面。

### 二、选择题。

- 1、地图上通常是按照（ ）绘制的。  
A、上西下东，左南右北      B、上北下南，左西右东      C、上北下南，左东右西
- 2、小华面向东站着，他向左转，又向右转，这时他面向（ ）方。  
A、东      B、西      C、南      D、北
- 3、小颖的座位的西南方是小欣的座位，那么小颖的座位在小欣座位的（ ）。  
A、东南方      B、西北方      C、东北方      D、西南方

### 三、看图回答问题。





(1) 小鹿家在公园的( )面, 小狐狸家公园的( )面, 小猴家在公园的( )面, 小猪家在公园的( )面。

(2) 公园在小鹿家的( )面, 在小狐狸家的( )面。

(3) 学校在小狐狸家的西面, 请用“△”标出学校的位置。

#### 四、认识方向。

1、按要求涂色。



(1) 在公园的东北角涂上红色。

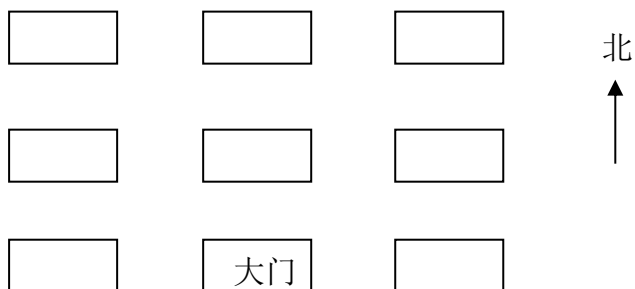
(2) 在公园的东南角涂上绿色。

(3) 在公园的西北角涂上黄色。

(4) 在公园的西南角涂上蓝色。

2、根据描述填出各动物馆的位置。

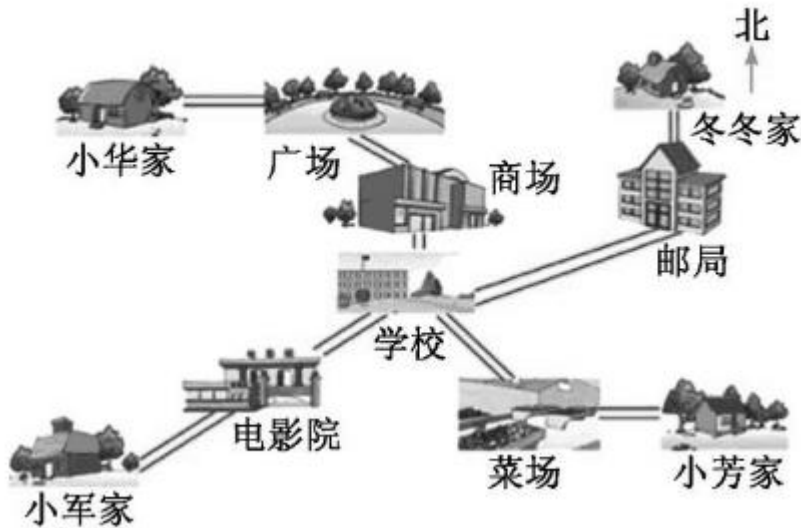
星期天, 我们去动物园游玩, 走进大门, 正北面是狮子馆和马馆, 熊猫馆在狮子馆的西北面, 飞禽馆在狮子馆的东北面, 从熊猫馆向南走, 可以到达猴山和大象馆, 从猴山向东走可以到达狮子馆和金鱼馆, 从金鱼馆向南走可以到达骆驼馆。





### 五、看图说路线。

说出下图中小华、小军、冬冬、小芳的上学路线。



- (1) 小华从家出发，先向（ ）走到（ ），接着向（ ）走到（ ），最后向（ ）走到学校。
- (2) 小军从家出发，先向（ ）走到（ ），最后向（ ）走到学校。
- (3) 冬冬从家出发，先向（ ）走到（ ），最后向（ ）走到学校。
- (4) 小芳从家出发，先向（ ）走到（ ），最后向（ ）走到学校。





## 附参考答案

一、填空。

1、西，南； 2、北，南，西，东； 3，南，西， 4、北，840

5、南，北，西， 6、东，北，南，西， 7、南，北，北，南；

二、选择。B，A，B，

三、看图回答问题。

1、(1) 西，南，东，北， (2) 东，北， (3) 略

2、右上涂红色，右下涂绿色，左上涂黄色，左下涂蓝色。

3、 熊猫馆      马馆      飞禽馆

猴山      狮子馆      金鱼馆

大象馆      骆驼馆

五、看图说路线。(1) 东，广场，东南，商场，南，(2) 东北，电影院，东北，

(3) 南，邮局，西南， (4) 西，菜场，西北，

