



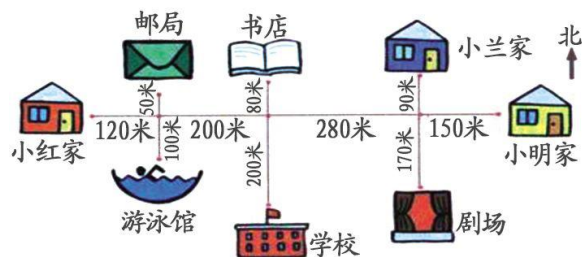
第三单元测试卷

一、填空题。

1. 地图通常都是按照上()、下()、左()、右()的方向绘制的。
2. 早晨,当你背对太阳时,你的前面是(),后面是(),左面是(),右面是()。
3. 与东相对的方向是(),与南相对的方向是(),与东南相对的方向是(),与西南相对的方向是()。
4. 你和小丽面对面站立,小丽面向东方,你面向()方。

二、观察下图回答问题。

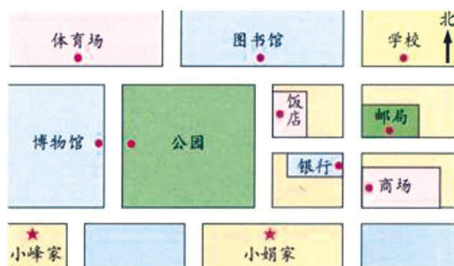
1. 小红从家向东走()米,又向()走()米到达书店。
2. 说一说,小红、小兰和小明放学回家的路线。



3. 你还能提出什么数学问题?

三、观察示意图并回答问题。

1. 小峰和小娟上学可以怎样走?用不同颜色的笔分别标出他们的上学路线。
2. 你还能提出什么数学问题?

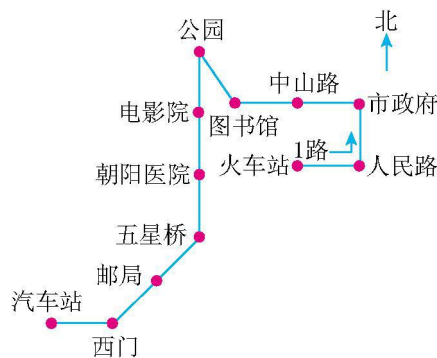




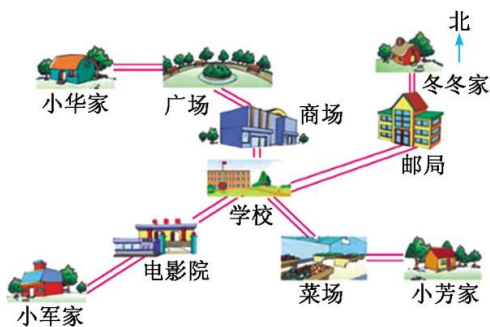
四、右面是1路公共汽车的行车路线图。

1. 1路公共汽车从()开往(),中间经过了()个站。

2. 小军从图书馆到五星桥,先向()方坐到(),再向()方坐到五星桥。



五、你能说出四个小朋友的上学路线吗?



六、观察下图,回答问题。



1. 2路车从()开往(),3路车从()开往()。

2. 小明从汽车站出发到书城,应乘()路车,乘()站。

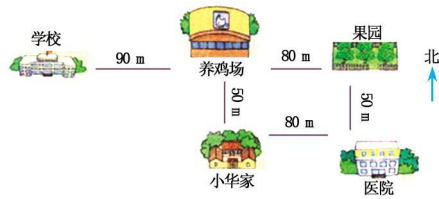
3. 小亮从文化宫出发到游乐场,应先乘()路车到()站下车,再乘()路车到游乐场。

4. 从花园小区到公园可以怎样乘车?





七、回答下面的问题。



1. 从小华家向()走,可以到达养鸡场;向()走,可以到达医院。
2. 小华的妈妈从养鸡场先向()走()米回家,再向()走()米上医院。
3. 小华放学回家,先向()走()米到(),再向()走()米就可以到家。

八、在地图上找到你的家乡所在的省份,然后说一说你的家乡在北京的哪个方向?





第三单元测试卷参考答案

一、1. 北 南 西 东

2. 西 东 南 北

3. 西 北 西北 东北

4. 西

二、1. 320 北 80

2. 小红从学校向北走 200 米,再向西走 320 米到家;小兰从学校向北走 200 米,再向东走 280 米,然后向北走 90 米到家;小明从学校向北走 200 米,再向东走 430 米到家。3. 略

三、略

四、1. 火车站 汽车站 10

2. 西北 公园 南

五、冬冬从家出发向南走到邮局,再向西南走到学校;小芳从家出发向西走到菜场,再向西北走到学校;小军从家出发向东北走到电影院,再向东北走到学校;小华从家出发向东走到广场,再向东南走到商场,最后向南走到学校。

六、1. 花园小区 动物园 汽车站 供电局

2. 3 3

3. 2 广场 3

4. 先乘 2 路车到广场下车,再乘 3 路车到公园。

七、1. 北 东 2. 南 50 东 80

3. 东 90 养鸡场 南 50 八、略

