



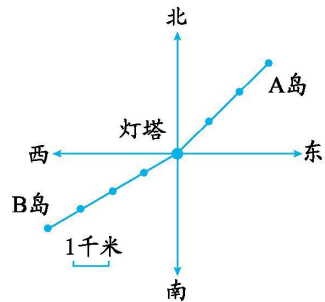
第五单元测试卷(B)

一、填空题。

1. 以灯塔为观测点:

A 岛在()方向上,距离是()千米;

B 岛在()方向上,距离是()千米。



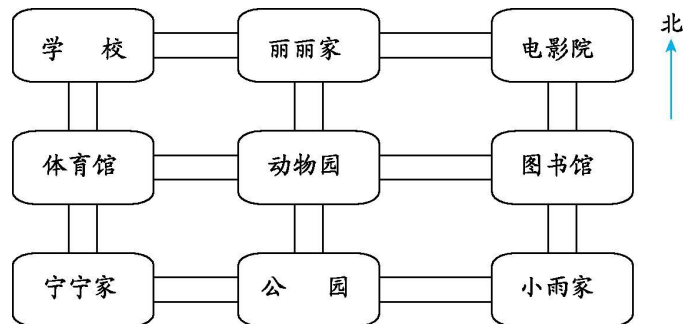
2. 丁丁坐在电影院第 8 列第 15 行,这个位置用数对

表示是(,)。

3. 教室里,张兵坐在黄佳的后面,如果黄佳的位置(4,5),则张兵的位置用数对表示

是(,)。

4. 丽丽家在体育馆的()方向上,动物园在电影院的()方向上,电影院在学校的()面,小雨家在学校的()方向上,学校在图书馆的()方向上,动物园在图书馆的()面,体育馆在学校的()面,丽丽家在学校的()面,公园在丽丽家的()面,宁宁家在动物园的()方向上,图书馆在学校的()方向上,动物园在小雨家的()方向上,电影院在宁宁家的()方向上。



二、判断题。

1. 当你面向西北方向时,你背对的是东南方向。 ()

2. 画路线图时,所有的方向都是以最初出发点为原观测点。 ()

3. 确定一个地点相对于某地的位置,需要知道方向和距离两个要素。 ()

4. 小胖面向北站着,当他向后转过身,他的右手边是西面。 ()

5. 学校和超市的位置分别是(5,a)、(6,a),这两个地点在同一行上。 ()

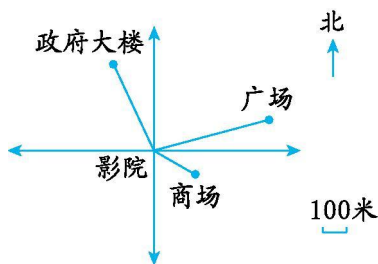




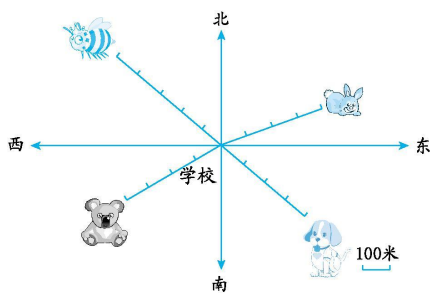
三、选择题。

1. 如果阳阳的座位在小明座位的西北方向上,那么阳阳要从自己的座位看向小明的座位,应看向()。
A. 东南方向 B. 北西方向 C. 西南方向
2. 汤姆猫设置了一个陷阱,距离陷阱东面 3 米是杰瑞家,杰瑞出门后向()走 3 米会很危险。
A. 东北方向 B. 西 C. 南
3. 把手表平放在桌上,让数字 12 正对着南面,那么对着东面的数字是()。
A. 9 B. 10 C. 8
4. 丽丽和平平背对背站着,丽丽面向西北方向,丽丽向前走 100 米,平平向前走 130 米,现在丽丽在平平的()处。
A. 东南方 230 米 B. 西北方 230 米 C. 东南方 100 米
5. 如右图,影院在()的西北方向上。

- A. 政府大楼
- B. 广场
- C. 商场



四、看图填一填。



1. 小蜜蜂在学校的()方向上,距离是()米。
2. 小兔子在学校的()方向上,距离是()米。
3. 小狗在学校的()方向上,距离是()米。
4. 小熊在学校的()方向上,距离是()米。





五、下面是四(1)班的座席表。

座席表

讲桌				
赵旭日	部林	冯潇霆	1	吉翔
吴曦	王晨	2	孙世林	3
武磊	4	秦升	5	郑智
6	毛彪	7	谭望嵩	8
隋维杰	9	曾诚	10	王大雷
张呈栋	张稀哲	孙可	耿晓峰	11

- 王大雷坐在第 5 列、第 5 行,他的位置用数对表示为(,)。
- 王晨坐在第()列、第()行,他的位置用数对表示为(,)。
- 耿晓峰坐在第()列、第()行,他的位置用数对表示为(,)。
- 李娜坐在 6 号位置,她在第()列、第()行,她的位置用数对表示为(,)。
- 张伟的位置用数对表示为(4,5),他在()号位置上,他的位置是第()列、第()行。





第五单元测试卷(B)答案

一、1. 东北 3 西南 4

2. (8,15)

3. (4,6)

4. 东北 西南 东 东南 西北 西

南 东 南 西南 东南 西北 东北

二、1. \checkmark 2. \times 3. \checkmark 4. \checkmark 5. \checkmark

三、1. A 2. B 3. A 4. B 5. C

四、1. 西北 500 2. 东北 400 3. 东南 400 4. 西南

400

五、1. (5,5)

2. 2 2 (2,2)

3. 4 6 (4,6)

4. 1 4 (1,4)

5. 10 4 5

