

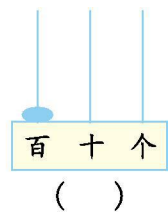
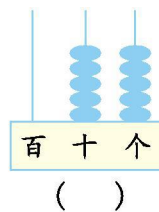
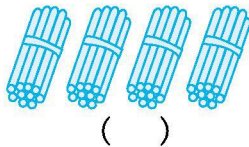
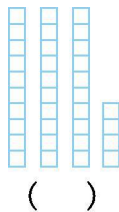


苏教版数学下学期重点小学一年级期末检测卷

班级： 姓名： 满分：100 分 时间：90 分钟

一、填一填。(25 分)

1. 看图写数。



2. 48 里面有()个十和()个一。个位上是 7,十位上是 2 的数是()。

3. 5 根 5 根地数,下面一共有()根。



4. 在 里填上合适的数字。

$37 > \square 8$

$52 < 5 \square$

$59 < \square 0$

$41 > \square 9$



5. () 元 () 角



() 元 () 角

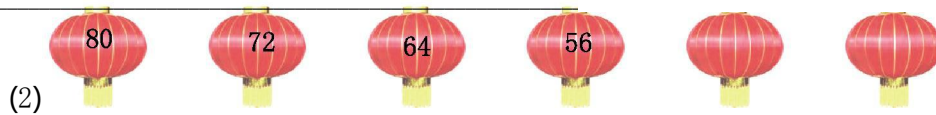
6. 1 枚 可以换成()枚 。一张 可以换成()张 。

7. 将 65、39、56 这三个数按从小到大的顺序填在括号里。

() < () < ()

8. 找规律,在每排最后的两个灯笼上填上合适的数。





二、选一选。(把正确答案的序号填在括号里)(12 分)

1. 从小到大数,39 后面是()。

- ①38 ②40 ③41

2. 比 50 大得多的数是()。

- ①50 ②52 ③80

3. 如果 $54+1\boxed{}$ 的和比 70 多, $\boxed{}$ 里是一个()数。

- ①比 6 小的 ②等于 6 的 ③比 6 大的

4. 60 个鸡蛋正好装满一盒,如果用这个盒子装苹果,能装的个数()。

- ①比 60 少 ②等于 60 ③比 60 多

5. 一个文具盒 8 元,小明只有 6 元 4 角,还差()。

- ①2 元 ②2 元 6 角 ③1 元 6 角

6. 用一张长方形纸不可能折出()。

- ①三角形 ②正方形 ③圆

三、算一算。(24 分)

1. 直接写出得数。(8 分)

$13-7=$	$14-5=$	$11-9=$	$12-4=$
$2+44=$	$30+63=$	$53-8=$	$50-6=$

2. 用竖式计算。(16 分)

$52+17=$	$27+68=$	$35+35=$	$47+39=$
----------	----------	----------	----------

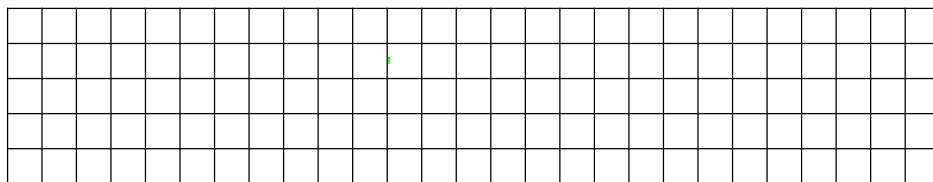
$61-53=$	$73-45=$	$50-24=$	$62-28=$
----------	----------	----------	----------






四、动手操作。(6分)

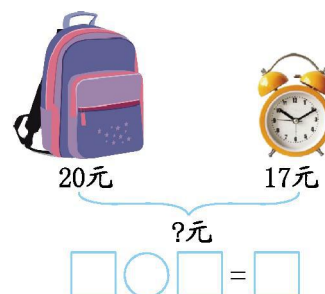
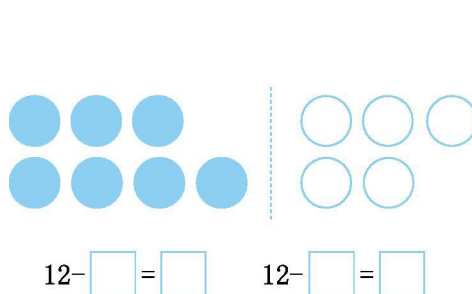
1. 在方格纸上画一个长方形、一个正方形和一个三角形。(3分)



2. 下面哪两个图形可以拼成一个正方形?连一连。(3分)

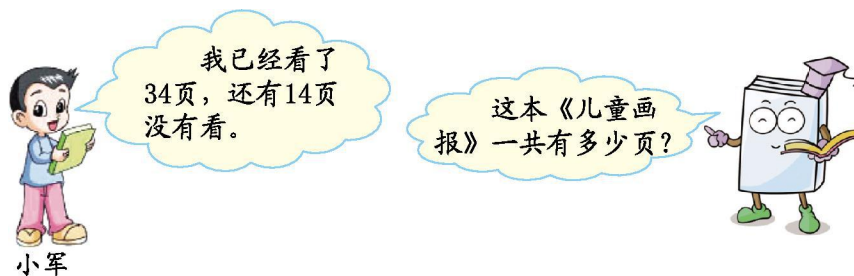


五、看图写算式。(6分)



六、解决问题。(27分)

1. (5分)



$$\square \bigcirc \square = \square \quad (\quad)$$





2. 地里有 64 个萝卜,拔了一些后,还剩 20 个。拔了多少个?(5 分)

$$\square \bigcirc \square = \square \quad (\quad)$$

3. 一个订书机 15 元,书包的价格比订书机贵得多,书包可能是多少元?在你认为合适的答案下面画 “ ”。(5 分)

18 元	23 元	50 元

4. 有 42 只鸭、85 只鸡和 39 只鹅。(12 分)

(1)鸭和鹅一共有多少只?

$$\square \bigcirc \square = \square \quad (\quad)$$

(2)鸡比鹅多多少只?

$$\square \bigcirc \square = \square \quad (\quad)$$





期末检测答案

一、1. 34 40 55 100

2. 4 8 27

3. 35

4. 答案不唯一，如：2 5 6 3

5. 25 6 1 2

6. 2 10

7. 39 56 65

8. (1) 49 50 (2) 48 40

二、1. ② 2. ③ 3. ③ 4. ① 5. ③ 6. ③

三、1. 6 9 2 8 46 93 45 44

2. 69 95 70 86 8 28 26 34

四、略

五、 $12-5=7$ $12-7=5$ $20+17=37$

六、1. $34+14=48$ (页)

2. $64-20=44$ (个)

3. 50 元

4. (1) $42+39=81$ (只)

(2) $85-39=46$ (只)

