



## 二年级上学期期中检测卷（B）

班级： 姓名： 满分：100 分 考试时间：90 分钟

题序	第一题	第二题	第三题	第四题	第五题	第六题	第七题	总分
得分								

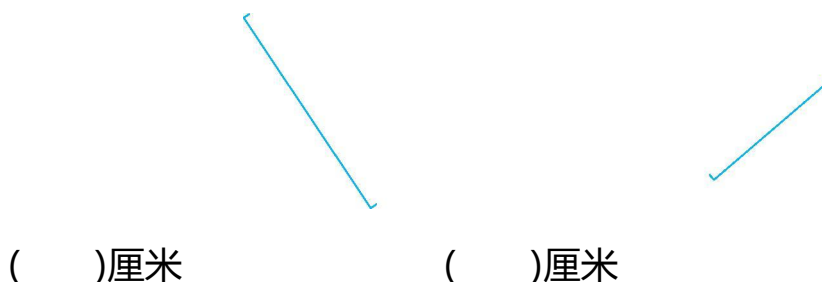
### 一、算一算。(10 分)

$$\begin{array}{ccccc}
 4 \times 4 = & 5 \times 5 = & 3 \times 5 = & 3 \times 7 = & 5 \times 8 = \\
 2 \times 6 = & 5 \times 4 = & 5 \times 9 = & 4 \times 6 = & 7 \times 4 =
 \end{array}$$

### 二、填一填。(20 分)

- $2 \times 5 = 10$  读作( )乘( )等于( ),这个式子表示( )个( )相加是( )。
- 5 个 5 相加是( ),再减去 5 得( )。
- 被除数是 18,除数是 3,商是( ),商加上 20 得( )。

### 三、量一量。(6 分)



### 四、选一选。(把正确答案的序号填在括号里)(9 分)



1. 的高度是( )。





- ①1 米 50 厘米      ②15 厘米      ③15 米      ④150 米

2.  $2+2+2+2+1$  可以改写成( )。

- ① $2 \times 5$       ② $2 \times 4$       ③ $2 \times 4 + 1$       ④ $2 \times 4 - 1$

3.  $6 \div 3$  表示求( )。


- ①3 个 6 是多少      ②6 里面有几个 2  
③6 里面有几个 3      ④6 个 2 是多少

五、根据乘法口诀写一道乘法算式和两道除法算式。(12 分)


四五二十	$\square \times \square = \square$	二三得六	$\square \times \square = \square$
	$\square \div \square = \square$		$\square \div \square = \square$
	$\square \div \square = \square$		$\square \div \square = \square$

六、根据题意列式计算。(16 分)



1. (4 分) 

$\square \div \square = \square$

2. (8 分) 

$\square \times \square = \square$	$\square \times \square = \square$
$\square \div \square = \square$	$\square \div \square = \square$

3. 把  $5 \times 3 = 15$  改写成两道除法算式。(4 分)

---



---

七、解决问题。(27 分)

1. 25 个羽毛球,分给 5 个班。平均每个班分得几个?(6 分)





2.18 个乒乓球,每班分得 3 个,能分给几个班?(7 分)

3.每班分 6 个小皮球,分给了 5 个班。一共分了几个小皮球?(7 分)

4.学校数学兴趣小组有 30 人,平均分成 5 组,每组有多少人?(7 分)





## 参考答案

一、16 25 15 21 40 12 20 45 24 28

二、1. 2 5 10 5 2 或(2 5) 10

2. 25 20

3. 6 26

三、3 2

四、1. ① 2. ③ 3. ③

五、 $4 \times 5 = 20$  或  $5 \times 4 = 20$   $20 \div 4 = 5$   $20 \div 5 = 4$

$2 \times 3 = 6$  或  $3 \times 2 = 6$   $6 \div 2 = 3$   $6 \div 3 = 2$

六、1.  $9 \div 3 = 3$

2.  $3 \times 4 = 12$   $4 \times 3 = 12$   $12 \div 3 = 4$   $12 \div 4 = 3$

3.  $15 \div 5 = 3$   $15 \div 3 = 5$

七、1.  $25 \div 5 = 5$ (个)

2.  $18 \div 3 = 6$ (个)

3.  $6 \times 5 = 30$ (个)

4.  $30 \div 5 = 6$ (人)

