




## 周测培优卷 2

### 分析物体之间简单位置关系的能力检测卷

一、我会辨“上、下”。(圈一圈)(15分)

 住在  的(上 下)面；  住在  的(上 下)面；  
 住在  的(上 下)面；  住在  的(上 下)面；  
 的下面是( )。





二、我会辨“前、后”。(画一画，圈一圈)(每题5分，共15分)



1. 在最前面的小动物下面画“△”。
2. 在最后面的小动物下面画“○”。

把正确的答案圈出来。



3. 在  的(前 后)面，在  的(前 后)面。

三、我会辨“左、右”。(每题12分，共36分)

1. 连一连。



左手


右手


2. 生活小常识。(圈一圈)

- (1)  敬礼用(左 右)手。





- (2)  与别人握手用(左 右)手。

- (3)  上下楼梯靠右行。  
(小兵 小月 小东)走错了。

3. 判断对错, 对的画“√”, 错的画“×”。



wǒ de shǒu biǎo dài zài zuǒ shǒu wǎn shàng  
我的手表戴在左手腕上。( )



wǒ yòng yòu shǒu ná kuài zi jiā jiǎo zi  
我用右手拿筷子夹饺子。( )

wǒ yòng zuǒ shǒu ná sān jiǎo chǐ yòng yòu shǒu ná qiān bǐ  
我用左手拿三角尺, 用右手拿铅笔。( )



四、我会综合应用。(填一填)(每空 3 分, 共 24 分)



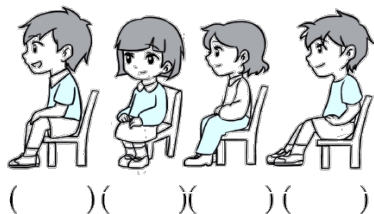
1. 国旗在黑板的( )面。      2. 讲桌在老师的( )边。
3. 老师在同学们的( )面。
4. 黑板的左边是( )表, 右边是( )表。
5. 小亮的左边是( ), 前面是( )。
6. “快乐学习”在国旗的( )边。

五、我会简单推理。(10 分)






他们分别是谁？把名字写在下面的括号里。



xiǎo bǎo zuò zài xiǎo yún de qián miàn  
小宝坐在小云的前面，  
xiǎo fēng zuò zài xiǎo jìng de hòu miàn  
小峰坐在小静的后面，  
xiǎo jìng zuò zài xiǎo yún de hòu miàn  
小静坐在小云的后面。



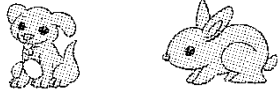




### 答案

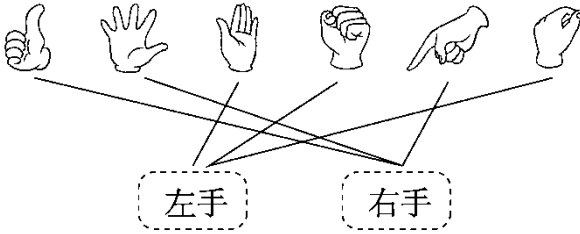
(上) 下    (上) (下)  
(上) 下    (上) (下)

一、 (   )



二、 1.  $\triangle$     2.  $\circ$

3. (前) 后    (前) (后)



三、 1.

(1) (左) (右)

(2) (左) (右)

2. (3) (小兵) (小月) 小东)

3.  $\checkmark$   $\checkmark$   $\times$

四、 1.上    2.右    3.前    4.课程    值日

5. 小静    小刚    6.左

五、 小宝    小云    小静    小峰

