

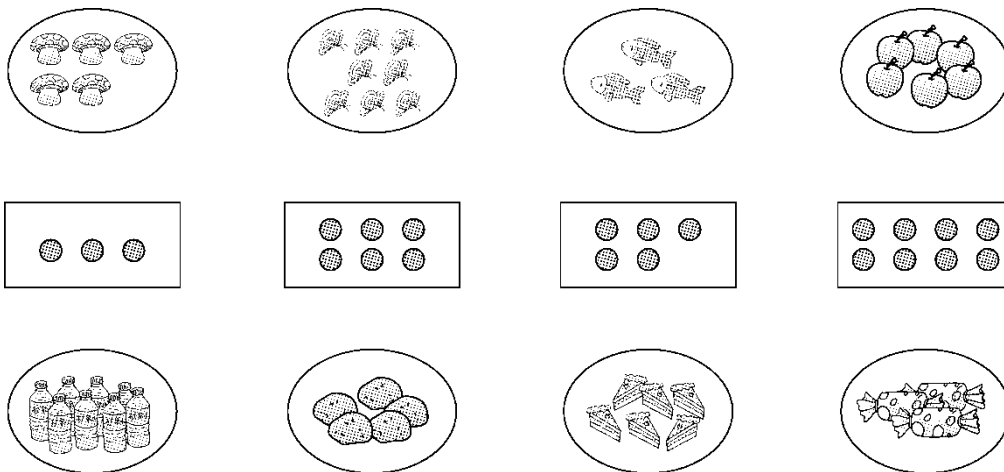


第一、二单元检测卷

时间：40分钟 满分：100分

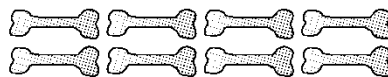
题号	一	二	三	四	五	六	七	八	总分
得分									

一、把同样多的连起来。(12分)



二、圈一圈。(18分)

1. 看数圈一圈。(9分)




2. 圈出正确的答案。(每题3分，共9分)





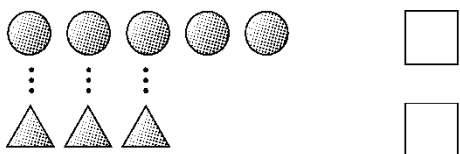
(1)  的右边是( )。

(2)  在  的(左 右 前 后)边。

(3)  的左边有(1 4 5)种水果。

三、比一比。(每题 3 分，共 9 分)

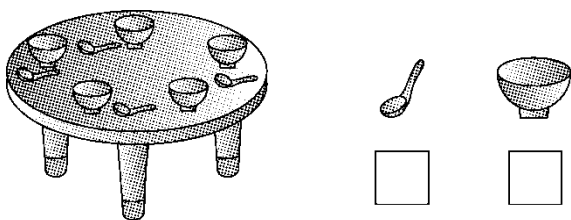
1. 在少的后面画“√”。



2. 在多的后面画“√”。



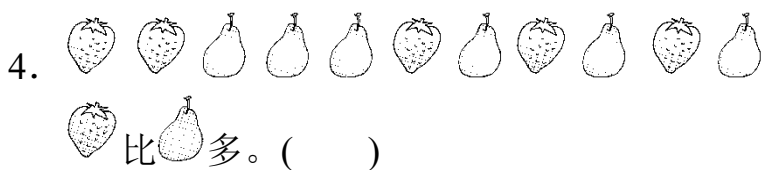
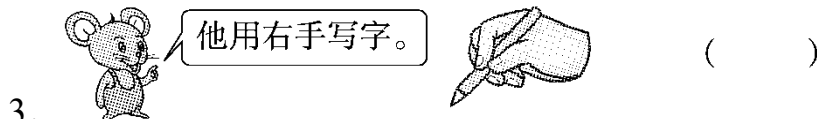

3. 在数量多的物体下面画“○”。



四、辨一辨，对的画“√”，不对的画“×”。(每题 2 分，共 10 分)

1






五、填一填。(每题4分，共16分)

1. 在桌子的_____面； 在 的_____面。

2. 在 的_____边，在 的_____边。

3. 在 的_____面， 在 的_____面。

4. 桌子的下面有_____和_____。



六、画一画。(1题6分，2题8分，共14分)

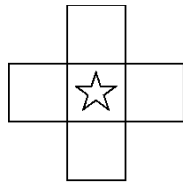
1. 数一数，照样子画一画。

○○○○○			





2. 在☆的左边画☀，右边画☾，上面画△，下面画⊕。

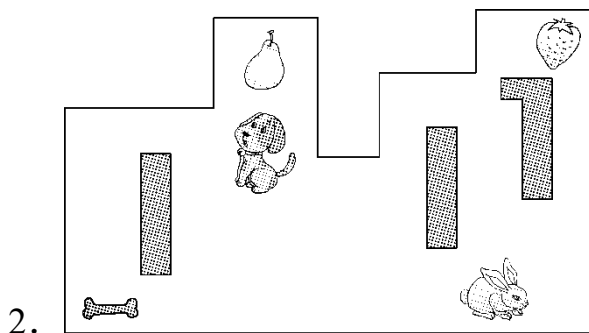


七、照样子涂一涂。(12分)

5	
3	
8	
10	
7	

八、解决问题。(1题3分，2题6分，共9分)

1. 要使每只小兔都能吃到一个萝卜，你认为挑哪一堆比较合适？把那一堆圈起来。




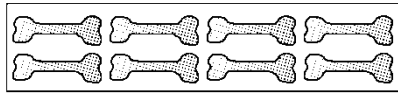
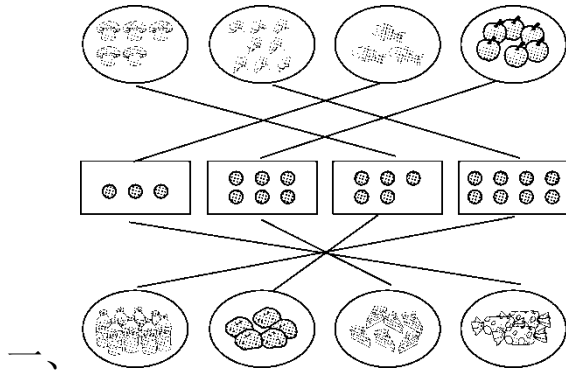
(1) 往(右 左)走，再往(上 下)走，就吃到 。

(2) 往(下 上)走，再往(右 左)走，就吃到 。





答案



2. (1) (2) 左 (3) 4

三、1. 在第二个 里画“√”。

2. 在第二个 里画“√”。

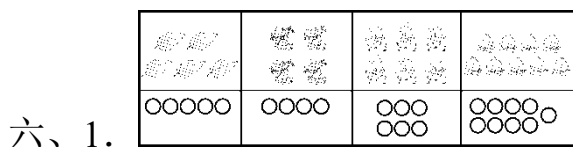
3. 在碗下面画“○”

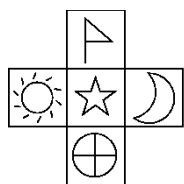
四、1. √ 2. × 3. √ 4. × 5. ×

五、1. 下 前 2. 左 右

3. 上 下

4. 猫 球





2.

七、略

八、1. 圈第3堆。 2. (1)右 上 (2)下 左

