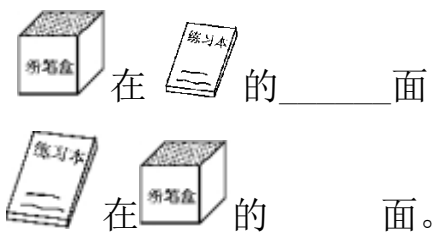




### 第二单元过关检测卷

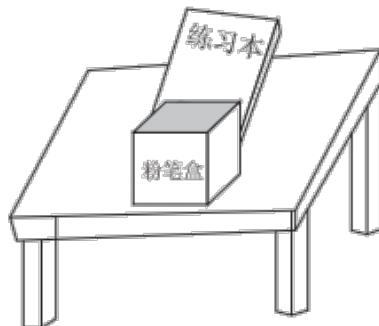
一、看图回答问题。(每空2分，共32分)

1.




粉笔盒在练习本的\_\_\_\_\_面

练习本在粉笔盒的\_\_\_\_\_面。



2.



(1) 在桌子的\_\_\_\_\_面； 在 的\_\_\_\_\_面。

(2) 在 的\_\_\_\_\_边，在 的\_\_\_\_\_边。



(3) 在 的\_\_\_\_\_面， 在 的\_\_\_\_\_面。

(4)桌子的下面有\_\_\_\_\_和\_\_\_\_\_。







3.






(1)  在  的\_\_\_\_面， 在  的\_\_\_\_面。

(2)  在  的\_\_\_\_面， 在  的\_\_\_\_面。

(3) 在最前面的是 (    )，在最后面的的是， (    )。(在选出的动物下面画“√”)。


## 二、圈一圈。(每题 12 分，共 24 分)

### 1. 圈出正确答案。



(1)  的右边是 (   )。


(2)  在  的(左右前后)边。

(3)  的左边有(1 4 5)种水果。

### 2. 按要求圈一圈

(1)“上下楼，靠右走”，请圈出走错的那位小朋友。








(2)请圈出左手拿花的小朋友。



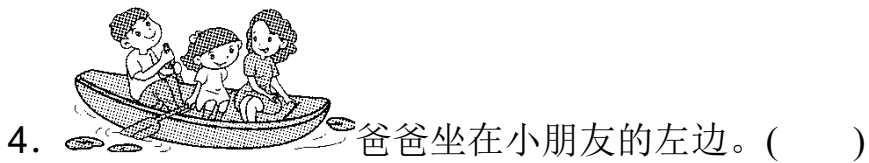
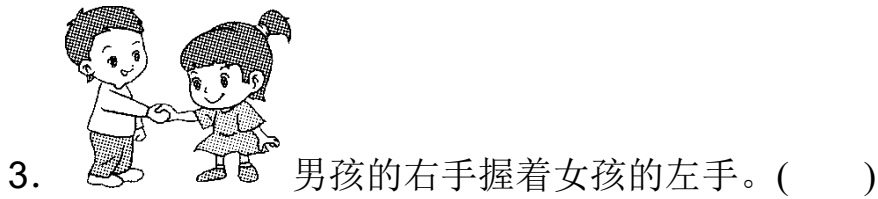

(3)请圈出桌子左边的物体。



三、请你当裁判员。(对的画“√”，错的画“×”)(每题4分，共16分)

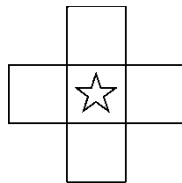
1.    ( )






四、画一画。(每题 8 分，共 16 分)。

1.



在☆的左边画☀，右边画☾，上边画▲，下边画⊕。

2.



在树的上面画一个太阳；

在树的下面画 3 个苹果；

在树的右边画 2 朵花；





五、按要求摆一摆，填一填。(只填序号)(12分)



①



②



③



④


1.  放在  的上面。

2.  放在  的上面。

3.  的下面是  。







### 答案

一、1.前 后


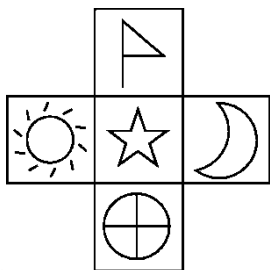
2. (1)下 前 (2)左 右 (3)上 下 (4)猫 球

3. (1)下 上 (2)后 前 (3)略

二、1.(1)圈葡萄 (2)右 (3)④

2. (1)略 (2)圈第一个小女孩 (3)略

三、1.× 2.√ 3.× 4.×



四、1.

①
②
③
④

五、

