



第四单元达标测试卷

一、我会填。(每空 1 分, 共 15 分)

1. $50 \div 5$ 的商是()位数, 最高位是()位。

2. 聪聪 4 分钟跳绳 484 下, 亮亮 5 分钟跳绳 625 下, 他们两人()跳得快一些。

3. 7 的()倍是 91, 363 是 3 的()倍。

4. $480 \div 6$, 可以把 480 看作()个十, ()个十除以 6 等于()个十, 即等于()。

5. 在 $\bigcirc \div \square = 6 \dots\dots 7$ 中, \square 最小是(), \bigcirc 最小是()。

6. 48 名同学去春游, 每 3 个人一顶帐篷, 需要()顶帐篷; 每 4 个人一顶帐篷, 需要()顶帐篷。

7. 一个三位数的最高位是 5, 除数是 6, 商一定是()位数; 如果除数是 4, 商一定是()位数。

二、我是小法官。(每题 2 分, 共 10 分)

1. 被除数的中间有 0, 商的中间也一定有 0。 ()

2. 要把 36 个苹果分给小朋友们, 每人分 5 个, 最多可以分给 7 个小朋友。 ()

3. 0 乘以任何数都得 0, 0 除以任何数也都得 0。 ()

4. 一个两位数除以 9, 商一定是两位数。 ()

5. $54 \div 5 = 1 \dots\dots 4$ 。 ()

三、我会选。(每题 2 分, 共 10 分)

1. $456 \div 7 = () \dots\dots ()$, 正确的是()。

A. 65 1 B. 69 4 C. 63 6

2. 纸盒里有 88 个乒乓球, 至少再添上()个乒乓球, 就能正好平均





分给 9 个小朋友。

- A. 3 B. 2 C. 7

3. 丫丫一周看了 84 页故事书, 平均每天看几页? 列式为()。

- A. $84 \div 7$ B. $84 \div 1$ C. 84×7

4. 猴子有 8 只, 熊猫有 84 只, 可以说熊猫的只数是猴子只数的()。

- A. 11 倍 B. 10 倍多一些 C. 10 倍

5. A 比 B 的 7 倍多一些, B 是最大的一位数, A 可能是()。

- A. 60 B. 65 C. 72

四、我是计算小能手。(3 题 4 分, 4 题 10 分, 其余每题 6 分, 共 26 分)

1. 直接写出得数。

$36 \div 3 =$

$804 \div 4 =$


$250 \div 5 =$


$560 \div 8 =$


$6300 \div 9 =$


$690 \div 3 =$


2.  中最大能填几?


 $\times 9 < 46$

 $\times 2 < 20$

 $\times 8 < 42$

 $\times 7 < 50$

 $\times 6 < 70$

 $\times 5 < 55$

3. 连一连。

$450 \div 9$

$608 \div 6$

$212 \div 7$

$405 \div 4$

商末尾有 0

商中间有 0

4. 用竖式算一算, 带“*”的要验算。





$700 \div 5 =$

$*575 \div 4 =$

$928 \div 8 =$

$*603 \div 7 =$

五、把下面两道题错误的原因填在括号里，并改正。(4分)

A. 首位的余数没有落下来

B. 计算时没有按步骤进行计算

$$\begin{array}{r} 34 \\ 2 \overline{)68} \\ \underline{68} \\ 0 \end{array}$$

改正:

$$\begin{array}{r} 11 \\ 6 \overline{)76} \\ \underline{6} \\ 6 \\ \underline{6} \\ 0 \end{array}$$

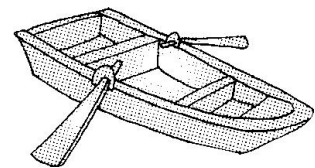
改正:

()

()

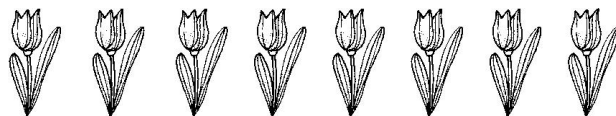
七、解决问题。(1题4分，其余每题5分，共29分)

1. (变式题)三年级一共有师生238人，周六去平安公园划船，至少要租多少条船?



限乘4人

2. (变式题)重阳节要到了，红红要给奶奶买郁金香，请你帮她算一算哪个花店的郁金香便宜？每枝便宜多少元？



甲花店：3枝45元

乙花店：5枝60元



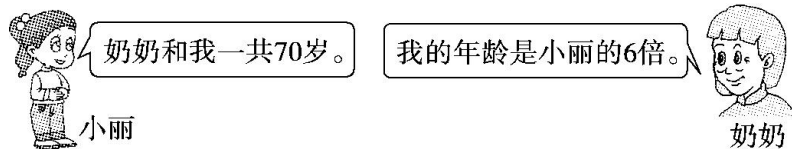


3. 小亮从图书馆借了一本故事书，共 240 页。

(1)小亮计划 3 天看 96 页，他计划平均每天看多少页？

(2)照这样的速度，他一个星期能看完吗？

4.(变式题)奶奶和小丽各多少岁？



5.一个 100 人的旅游团去长岛游玩，请你帮忙计算一下，租哪种船最省钱。

5人快艇150元

4人渔船100元

30人的观光船300元

6.将一根木头锯成 8 段，一共用了 56 分钟，平均锯一次要多长时间？





答案

一、1. 两 十 2. 亮亮 3. 13 121

4. 48 48 8 80 5. 8 55

6. 16 12 7. 两 三

二、1. × 2. √ 3. × 4. × 5. ×

三、1. A 2. B 3. A 4. B 5. B

四、1. 12 201 50 70 700 230

2. 5 9 5 7 11 10

$450 \div 9$ $608 \div 6$ $212 \div 7$ $405 \div 4$

3.

商末尾有0

商中间有0

4. 140 143……3 116 86……1

$$\begin{array}{r} 34 \\ 2 \overline{) 68} \\ \underline{6} \\ 8 \\ \underline{8} \\ 0 \end{array}$$

五、B 改正：

$$\begin{array}{r} 12 \\ 6 \overline{) 76} \\ \underline{6} \\ 16 \\ \underline{12} \\ 4 \end{array}$$

A 改正：

六、0 0 1000 999 999 999

[点拨] 0 和 1 的计算特点要熟记。

七、1. $238 \div 4 = 59(\text{条}) \dots\dots 2(\text{人})$

$$59 + 1 = 60(\text{条})$$

答：至少要租 60 条船。

[点拨] 本题运用了“进一法”。

2. 甲： $45 \div 3 = 15(\text{元})$ 乙： $60 \div 5 = 12(\text{元})$

$$15 > 12 \quad 15 - 12 = 3(\text{元})$$





答: 乙花店的郁金香便宜, 每枝便宜 3 元。

3.(1) $96\div3=32$ (页)

答: 他计划平均每天看 32 页。

(2)一个星期=7(天)

$32\times7=224$ (页) $224<240$

答: 他一个星期不能看完。

4. $1+6=7$ $70\div7=10$ (岁)

$10\times6=60$ (岁)

答: 奶奶 60 岁, 小丽 10 岁。

5. 5 人快艇: $100\div5=20$ (条)

$150\times20=3000$ (元)

4 人渔船: $100\div4=25$ (条)

$100\times25=2500$ (元)

30 人观光船: $100\div30=3$ (条).....10(人)

$3+1=4$ (条)

$300\times4=1200$ (元)

$3000>2500>1200$

答: 租 30 人的观光船最省钱。

6. $8-1=7$ (次) $56\div7=8$ (分钟)

答: 平均锯一次要 8 分钟。

