



第四单元测试卷 (B)


一、数一数,圈一圈。

1. 从右数第 3 个:
2. 从左数第 4 个:
3. 从右数第 2 个:
4. 从左数第 5 个:

二、按要求圈一圈。

- 从左边圈出 2 个。
- 从右边圈出 3 个。

三、看图填一填。



在 的()面。

在 的()面。


住在最()面。



住在最()面。









四、把正确的答案圈起来。



的(左、右)面是 。

的(前、后)面是 。


在 的(上、下)面。

五、



1. 下楼的小朋友靠自己的()边走, 上楼的小朋友靠自己的()边走。
2. 上楼、下楼和在路上行走我们都应靠自己的()边走。

六、





1. 从左数起小马排第(), 从右数起小象排第()。
2. 小鹿的后边有()个小动物, 前边有()个小动物, 一共有()个小动物。





七、



1. 图中一共有()个小动物。
2. 从左数,  排第(), 从右数, 排第()。
3. 从左数,  排第(), 从右数, 排第 2 的是()。
4. 把左边的 4 个小动物圈起来。
5. 把从右数第 5 个小动物圈起来。


八、小敏家住在小英家楼下, 小英家住在小兰家楼下, ()家住在一楼, ()家住在二楼, ()家住在三楼。



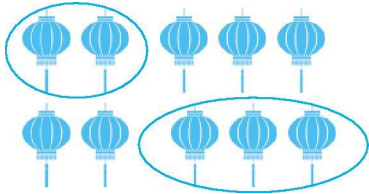


参考答案

一、



二、



三、 在 的(上)面。

在 的(下)面。

住在最(上)面。

住在最(下)面。

四、 的(左、右)面是。

的(前、后)面是。

在 的(上、下)面。

五、1. 右 右 2. 右

六、1. 4 4 2. 5 2 8

七、1. 6 2. 4 3 3. 3 猴子



八、小敏 小英 小兰

