



第五单元过关检测卷

一、看谁算得又快又对。(15分)

$48+30=$ $35-30=$

$26+9=$ $48-6=$

$7+38=$ $72-9=$

$50+36=$ $54-6=$

$24+8=$ $75-40=$

$61-9=$ $22-6=$

$24-6=$ $32-4=$

$63-5=$

二、在 里填上“>”“<”或“=”。(6分)

$39-5$ 34 $47+30$ 80

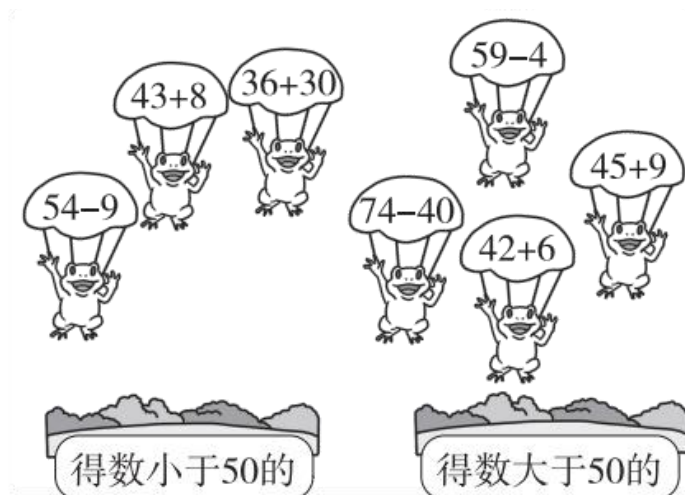
$50+8$ 58 $64-4$ 68

$25+5$ $30-4$

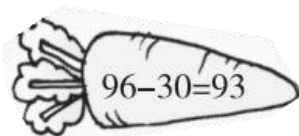
$34+9$ $44-9$

三、青蛙该分别跳进哪个池塘？(连一连)(7分)



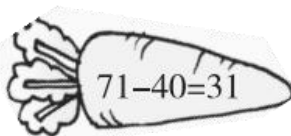


四、 哪个萝卜生病了? (对的画“√”，错的画“×”，并改正)(8分)



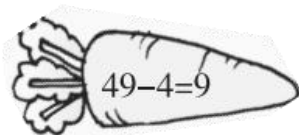
()

改正:



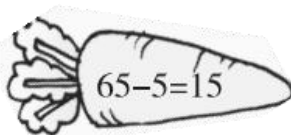
()

改正:



()

改正:



()

改正:

五、 估一估，下面每个算式的得数是几十多? (6分)

$32+20$ 得数是()十多

$63-30$ 得数是()十多

$74-8$ 得数是()十多

$52+2$ 得数是()十多

$9+33$ 得数是()十多

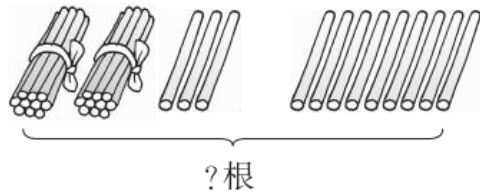




78-50 得数是()十多

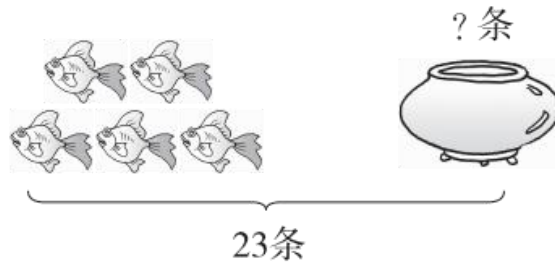
六、看图列式计算。(每题4分，共16分)

1.



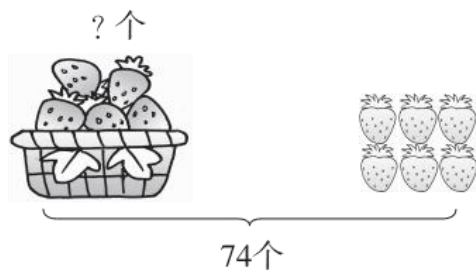
$$\square \bigcirc \square = \square \text{ (根)}$$

2.



$$\square \bigcirc \square = \square \text{ (条)}$$

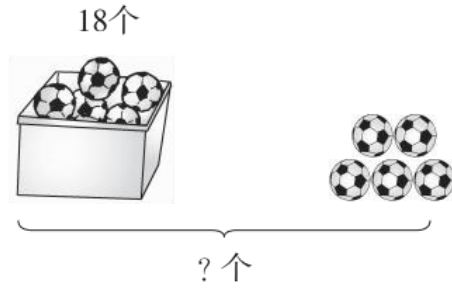
3.



$$\square \bigcirc \square = \square \text{ (个)}$$




4.





$$\square \bigcirc \square = \square \text{ (个)}$$

七、 我会填表。(12分)

			
原有	() 件	40 辆	54 个
卖出	19 件	() 辆	9 个
还剩	20 件	8 辆	() 个

八、 解决问题。(1题10分，2题5分，3题15分，共30分)

1. 田园卫士。



(1)大猫头鹰和小猫头鹰一共吃了多少只田鼠？

$$\square \bigcirc \square = \square \text{ (只)}$$





(2)大猫头鹰比小猫头鹰多吃了多少只田鼠？

$$\square \bigcirc \square = \square \text{ (只)}$$


2.



剩下的放进篮子里，篮子里有多少个？

$$\square \bigcirc \square = \square \text{ (个)}$$

3.



(1)明明比芳芳多捡了多少个塑料袋？

$$\square \bigcirc \square = \square \text{ (个)}$$

(2)明明和芳芳一共捡了多少个饮料罐？

$$\square \bigcirc \square = \square \text{ (个)}$$

(3)你还能提出什么数学问题？并解答。





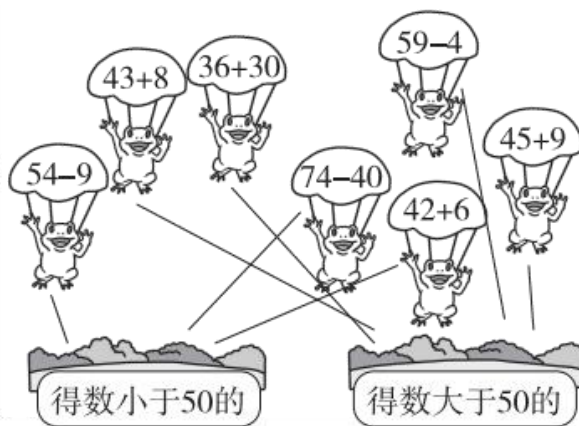
答案

一、78 5 35 42 45 63 86 48 32 35 52

16 18 28 58

二、= < = < > >

三、



四、× $96-30=66$ √ × $49-4=45$

× $65-5=60$

五、五 三 六 五 四 二

六、1. $23+9=32$ (根)

2. $23-5=18$ (条)

3. $74-6=68$ (个)

4. $18+5=23$ (个)

七、39 32 45

八、1. (1) $8+30=38$ (只)

(2) $30-8=22$ (只)

2. $43-9=34$ (个)





3. (1) $28-9=19$ (个)

(2) $6+19=25$ (个)

(3)明明和芳芳一共捡了多少个塑料袋？

$28+9=37$ (个)

点拨：(3)题答案不唯一。

