



第八单元测试卷(A)

一、这些图形各表示几?

$$1. \begin{cases} \square + \square = 12 \\ \square = \square + \square + \square \end{cases}$$

那么 $\square = (\quad)$, $\triangle = (\quad)$ 。

$$2. \begin{cases} \square - \circ = 40 \\ \square = \circ + \circ + \circ + \circ + \circ \end{cases}$$

那么 $\triangle = (\quad)$, $\circ = (\quad)$ 。

$$3. \begin{cases} \square + \square = \circ + \circ + \circ + \circ + \circ \\ \square + \square = \circ + \circ + \circ \end{cases}$$

那么 $\star + \square = (\quad)$ 个 \circ 。

$$4. \begin{cases} \circ + \circ + \circ + \square + \square = 14 \\ \square = \circ + \circ \end{cases}$$

那么 $\circ = (\quad)$, $\triangle = (\quad)$ 。

二、填空题。

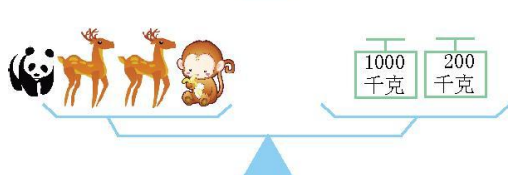
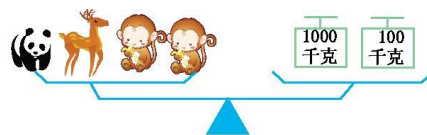
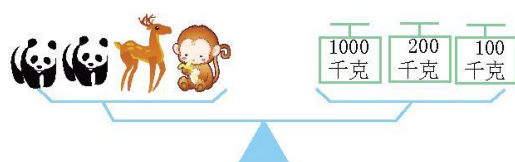
1. 如图,把图画每两张重叠在一起钉在墙上,现在有 5 张画,需要()个图钉。



2. 1 只羊 $\xrightarrow{\text{换}}$ 4 只兔 1 头猪 $\xrightarrow{\text{换}}$ 2 只羊

2 头猪 $\xrightarrow{\text{换}}$ () 只兔

3.




= () 千克 = () 千克

= () 千克





4.



桃子、苹果、菠萝三种水果一样重。

一个菠萝=()个苹果

一个菠萝=()个桃子

三、解决问题。

1. 如图所示,小华从学校经过街心花园到少年宫,一共有()条路线可以走。



2. 四个队踢足球,每两个队都要比赛一场,一共要比赛多少场?

先在下面用线连一连,再回答。



红队

黄队

绿队

蓝队

3. 春节期间,小军、小刚与小红要互相拜年。

(1)他们3人每2人通一次电话,一共通了多少次?

(2)如果他们互相寄一张节日贺卡,一共寄了多少张?





第八单元测试卷(A)答案

一、1. 9 3 2.50 10 3.4 4.2 4

二、1.12 2.16 3.400 300 200 4.3 5

三、1.8 2.连线略 6场

3. (1)3次 (2)6张

