



第7单元《100以内的加减法(二)》试题

一、算一算(34分)

1、口算(16分)

$$\begin{array}{cccccc} 67-24= & 65-6= & 77-34= & 96-61= & 9+26= & 33+4= \\ 75-25= & 54-14= & 67-56= & 56-9= & 18+12= & \\ 42+9= & 43+3= & 48+4= & 25+3= & 23+9= & \end{array}$$

2、用竖式计算下面各题。(12分)

$$45+26 = \quad 74-29 = \quad 53-17=$$

$$34+48+13 = \quad 35+26-24 = \quad 79-8-25 =$$

3. ☆表示几, 直接填在☆里。(6分)

$$\begin{array}{r} 4 \star \\ + \star 2 \\ \hline 78 \end{array}$$

$$\begin{array}{r} \star 3 \\ + 42 \\ \hline 8 \star \end{array}$$

$$\begin{array}{r} 78 \\ - \star 2 \\ \hline 5 \star \end{array}$$

$$\begin{array}{r} 7 \star \\ - \star 0 \\ \hline 56 \end{array}$$

二、我会在○里填上“>”、“<”、“=”。(12分)

$$\begin{array}{ccc} 45+26 \bigcirc 70 & 54 \bigcirc 28+16 & 80-16 \bigcirc 80+16 \\ 90-28 \bigcirc 60 & 43 \bigcirc 93-50 & 43+26 \bigcirc 90-21 \end{array}$$

三、我会判断对错, 并改正。(6分)

$$\begin{array}{r} 33 \\ + 28 \\ \hline 51 \end{array}$$

()









$$\begin{array}{r} 56 \\ - 4 \\ \hline 16 \end{array}$$

()





四、连一连 (8分)

51-29+17	85-30-36	67+23-48	38+24+13
			
			

五、解决问题 (共 40 分。)

1、一(1)班给希望工程捐款 36 元，一(2)班给希望工程捐款 54 元。

(1) 两个班一共捐款多少元?

$$\square \bigcirc \square = \square \text{ (元)}$$

(2) 二班比一班多捐款多少元?

$$\square \bigcirc \square = \square \text{ (元)}$$

2、青蛙吃害虫。两只青蛙一共吃了多少只害虫?



$$\square \bigcirc \square = \square \text{ (只)}$$

3、 卡车 面包车 大客车



45 辆

36 辆

12 辆

(1) 卡车比面包车多多少辆?

$$\square \bigcirc \square = \square \text{ (辆)}$$





(2) 面包车和大客车一共有多少辆？

$$\square \bigcirc \square = \square \text{ (辆)}$$

4、超市里热水瓶 27 元，热水壶比热水瓶贵 39 元。热水壶要多少元？

$$\square \bigcirc \square = \square \text{ (元)}$$

5、小方的奶奶要过 65 岁生日了，小方要折 65 个纸鹤送给她。第一夭折了 22 个，第二天折了 28 个。小方还需要折多少个纸鹤？

$$\square \bigcirc \square \bigcirc \square = \square \text{ (个)}$$

6、小亮、佳佳和小丽三名同学收集邮票的情况如下：

小亮	佳佳	小丽
25 张	27 张	33 张

这三名同学一共收集了多少张邮票？

$$\square \bigcirc \square \bigcirc \square = \square \text{ (张)}$$





附参考答案

一、算一算。

1、口算。43, 59, 43, 35, 35, 37, 50, 40, 11, 47, 30, 51, 46, 52, 28, 32;

2、竖式计算。71, 45, 36, 95, 37, 46;

3、 $46+32=78$, $43+42=85$, $78 - 22=56$, $76 - 20 =56$

二、>, >, <, >, =, =

三、判断并改正。×, 61; ×52

四、连一连。上1—下3, 上2—下4, 上3—下2, 上4—下1

五、解决问题。

1、(1) $36+54=90$ (元) $54 - 36 =18$ (元)

2、 $56+30 = 86$ (只)

3、(1) $45 - 36 =9$ (辆) (2) $36+12=48$ (辆)

4、 $39+27=66$ (元)

5、 $65 - 22 - 28 = 15$ (个)

6、 $25+27+33=85$ (张)

