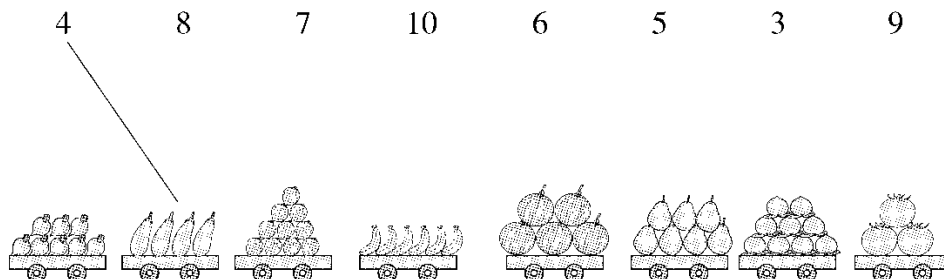





第一单元跟踪检测卷

一、我会数。(共 19 分)

1. 照样子，连一连。(7 分)

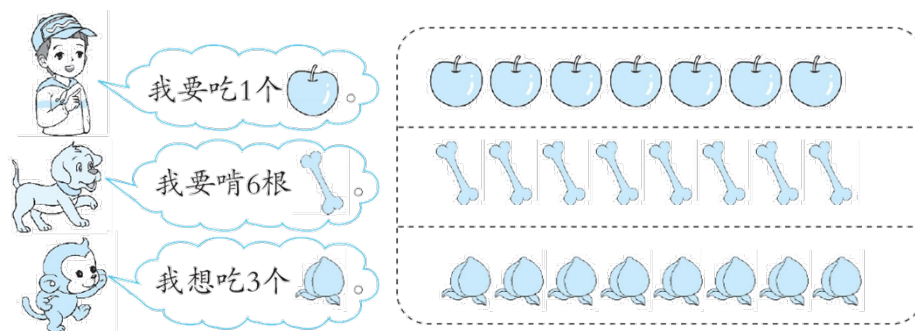


2. 数一数，连一连。(12 分)




二、我会圈。(共 18 分)

1. 读一读，圈一圈。(每题 2 分，共 6 分)


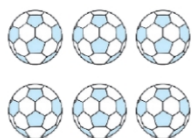


2. 照样子，数一数并圈出正确的数。(每题 2 分，共 6 分)

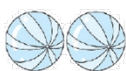




3. 在后面三组图中，圈出与第一组图同样多的数量。(6分)

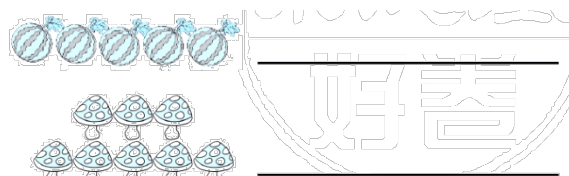
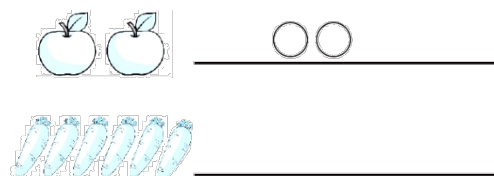


三、我会连。把数量同样多的用线连起来。(6分)



四、我会按要求做题。(每题6分，共12分)

1. 照样子画一画。



2. 把不够的图形补上，把多余的图形划掉。

9 △ △ △ _____

4 ☆ ☆ ☆ _____


5 ○ ○ ○ ○ ○ ○ ○ ○

五、我会比。(共26分)


1. 数一数，比一比。(每题3分，共12分)

(1) 在多的后面画“√”。

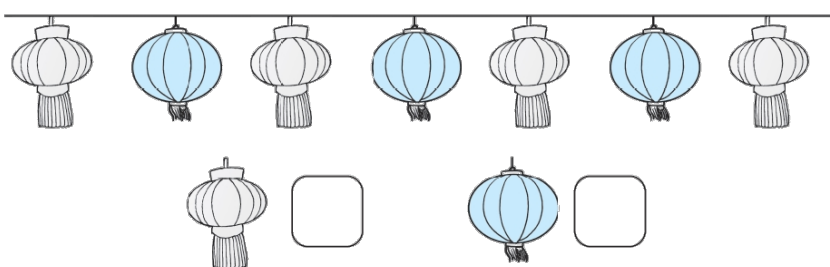





(2)在少的后面画“√”。



(3)在多的后面画“√”。



(4)在多的后面画“√”。



2. 比一比，画一画。(每题 2 分，共 6 分)

(1)画□，和☆同样多。




☆☆☆☆☆

(2)画△，比○多。


○○○○





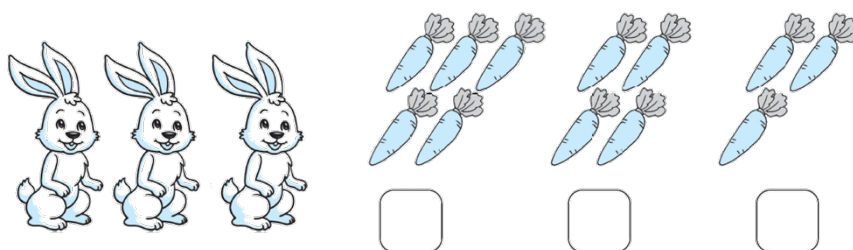
(3)画  , 比  少。


3. 比一比，写一写。在后面写上“多”或“少”。(8分)





六、我会想。(3题4分，其余每题5分，共19分)


1. 每只小兔吃一根胡萝卜，哪堆胡萝卜正好吃完。在 ☐ 里画“√”。

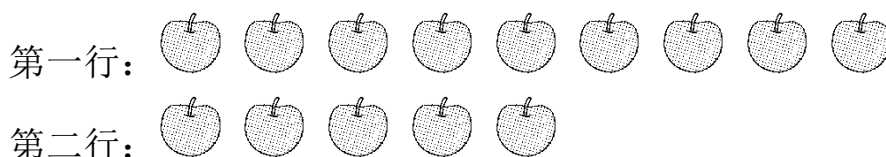




2. 妈妈买了多少双袜子?



3.  小明的一份学习资料被风吹到了地上,他捡起来一看少了两页,请你帮他找一找少的是哪两页。

少的是第()页和第()页。

4. 巧妙移 。



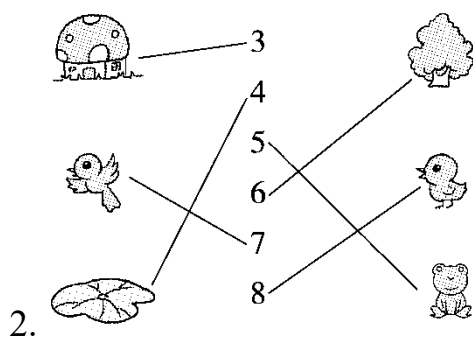
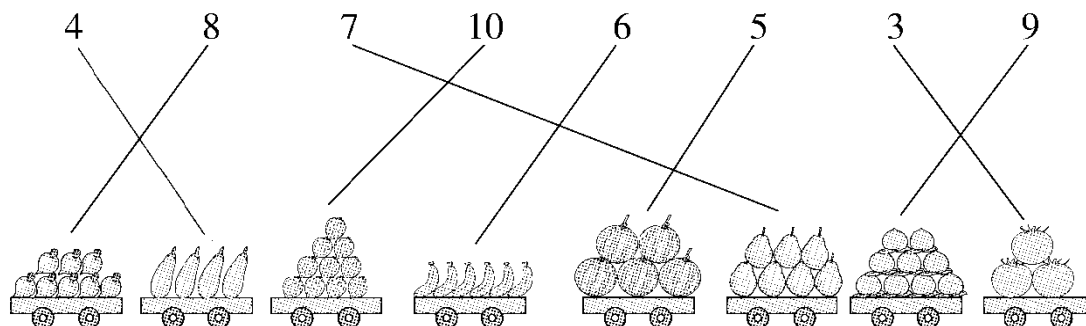
第一行移()个  到第二行，两行  同样多。



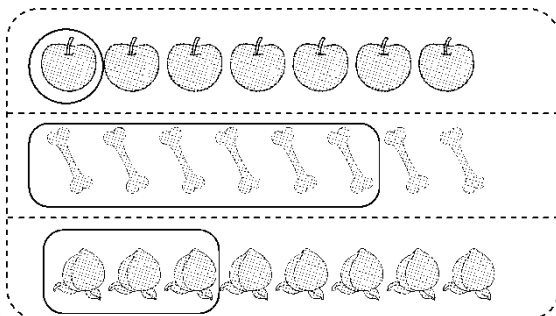


答案





一、1.




2.



二、1.

			
② 3 4	3 ④ 5	5 ⑥ 7	7 ⑧ 9

2.

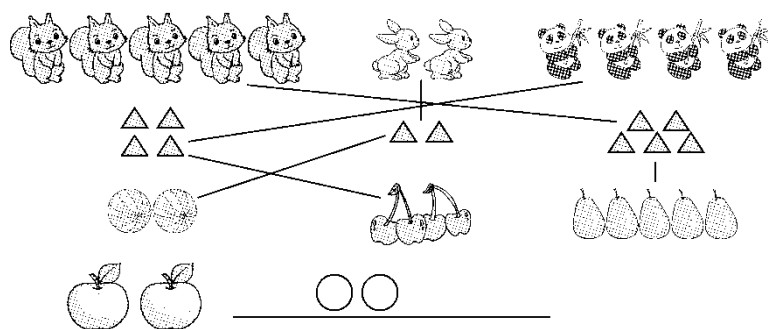


3.

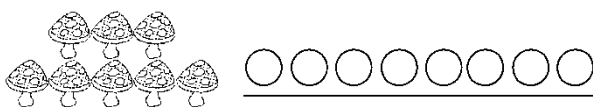




三、





四、1.



2. $\triangle\triangle\triangle\triangle\triangle\triangle$



五、1.(1)



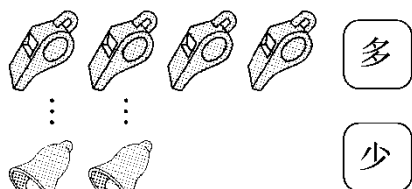
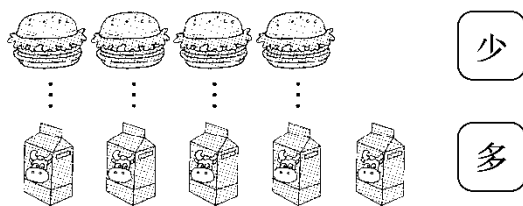
2. (1) $\square\square\square\square\square$

(2) $\triangle\triangle\triangle\triangle\triangle$ (答案不唯一)

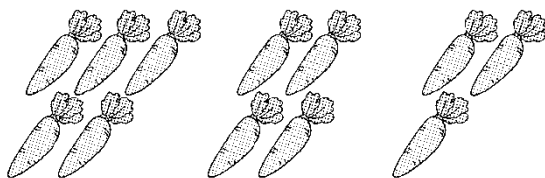




(3) (答案不唯一)



3.



六、1. ☐ ☐ ☒

2. 4

3. 4 8

4. 2

