



小学三年级数学（上）一单元测试题

一、连一连。



大象

500g



保温壶

50g



黄瓜

3kg



鸡蛋


100kg



白鳍豚

3吨

二、在括号里填上适当的单位。



三、在括号里填上适当的数。

1、3000 千克= () 吨

2、4 千克= () 克

3、6 吨= () 千克

4、5000 千克= () 吨

5、4 千克= () 克

6、2000 千克= () 吨

7、9 吨= () 千克

8、() 克=7 千克

9、8000 克= () 千克

10、() 千克=5 吨

四、在○里填上“>”、“<”或“=”。

3 千克 ○ 3000 克

1 千克 ○ 900 克

6 千克 ○ 6 吨

5900 克 ○ 6 千克

4 千克 ○ 4050 克

8 吨 ○ 8000 千克

五、改错。

找出乐乐数学日记中的五处单位使用上的错误，把错误摘录在横线上，并在括号里订






正。

乐乐的数学日记: 今天是星期六, 早上, 我拿着重 50 千克的牙刷刷牙, 吃了两个 100 千克的包子后就和妈妈一起去市场买菜。市场上的物品可真多, 我和妈妈转了一圈, 一共买了 1 吨黄瓜, 2 克鸡蛋, 3 千克白菜, 每个 200 克的梨 5 个, 1000 千克肉, 我和妈妈拎着这些东西, 累得满头大汗。

- 1、 _____ () 2、 _____ ()
3、 _____ () 4、 _____ ()
5、 _____ ()


六、解决问题。

1、  有 5000 克苹果, 每 1 千克装 1 袋。 一共可以装多少袋?

2、 采石厂原来有建筑用石 10 吨, 上午运走了 8000 千克, 下午又开采了 3000 千克。采石厂现在有建筑用石多少吨?



3、 有一座载重为 1 吨的桥, 下面最多有几只动物可以一齐通过?





附参考答案

一、连线。上1—下5，上2—下1，上3—下3，上4—下2，上5—下4

二、填单位。1、克，2、吨，3、千克，4、克

三、填数。1、3，2、4000，3、6000，4、5，5、4000，6、2，7、9000

8、7000，9、8，10、5000；

四、比大小。=，>，<，<，<，=

五、改错。

1、50 千克，(50 克)，2、100 千克 (100 克)，3、1 吨 (1 千克)，4、2 克 (2 千克)

5、1000 千克 (1000 克)

六、解决问题。

1、5000 克=5 千克 $5 \div 1=5$ (袋) 答：一共可以装 5 袋。

2、10 吨-8000 千克+3000 千克=10 吨-8 吨+3 吨=5 吨 答：现在有建筑用石 5 吨。

3、 $180+120+240+200=740$ (千克) 答：最多有 4 只动物可以一齐通过。

免费更新、分享教育教学资料请加微信：584335160 或 x3481913332

本店出售的资料均为清茶和雪花老师亲自整理，**免费更新资料或使用中遇到问题，加任何一位老师微信都可以：如已经加过老师微信，请不要重复添加**



【雪花老师】



【清茶老师】

123456 年级上册各种资料】购买后本
学期免费更新，一直到学期结束哦！

