




### 第四单元检测卷

(时间:60 分钟 分数:\_\_\_\_\_)

#### 一、连一连。(10 分)



平行四边形      圆      三角形      长方形      正方形

#### 二、涂一涂。(14 分)


1. 给长方形涂红色, 正方形涂蓝色。(8 分)



2. 给三角形涂红色。(6 分)



#### 三、数一数。(15 分)



长方形	( ) 个
正方形	( ) 个





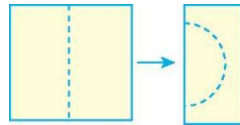
平行四边形	( )个
三角形	( )个
圆	( )个

四、用哪个物体可以画出左边的图形?请把它圈出来。(12分)


五、选一选。(把正确答案的序号填在括号里)(12分)

1. 、、、把这一组图形拼起来,能得到( )。

- ①正方形      ②长方形      ③平行四边形      ④圆



2. 如右图,对折后沿虚线剪,剪出的是一个( )。

- ①正方形      ②长方形      ③平行四边形      ④圆

3. 用( )的面能画出三角形。

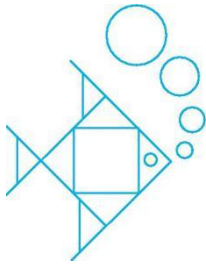
- ①      ②      ③      ④

六、数一数。(18分)



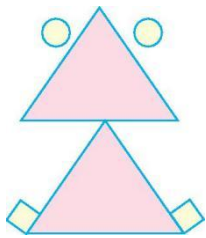


1. (9分)



○有( )个, □有( )个, △有( )个。

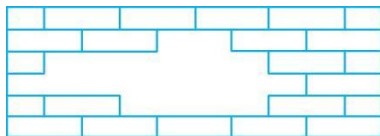
2. (9分)



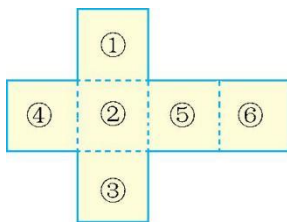
○有( )个, □有( )个, △有( )个。

七、解决问题。(19分)

1. 需要多少块砖才能把墙补好?(6分)



2. 沿虚线折一折。(6分)



折出来的是什么图形? 几号面和②号面相对?

3. 两个完全一样的三角形能拼成一个什么图形?(7分)





## 第四单元检测卷

一、提示：第一行从左到右分别是长方形、正方形、平行四边形、三角形、圆。 连线略

二、略

三、5 5 2 3 3

四、提示：分别圈第三、一、二、三个物体

五、1. ④ 2. ④ 3. ③

六、1. 5 2 7 2. 2 2 2

七、1. 10 块

2. 正方体，⑥号面和②号面相对

3. 平行四边形、三角形。

