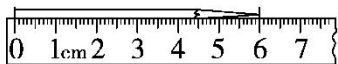




第六单元过关检测卷

一、填一填。(每空 1 分, 共 19 分)

1.



铅笔长()cm。



木条长()cm。

2. 1 米=()厘米

500 厘米=()米

1 米 30 厘米=()厘米

3. 学生尺上, 从刻度 0 到 6 是()厘米; 从刻度 4 到 12 是()厘米。

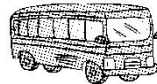
4. 在括号里填上“米”或“厘米”。



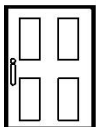
茶叶筒高 25()。



打火机长 8()。



中巴车长 5()。



门高 2()。



松树高 10()。



回形针长 3()。

5. 在○里填上“>”“<”或“=”。

1 米○99 厘米

100 厘米○2 米

400 厘米○4 米

890 厘米○9 米

35 厘米○3 米

66 厘米○6 米

二、辨一辨。(对的画“√”, 错的画“×”。每题 1 分, 共 5 分)

1. 东东的两手臂张开大约长 3 厘米。 ()

2. 一根黄瓜长 18 米。 ()

3. 没有 0 刻度的断尺也能用作测量工具。 ()





4. 100 厘米的铁丝比 1 米的铁丝长。 ()

5. 华华每分钟跑 5 厘米。 ()

三、选一选。(将正确答案的序号填在括号里。每题 2 分, 共 10 分)

1. 下列物品中, () 比较接近 1 厘米。

- ①1 本数学书的厚度 ②1 个文具盒的宽度
③1 本《新华字典》的厚度



2. 小云一步长大约是 38()。

- ①米 ②厘米 ③拃

3. 手机宽约() 厘米。

- ①60 ②2 ③6

4. 下面测量长度不正确的是()。


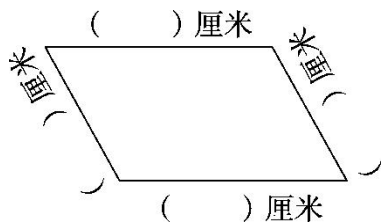


5. 比 1 米短的是()。

- ①床的长度 ②教室的宽 ③钢笔的长度

四、量一量, 画一画。(第 1 题 7 分, 第 2 题 4 分, 共 11 分)

1. 量一量。






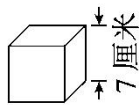
2. 画一画。

(1)画一条长 4 厘米的线段。 (2)画一条比 2 厘米长 1 厘米的线段。

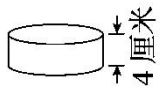
五、在比 1 米高的物体下面画“√”，在比 1 米矮的物体下面画“×”。(6 分)



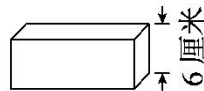
六、算一算，填一填。(每空 4 分，共 12 分)



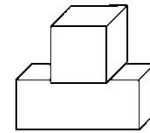
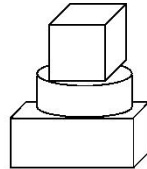
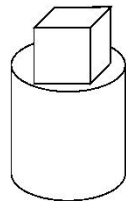
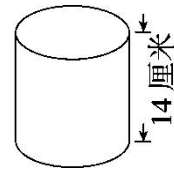
() 厘米



() 厘米

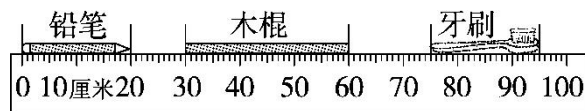


() 厘米



七、比一比，填一填。(第 1 题 6 分，第 2 题 5 分，共 11 分)

1.



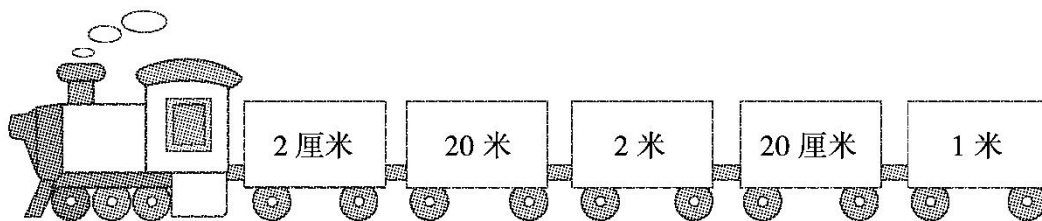
(1)() 和 () 一样长，都是 () 厘米。

(2)木棍比 40 厘米短 () 厘米。





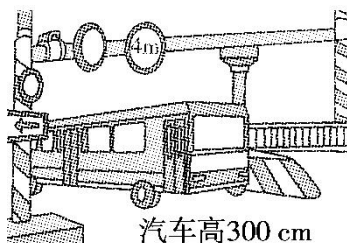
2.



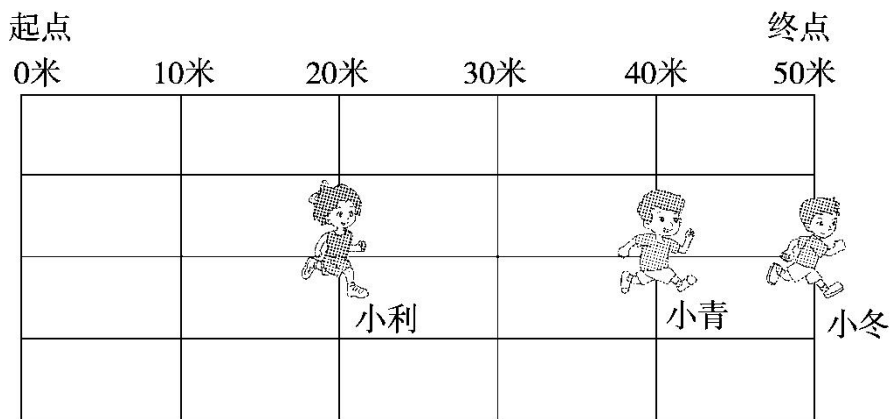
() < () < () < () < ()

八、解决问题。(第 1, 4 题每题 5 分, 第 2, 3 题每题 8 分, 共 26 分)

1. 汽车能通过这个限高杆吗? 为什么?



2. 三名同学进行 50 米赛跑。



(1)小利跑了()米, 离终点还有()米。

(2)小冬比小青多跑()米。

(3)()是第一名。

(4)请你再提出一个数学问题并解答。



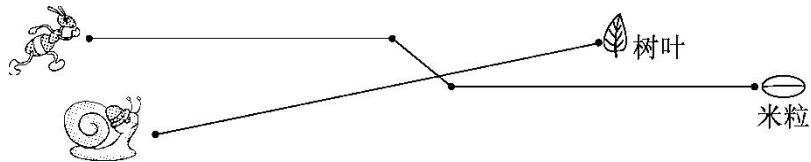


3. 运动会中，淘淘跳远的成绩如下。

第一次	第二次	第三次	第四次
1 米 68 厘	149 厘	1 米 50 厘	172 厘
米	米	米	米

- (1)跳得最远的一次成绩是()。
- (2)跳得最近的一次成绩是()。
- (3)最远和最近的成绩相差()。
- (4)把这四次跳远成绩按从小到大的顺序排一排。

4. 量一量，小蜗牛要爬()厘米才能吃到树叶。



请你再提出一个数学问题并解答。





答案

一、1.6 5 2.100 5 130 3.6 8

4.厘米 厘米 米 米 米 厘米

5.> < = < < <

二、1.× 2.× 3.√ 4.× 5.×

三、1.① 2.② 3.③ 4.② 5.③

四、略

五、

六、21 17 13

七、1.(1)铅笔 牙刷 20 (2)10

2.2 厘米 20 厘米 1 米 2 米 20 米

八、1.能 $300\text{ cm}=3\text{ m}$ $3\text{ m}<4\text{ m}$

2.(1)20 30 (2)10 (3)小冬

(4)略

3.(1)172 厘米 (2)149 厘米 (3)23 厘米

(4)149 厘米 $<$ 1 米 50 厘米 $<$ 1 米 68 厘米 $<$ 172 厘米

4.6 蚂蚁要爬多少厘米才能吃到米粒? 9 厘米。(所提问题不唯一)

