



苏教版数学一年级上学期期末测试卷

一、填空（每空 1 分，共 10 分）

1. 小红的左边有 4 个人，右边有 6 个人，小红站的这一行一共（ ）人。

2. 爸爸今年 48 岁，儿子今年 19 岁，13 年前，爸爸比儿子大（ ）岁。

3. 用 0、1、3 可以组成（ ）个两位数。

4. 在 1、2、3、4、5 之间添上“+”号，相邻的 2 个数字可以组成一个数，使它们的和为 69。 1 2 3 4 5=69

5. 一只井底的蜗牛，白天可以爬 2 米，晚上下滑 1 米，已知井深 5 米，蜗牛（ ）天可以爬到井外。

6. $\square + \bigcirc = 80$ ， $\bigcirc + 16 = 20$ ， $\bigcirc = (\quad)$ ， $\square = (\quad)$ 。

7. 3 个人同时吃 3 个桃子，用 3 分钟才吃完，10 个人同时吃 10 个桃子需要（ ）分钟。

8. 客厅里有 8 根日光灯，全亮着，如果关了三根，现在客厅里还有（ ）根日光灯。

二、巧算（未简便计算的不得分）（每题 3 分，共 15 分）

(1) $2+4+6+8+10$

(2) $98+98$

(3) $57+18+43$

(4) $1+3+5+7+9+11+13+15+17+19$


(5) $67+54-27$






三、操作题（第1题9分，第2题12分，第3题8分，第4题6分，共35分）


1. 一个煎饼，切3刀，有几种切法，请在下图中画出来。



() 块




() 块



() 块

2. 下图是由一些图形拼成的机器人，数一数机器人中各种图形各有几个？



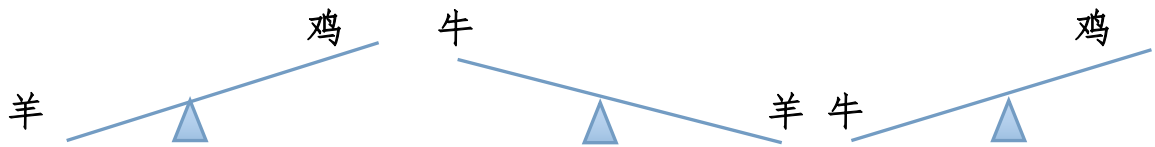
长方形：() 个

正方形：() 个

圆：() 个

三角形：() 个

3. 按从重到轻的顺序排列下列动物。





4. 请移动其中 1 根火柴棒，使等号两边相等。（把正确的算式填在右边横线上）

(1)

(2)

四、解决问题（每题 8 分，共 40 分）

1. 小红有 13 本书，小明有 7 本书，小红给小明几本书后两人的书本数一样多？

2. 1 只大箱子里有 3 只中等的箱子，每只中等的箱子里又有 4 只小箱子，一共有多少只箱子？





3. 有 25 个小朋友排队回家，排在红红前面的有 18 人，排在红红后面的有多少人？

4. 哥哥给弟弟 18 元之后，弟兄两人的钱就一样多，原来哥哥比弟弟多多少元？

5. 李老师买了 15 根跳绳要分给 2 个班，要求每个班的根数都是单数，可以这样分吗？为什么？





标准答案及评分标准

一、填空（每空 1 分，共 10 分）

1、 11

2、 29

3、 $\square=5$

4、 1+2 3+4 5=69

5、 4

6、 $\bigcirc=4$ $\triangle=76$

7、 3

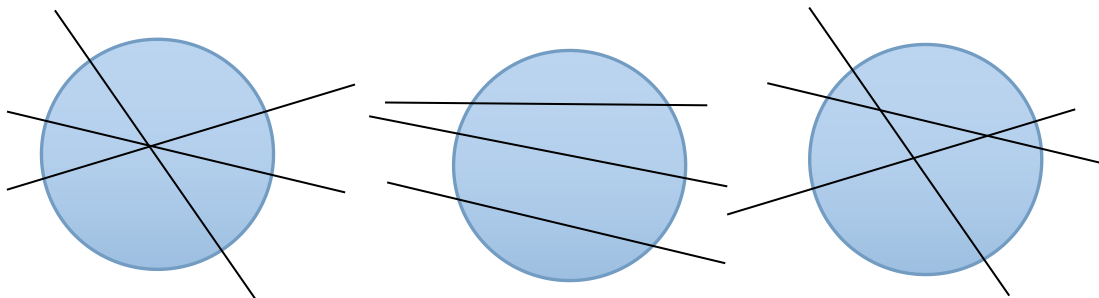
8、 8

二、巧算（每题 3 分，共 15 分）未简便计算的不得分

(1)30 (2)196 (3)118 (4)100 (5)94

三、操作题

1.



(6 种)

(4 种)

(7 种)

(每种方法 3 分，共 9 分)

2、 12 4 6 7（每小题 3 分）

3、牛>鸡，羊>鸡，牛>羊（6 分），所以牛>羊>鸡（2 分）

4、(1)1-1+11=11(3 分)

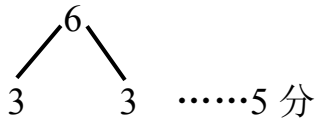




(2) $14-7+4=11$ (3分)

四、解决问题（每题6分，共48分）

1、 $13-7=6$ （本）……3分



2、 $1+3+4+4+4=16$ ……8分

3、 $25-18-1=6$ ……8分

4、 $18+18=36$ ……8分

5、 $3+1+3=7$ ……8分

6、单数+单数=双数……4分

15是单数……2分

不可以这样分……2分

