



四年级上册数学单元测试-4.三位数乘两位数的乘法

一、单选题

1.3 个 8 相加, 正确的算式是 ()。

- A. $3+8$ B. 8×8 C. 3×8 D. 3×3

2.与 32×3 不相等的算式是 ()

- A. $32+32+32$ B. 3×32 C. $32+3$

3.怎样算简便

$7080\times 905 = ()$

- A. 6407400 B. 353600 C. 646000 D. 676000

4.50 乘 80 的末尾有 () 个 0。

- A. 2 B. 3 C. 4

5.饲养场养鹅 1258 只, 养鸭的总数是鹅的 3 倍, 共养鸭多少只? 养的鸭比鹅多多少只? 正确的是 ()

- A. 共养鸭 4737 只, 鸭比鹅多 3479 只 B. 共养鸭 3774 只, 鸭比鹅多 2516 只
C. 共养鸭 4377 只, 鸭比鹅多 3119 只 D. 共养鸭 3477 只, 鸭比鹅多 2219 只

6. 12×63 的结果是 ()。

- A. 586 B. 756 C. 1536

7.两个数相乘的积与这两个数的和相比, ()

- A. 积大 B. 积小 C. 相等 D. 无法确定大小

8.得数比 1800 大, 比 2800 小的算式是 ()。

- A. 3×600 B. 4×600 C. 5×600 D. 6×600

9.在计算 45×23 时, 用 2 去乘 45 得到的是 ()。

- A. 90 B. 90 个十 C. 90 个百

10.新棉纺厂有男工 67 人, 女工人数是男工的 3 倍, 女工有 ()

- A. 70 人 B. 181 人 C. 201 人 D. 170 人

二、判断题

11.判断对错

6 乘一个三位数, 积可能是三位数, 也可能是四位数.

12.两位数乘三位数积一定是四位数.

13.判断对错

一个因数的中间有 0, 积的中间也一定有 0。

14.判断对错

(1) $0+0+0+0=4$

(2) $0+0+0+0$ 表示有 4 个 0 连加.

15.判断对错

$54+54+54$ 与 54×3 的得数相等.

三、填空题

16.同学们排成方阵做操, 冬冬的东、南、西、北方向各有 4 名同学, 这个方阵一共有_____名同学?





17.李师傅上星期工作 5 天, 每天做 7 套衣服. 这星期做衣服 67 套. 两个星期一共做了_____套衣服.

18.计算

(1) $28 \times 72 =$ _____

(2) $208 \times 36 =$ _____

(3) $6800 \times 340 =$ _____

19.填一填.

_____00 \times _____ = 1200

_____00 \times _____ = 1200

_____00 \times _____ = 1200

_____00 \times _____ = 1200

20.火车每小时行 115 千米, 从今晚 9 时出发到明天下午 3 时, 共行驶_____千米?

21.口算

$10 \times 58 =$ _____

$25 \times 40 =$ _____

$11 \times 80 =$ _____

22.两位数乘两位数, 积可能_____位数, 也可能是_____位数。

23.计算.

(1) $408 \times 25 =$ _____

(2) $24 \times 321 =$ _____

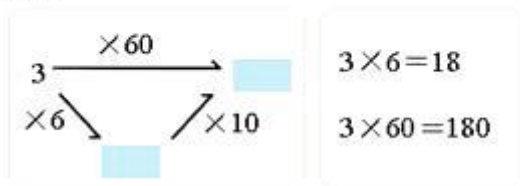
24.学校买了 42 包笔记本, 每包 20 本, 一共买来_____本。

25.看图回答

$3 \times 60 =$



我的算法



像小胖那样算:

$5 \times 80 =$ _____ $7 \times 90 =$ _____

26.直接写出得数。 $20 \times 10 =$ _____ $25 \times 10 =$ _____ $50 \times 30 =$ _____ $31 \times 30 =$ _____

$30 \times 20 =$ _____ $13 \times 20 =$ _____ $40 \times 20 =$ _____ $42 \times 20 =$ _____

$80 \times 60 =$ _____ $21 \times 40 =$ _____ $3001 \times 10 =$ _____ $23 \times 100 =$ _____

$70 \times 40 =$ _____ $34 \times 20 =$ _____ $200 \times 30 =$ _____ $12 \times 300 =$ _____

四、计算题





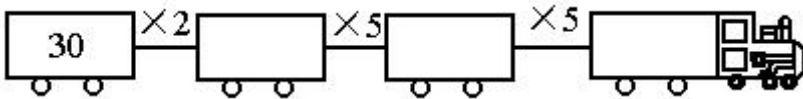
27.森林医生。(对的画“√”，错的帮忙改正过来)

$$\begin{array}{r} 25 \\ \times 11 \\ \hline 25 \\ 25 \\ \hline 50 \end{array}$$

$$\begin{array}{r} 13 \\ \times 12 \\ \hline 26 \\ 13 \\ \hline 156 \end{array}$$

$$\begin{array}{r} 43 \\ \times 21 \\ \hline 43 \\ 86 \\ \hline 803 \end{array}$$

28.谁的火车先到站?



五、解答题

29.(1)这辆货车能否一次装载这些货物()



A. 能 B. 不能

(1) A.能 B.不能_____

(2) 这辆货车最多能装多少箱货物? _____

30.我有 6 元钱，买哪一种贺卡正好把钱用完? 能买几张?



1元



2元



4元

六、应用题

31.一头奶牛一天产奶 17 千克，照这样计算，24 头奶牛一星期一共产奶多少千克?

32.一个足球 55 元，班上要买 15 个足球，需要准备多少钱?





答案解析部分

一、单选题

1. 【答案】C 2. 【答案】C 3. 【答案】A 4. 【答案】B 5. 【答案】B 6. 【答案】B
7. 【答案】D 8. 【答案】B 9. 【答案】B 10. 【答案】C

二、判断题

11. 【答案】正确 12. 【答案】错误 13. 【答案】错误 14. 【答案】(1) 0 (2) 1 15. 【答案】正确

三、填空题

16. 【答案】81 17. 【答案】102 18. 【答案】(1) 2016 (2) 7488 (3) 2312000
19. 【答案】6; 2; 3; 4; 4; 3; 2; 6
20. 【答案】2070
21. 【答案】580; 1000; 880
22. 【答案】三; 四
23. 【答案】(1) 10200 (2) 7704
24. 【答案】840
25. 【答案】400; 630
26. 【答案】200; 250; 1500; 930; 600; 260; 800; 840; 4800; 840; 30010; 2300; 2800; 680; 6000;
3600

四、计算题 27. 【答案】

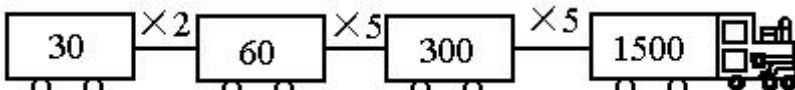
(×)
$$\begin{array}{r} 25 \\ \times 11 \\ \hline 25 \\ 25 \\ \hline 50 \end{array}$$

(×)
$$\begin{array}{r} 25 \\ \times 11 \\ \hline 25 \\ + 25 \\ \hline 275 \end{array}$$

(√)
$$\begin{array}{r} 13 \\ \times 12 \\ \hline 26 \\ 13 \\ \hline 156 \end{array}$$

(×)
$$\begin{array}{r} 43 \\ \times 21 \\ \hline 43 \\ 86 \\ \hline 803 \end{array}$$

(×)
$$\begin{array}{r} 43 \\ \times 21 \\ \hline 43 \\ + 86 \\ \hline 903 \end{array}$$

28. 【答案】解：

五、解答题 29. 【答案】(1) B (2) 8箱

30. 【答案】解：可以买6张1元的贺卡，也可以买3张2元的贺卡，还可以买一张2元的和一张4元的贺卡。

六、31. 【答案】解：17×24×7

$$=408 \times 7$$

$$=2856 \text{ (千克)}$$

答：24头奶牛一星期共产奶2856千克。

32. 【答案】55×10=550, 55×5=275, 550+275=825 元答：需要准备825元

