





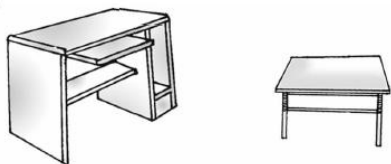
第一单元达标测试卷

一、比一比。(每题 6 分，共 24 分)

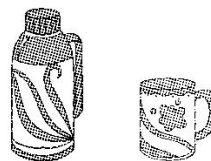
1. 长的画√，短的画△。



2. 高的画√，矮的画○。



3. 大的画“☆”，小的画“○”。



4. 最重的画√，最轻的画○。




二、涂一涂。(每题 6 分，共 12 分)

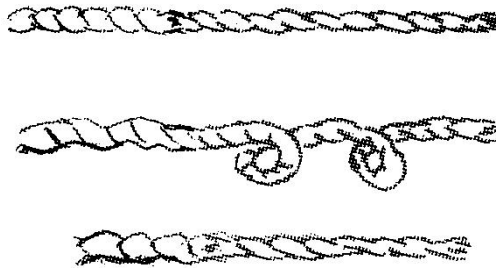




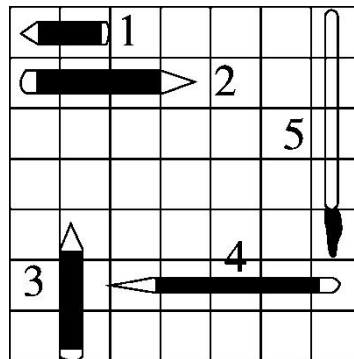
1.把最高的花涂上红色，最矮的花涂上黄色。



2. 把最长的涂上红色，最短的涂上绿色。



三、排一排。(从长到短依次排起来)(10分)



号 → 号 → 号 → 号 → 号

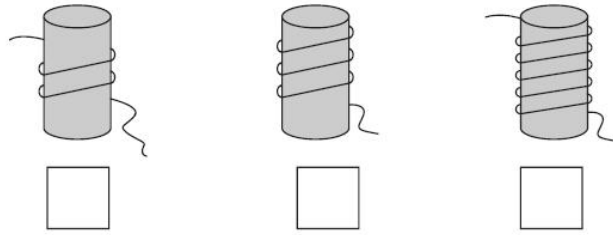
四、我会比较。(1题4分，2题6分，共10分)

1.个子高的画√，矮的画○。






2.哪根绳子最长？最长的画“√”。

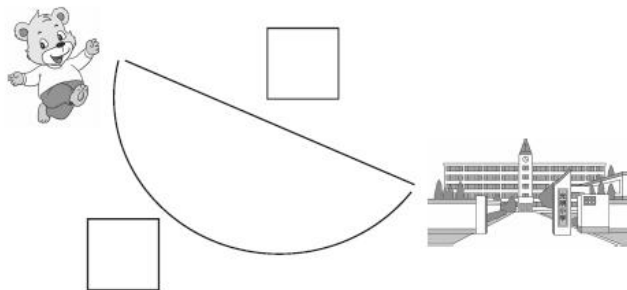


五、在身高最高的小动物下面画“√”，在身高最矮的小动物下面画“○”。(12分)




六、动脑筋，想一想。(1题7分，2题9分，其余每题8分，共32分)

1.(变式题)小熊去上学，走哪条路最近？在□里画“√”。



2.(变式题)帮小动物们找家。(连一连)





3. 下面是小峰和小亮的衣服，他们穿着都正好。请你猜一猜，小峰
的个子高，还是小亮的个子高？在高的下面画“○”。

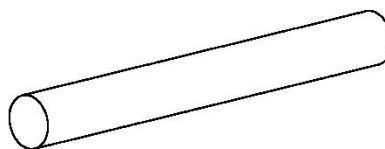


小峰



小亮

4.(变式题)有两根同样长的木头，做家具剩余的如下图，哪根用得
多，在 里画“√”。





答案

一、1.

2.

3.

4.

二、1. 第3朵花涂红色，第2朵花涂黄色。

2. 第2根绳子涂红色，第3根绳子涂绿色。

三、5号→4号→2号→3号→1号

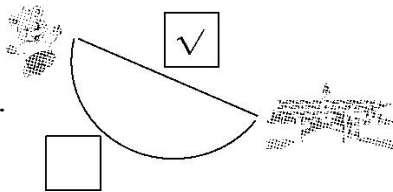
四、1.

[点拨]坐轮椅的小朋友实际身高要高。

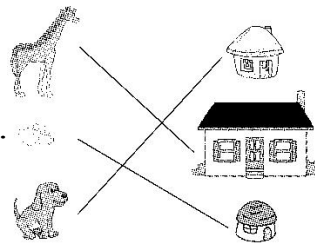
2.

五、

六、1.



2.



3. 小峰

4.

