






A



B



C

3. 下面的( )在 4 和 5 之间。

A. 5.2

B. 1.4

C. 4.9

#### 四、计算挑战。(共 14 分)

1. 口算。(每题 1 分，共 8 分)

$1.2 + 2.4 =$

$7.9 - 2.4 =$

$8.8 - 7.2 =$

$4.3 + 0.5 =$

$6.3 + 3.4 =$

$9.3 - 4.5 =$

$6.8 - 1.2 =$

$0.9 + 0.7 =$

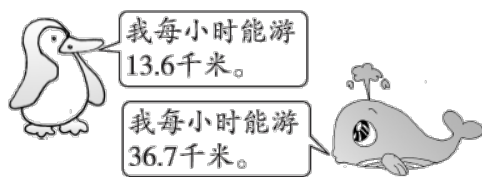
2. 列竖式计算。(每题 3 分，共 6 分)

$4.7 + 2.9 =$

$13.6 + 1.8 =$

#### 五、走进生活，解决问题。(每题 10 分，共 50 分)

1. 鲸鱼每小时比企鹅快多少千米?



2. 爸爸从家到单位要走 2.4 千米，一天，他走了 0.5 千米后发现有一份文件忘了拿，于是又回家取文件，这样他到单位一共要走多少





千米？

3. 买生活用品。



5.6元



6.8元



6.5元



2.8元

(1)奶奶带了15元，买了一块香皂，还想买一条毛巾和一支牙膏，钱够吗？

(2)如果她想把牙膏换成水杯，钱够吗？

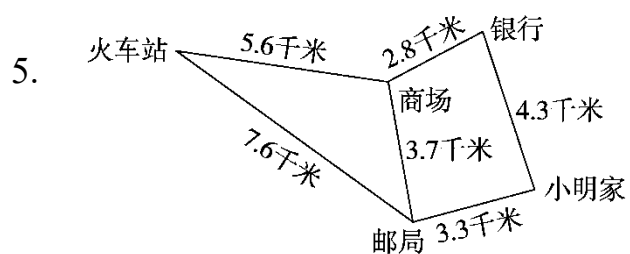
4. 妈妈上班为赶时间坐了出租车，到单位时出租车的里程表显示是6千米。她应付车费多少钱？

出租车收费标准

3千米以内收费：13元

每增加2.3元





(1)从小明家到火车站哪条路最近？要走多少千米？

(2)从邮局到银行哪条路最近？是多少千米？





## 答案

一、1.  $\frac{5}{10}$  0.5  $\frac{32}{100}$  0.32 1.76

2. 1.2

3. 小萍

4. 1.7 6.3

5. 0.8 0.7 4.3 2.7

6. 40.04 [点拨]先写出4004, 再根据要求确定小数点的位置。

二、1.√ 2.× 3.×

三、1.B 2.A 3.C

四、1.3.6 5.5 1.6 4.8 9.7 4.8 5.6 1.6

2.  $4.7+2.9=7.6$        $13.6+1.8=15.4$

$$\begin{array}{r} 4.7 \\ + 2.9 \\ \hline 7.6 \end{array}$$

$$\begin{array}{r} 13.6 \\ + 1.8 \\ \hline 15.4 \end{array}$$

五、 $1.36.7-13.6=23.1$ (千米)

答: 鲸鱼每小时比企鹅快 23.1 千米。

2.  $2.4+0.5+0.5=3.4$ (千米)

答: 他到单位一共要走 3.4 千米。

3. (1) $2.8+5.6+6.5=14.9$ (元)

14.  $9 < 15$

答: 钱够。

(2) $6.8-6.5=0.3$ (元)





$$15 - 14.9 = 0.1(\text{元})$$

$$0.3 > 0.1$$

答：钱不够。

4.  $6 - 3 = 3(\text{千米})$

$$13 + 2.3 + 2.3 + 2.3 = 19.9(\text{元})$$

$$19.9 + 1 = 20.9(\text{元})$$

答：她应付车费 20.9 元。

[点拨]“每增加 1 千米增加 2.3 元”，一共增加了 3 千米，因此要加 3 个 2.3。

5. (1)  $3.3 + 7.6 = 10.9(\text{千米})$

答：从小明家经过邮局再到火车站，这条路最近，要走 10.9 千米。

(2)  $3.3 + 4.3 = 7.6(\text{千米})$

$$3.7 + 2.8 = 6.5(\text{千米})$$

$$6.5 < 7.6$$

答：从邮局到商场再到银行，这条路最近，是 6.5 千米。

